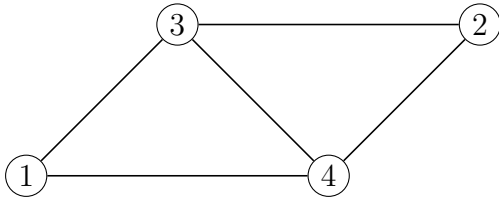


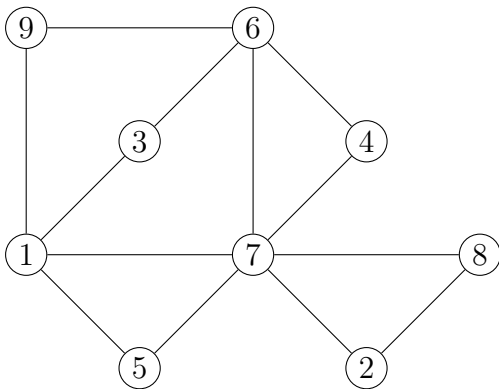
Aufgabe 3

Existiert eine Eulertour oder ein Eulerpfad? Falls ja, bestimme eine(n) mit dem Algorithmus von Hierholzer. Gibt es auch ein Hamiltonkreis? Wenn ja, gib einen an.



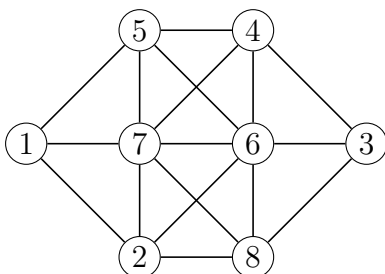
Aufgabe 5

Existiert eine Eulertour oder ein Eulerpfad? Falls ja, bestimme eine(n) mit dem Algorithmus von Hierholzer. Gibt es auch ein Hamiltonkreis? Wenn ja, gib einen an.



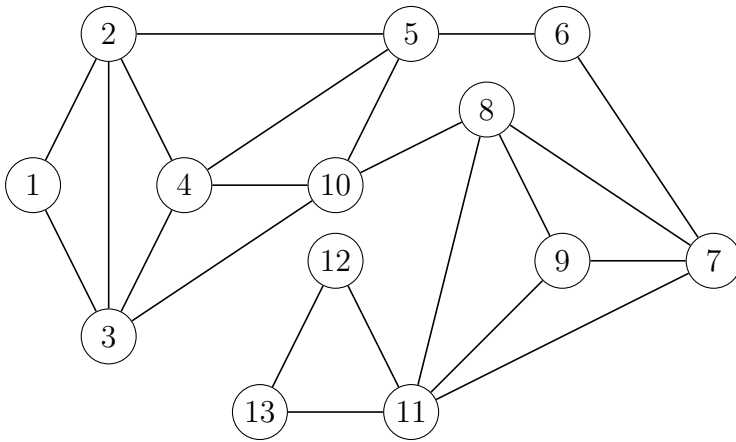
Aufgabe 6

Existiert eine Eulertour oder ein Eulerpfad? Falls ja, bestimme eine(n) mit dem Algorithmus von Hierholzer. Gibt es auch ein Hamiltonkreis? Wenn ja, gib einen an.



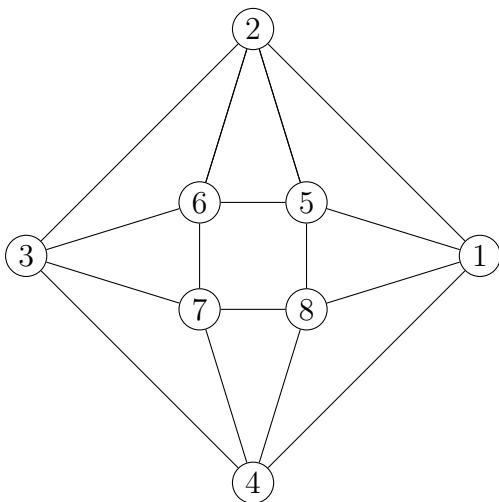
Aufgabe 7

Überprüfe, ob eine Eulertour oder ein Eulerpfad existiert. Falls ja, bestimme eine (einen) mit dem Algorithmus von Hierholzer. Gibt es auch einen Hamiltonkreis oder einen Hamiltonweg? Wenn ja, gib einen an.



Aufgabe 8

Existiert eine Eulertour oder ein Eulerpfad? Falls ja, bestimme eine(n) mit dem Algorithmus von Hierholzer. Gibt es auch ein Hamiltonkreis? Wenn ja, gib einen an.



Aufgabe 9

Existiert eine Eulertour oder ein Eulerpfad? Falls ja, bestimme eine(n) mit dem Algorithmus von Hierholzer. Gibt es auch ein Hamiltonkreis? Wenn ja, gib einen an.

