

# Vektorgeometrie (II)

## Theorie

23. Januar 2026

Bereits bekannt:  $\alpha \cdot \begin{pmatrix} x \\ y \\ z \end{pmatrix} = \begin{pmatrix} \alpha x \\ \alpha y \\ \alpha z \end{pmatrix}$

Skalar · Vektor = Vektor

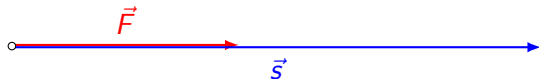
*Wenn eine Kraft einen Körper auf einem bestimmten Weg verschiebt, so verrichtet sie am Körper Arbeit.*

*Wenn eine Kraft einen Körper auf einem bestimmten Weg verschiebt, so verrichtet sie am Körper Arbeit.*

Wenn eine konstante Kraft vom Betrag  $F$  einen Körper entlang einer Geraden  $g$  um den Weg  $s$  verschiebt, so ist die geleistete Arbeit das Produkt aus Kraft und Weg:

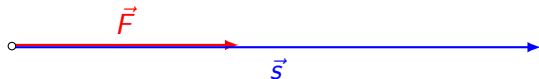
*Wenn eine Kraft einen Körper auf einem bestimmten Weg verschiebt, so verrichtet sie am Körper Arbeit.*

Wenn eine konstante Kraft vom Betrag  $F$  einen Körper entlang einer Geraden  $g$  um den Weg  $s$  verschiebt, so ist die geleistete Arbeit das Produkt aus Kraft und Weg:



*Wenn eine Kraft einen Körper auf einem bestimmten Weg verschiebt, so verrichtet sie am Körper Arbeit.*

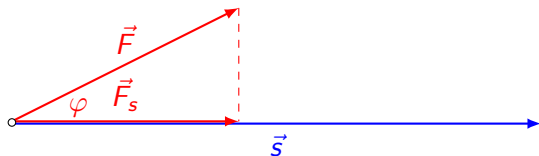
Wenn eine konstante Kraft vom Betrag  $F$  einen Körper entlang einer Geraden  $g$  um den Weg  $s$  verschiebt, so ist die geleistete Arbeit das Produkt aus Kraft und Weg:



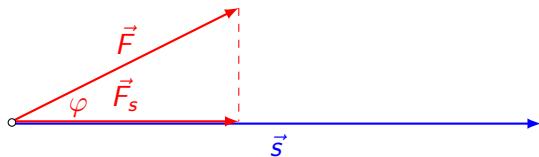
$$W = |\vec{F}| \cdot |\vec{s}| \quad \text{falls } \vec{F} \uparrow\uparrow \vec{s}$$

$$W = -|\vec{F}| \cdot |\vec{s}| \quad \text{falls } \vec{F} \uparrow\downarrow \vec{s}$$

Schliesst eine konstante Kraft  $\vec{F}$  mit der Wegrichtung einen Winkel von  $\varphi$  ein, so ist die geleistete Arbeit das Produkt aus der Kraft in Wegrichtung  $\vec{F}_s$  und dem Weg  $\vec{s}$ :

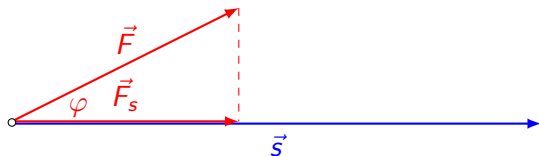


Schliesst eine konstante Kraft  $\vec{F}$  mit der Wegrichtung einen Winkel von  $\varphi$  ein, so ist die geleistete Arbeit das Produkt aus der Kraft in Wegrichtung  $\vec{F}_s$  und dem Weg  $\vec{s}$ :



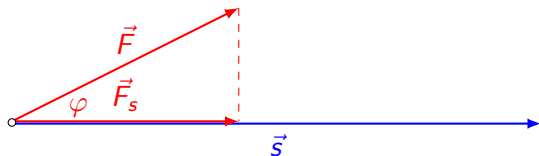
$$W = |\vec{F}| \cdot |\vec{s}| \cdot \cos \varphi$$

Schliesst eine konstante Kraft  $\vec{F}$  mit der Wegrichtung einen Winkel von  $\varphi$  ein, so ist die geleistete Arbeit das Produkt aus der Kraft in Wegrichtung  $\vec{F}_s$  und dem Weg  $\vec{s}$ :



$$W = |\vec{F}| \cdot |\vec{s}| \cdot \cos \varphi \stackrel{\text{Def}}{=} \vec{F} \cdot \vec{s} \quad (\text{Fundamentum: S. 84})$$

Schliesst eine konstante Kraft  $\vec{F}$  mit der Wegrichtung einen Winkel von  $\varphi$  ein, so ist die geleistete Arbeit das Produkt aus der Kraft in Wegrichtung  $\vec{F}_s$  und dem Weg  $\vec{s}$ :



$$W = |\vec{F}| \cdot |\vec{s}| \cdot \cos \varphi \stackrel{\text{Def}}{=} \vec{F} \cdot \vec{s} \quad (\text{Fundamentum: S. 84})$$

Das Skalarprodukt zweier Vektoren ist das Produkt aus den Längen der beiden Vektoren und dem Cosinus des Zwischenwinkels.

## Beispiele

$$(a) \quad |\vec{F}| = 3, \quad |\vec{s}| = 5, \quad \varphi = 0^\circ;$$

## Beispiele

$$(a) \quad |\vec{F}| = 3, \quad |\vec{s}| = 5, \quad \varphi = 0^\circ; \quad W = 15$$

## Beispiele

(a)  $|\vec{F}| = 3$ ,  $|\vec{s}| = 5$ ,  $\varphi = 0^\circ$ ;  $W = 15$

(b)  $|\vec{F}| = 3$ ,  $|\vec{s}| = 5$ ,  $\varphi = 45^\circ$ ;

## Beispiele

(a)  $|\vec{F}| = 3$ ,  $|\vec{s}| = 5$ ,  $\varphi = 0^\circ$ ;  $W = 15$

(b)  $|\vec{F}| = 3$ ,  $|\vec{s}| = 5$ ,  $\varphi = 45^\circ$ ;  $W = 10.61$

## Beispiele

$$(a) \quad |\vec{F}| = 3, \quad |\vec{s}| = 5, \quad \varphi = 0^\circ; \quad W = 15$$

$$(b) \quad |\vec{F}| = 3, \quad |\vec{s}| = 5, \quad \varphi = 45^\circ; \quad W = 10.61$$

$$(c) \quad |\vec{F}| = 3, \quad |\vec{s}| = 5, \quad \varphi = 90^\circ;$$

## Beispiele

$$(a) \quad |\vec{F}| = 3, \quad |\vec{s}| = 5, \quad \varphi = 0^\circ; \quad W = 15$$

$$(b) \quad |\vec{F}| = 3, \quad |\vec{s}| = 5, \quad \varphi = 45^\circ; \quad W = 10.61$$

$$(c) \quad |\vec{F}| = 3, \quad |\vec{s}| = 5, \quad \varphi = 90^\circ; \quad W = 0$$

## Beispiele

$$(a) \quad |\vec{F}| = 3, \quad |\vec{s}| = 5, \quad \varphi = 0^\circ; \quad W = 15$$

$$(b) \quad |\vec{F}| = 3, \quad |\vec{s}| = 5, \quad \varphi = 45^\circ; \quad W = 10.61$$

$$(c) \quad |\vec{F}| = 3, \quad |\vec{s}| = 5, \quad \varphi = 90^\circ; \quad W = 0$$

$$(d) \quad |\vec{F}| = 3, \quad |\vec{s}| = 5, \quad \varphi = 135^\circ;$$

## Beispiele

$$(a) \quad |\vec{F}| = 3, \quad |\vec{s}| = 5, \quad \varphi = 0^\circ; \quad W = 15$$

$$(b) \quad |\vec{F}| = 3, \quad |\vec{s}| = 5, \quad \varphi = 45^\circ; \quad W = 10.61$$

$$(c) \quad |\vec{F}| = 3, \quad |\vec{s}| = 5, \quad \varphi = 90^\circ; \quad W = 0$$

$$(d) \quad |\vec{F}| = 3, \quad |\vec{s}| = 5, \quad \varphi = 135^\circ; \quad W = -10.61$$

## Beispiele

$$(a) \quad |\vec{F}| = 3, \quad |\vec{s}| = 5, \quad \varphi = 0^\circ; \quad W = 15$$

$$(b) \quad |\vec{F}| = 3, \quad |\vec{s}| = 5, \quad \varphi = 45^\circ; \quad W = 10.61$$

$$(c) \quad |\vec{F}| = 3, \quad |\vec{s}| = 5, \quad \varphi = 90^\circ; \quad W = 0$$

$$(d) \quad |\vec{F}| = 3, \quad |\vec{s}| = 5, \quad \varphi = 135^\circ; \quad W = -10.61$$

$$(e) \quad |\vec{F}| = 3, \quad |\vec{s}| = 5, \quad \varphi = 180^\circ;$$

## Beispiele

$$(a) \quad |\vec{F}| = 3, \quad |\vec{s}| = 5, \quad \varphi = 0^\circ; \quad W = 15$$

$$(b) \quad |\vec{F}| = 3, \quad |\vec{s}| = 5, \quad \varphi = 45^\circ; \quad W = 10.61$$

$$(c) \quad |\vec{F}| = 3, \quad |\vec{s}| = 5, \quad \varphi = 90^\circ; \quad W = 0$$

$$(d) \quad |\vec{F}| = 3, \quad |\vec{s}| = 5, \quad \varphi = 135^\circ; \quad W = -10.61$$

$$(e) \quad |\vec{F}| = 3, \quad |\vec{s}| = 5, \quad \varphi = 180^\circ; \quad W = -15$$

## Beispiele

$$(a) \quad |\vec{F}| = 3, \quad |\vec{s}| = 5, \quad \varphi = 0^\circ; \quad W = 15$$

$$(b) \quad |\vec{F}| = 3, \quad |\vec{s}| = 5, \quad \varphi = 45^\circ; \quad W = 10.61$$

$$(c) \quad |\vec{F}| = 3, \quad |\vec{s}| = 5, \quad \varphi = 90^\circ; \quad W = 0$$

$$(d) \quad |\vec{F}| = 3, \quad |\vec{s}| = 5, \quad \varphi = 135^\circ; \quad W = -10.61$$

$$(e) \quad |\vec{F}| = 3, \quad |\vec{s}| = 5, \quad \varphi = 180^\circ; \quad W = -15$$

$$(f) \quad |\vec{F}| = 3, \quad |\vec{s}| = 5, \quad \varphi = 225^\circ;$$

## Beispiele

$$(a) \quad |\vec{F}| = 3, \quad |\vec{s}| = 5, \quad \varphi = 0^\circ; \quad W = 15$$

$$(b) \quad |\vec{F}| = 3, \quad |\vec{s}| = 5, \quad \varphi = 45^\circ; \quad W = 10.61$$

$$(c) \quad |\vec{F}| = 3, \quad |\vec{s}| = 5, \quad \varphi = 90^\circ; \quad W = 0$$

$$(d) \quad |\vec{F}| = 3, \quad |\vec{s}| = 5, \quad \varphi = 135^\circ; \quad W = -10.61$$

$$(e) \quad |\vec{F}| = 3, \quad |\vec{s}| = 5, \quad \varphi = 180^\circ; \quad W = -15$$

$$(f) \quad |\vec{F}| = 3, \quad |\vec{s}| = 5, \quad \varphi = 225^\circ; \quad W = -10.61$$

## Beispiele

$$(a) \quad |\vec{F}| = 3, \quad |\vec{s}| = 5, \quad \varphi = 0^\circ; \quad W = 15$$

$$(b) \quad |\vec{F}| = 3, \quad |\vec{s}| = 5, \quad \varphi = 45^\circ; \quad W = 10.61$$

$$(c) \quad |\vec{F}| = 3, \quad |\vec{s}| = 5, \quad \varphi = 90^\circ; \quad W = 0$$

$$(d) \quad |\vec{F}| = 3, \quad |\vec{s}| = 5, \quad \varphi = 135^\circ; \quad W = -10.61$$

$$(e) \quad |\vec{F}| = 3, \quad |\vec{s}| = 5, \quad \varphi = 180^\circ; \quad W = -15$$

$$(f) \quad |\vec{F}| = 3, \quad |\vec{s}| = 5, \quad \varphi = 225^\circ; \quad W = -10.61$$

$$(g) \quad |\vec{F}| = 3, \quad |\vec{s}| = 5, \quad \varphi = 270^\circ;$$

## Beispiele

$$(a) \quad |\vec{F}| = 3, \quad |\vec{s}| = 5, \quad \varphi = 0^\circ; \quad W = 15$$

$$(b) \quad |\vec{F}| = 3, \quad |\vec{s}| = 5, \quad \varphi = 45^\circ; \quad W = 10.61$$

$$(c) \quad |\vec{F}| = 3, \quad |\vec{s}| = 5, \quad \varphi = 90^\circ; \quad W = 0$$

$$(d) \quad |\vec{F}| = 3, \quad |\vec{s}| = 5, \quad \varphi = 135^\circ; \quad W = -10.61$$

$$(e) \quad |\vec{F}| = 3, \quad |\vec{s}| = 5, \quad \varphi = 180^\circ; \quad W = -15$$

$$(f) \quad |\vec{F}| = 3, \quad |\vec{s}| = 5, \quad \varphi = 225^\circ; \quad W = -10.61$$

$$(g) \quad |\vec{F}| = 3, \quad |\vec{s}| = 5, \quad \varphi = 270^\circ; \quad W = 0$$

## Beispiele

$$(a) \quad |\vec{F}| = 3, \quad |\vec{s}| = 5, \quad \varphi = 0^\circ; \quad W = 15$$

$$(b) \quad |\vec{F}| = 3, \quad |\vec{s}| = 5, \quad \varphi = 45^\circ; \quad W = 10.61$$

$$(c) \quad |\vec{F}| = 3, \quad |\vec{s}| = 5, \quad \varphi = 90^\circ; \quad W = 0$$

$$(d) \quad |\vec{F}| = 3, \quad |\vec{s}| = 5, \quad \varphi = 135^\circ; \quad W = -10.61$$

$$(e) \quad |\vec{F}| = 3, \quad |\vec{s}| = 5, \quad \varphi = 180^\circ; \quad W = -15$$

$$(f) \quad |\vec{F}| = 3, \quad |\vec{s}| = 5, \quad \varphi = 225^\circ; \quad W = -10.61$$

$$(g) \quad |\vec{F}| = 3, \quad |\vec{s}| = 5, \quad \varphi = 270^\circ; \quad W = 0$$

$$(h) \quad |\vec{F}| = 3, \quad |\vec{s}| = 5, \quad \varphi = 315^\circ;$$

## Beispiele

$$(a) \quad |\vec{F}| = 3, \quad |\vec{s}| = 5, \quad \varphi = 0^\circ; \quad W = 15$$

$$(b) \quad |\vec{F}| = 3, \quad |\vec{s}| = 5, \quad \varphi = 45^\circ; \quad W = 10.61$$

$$(c) \quad |\vec{F}| = 3, \quad |\vec{s}| = 5, \quad \varphi = 90^\circ; \quad W = 0$$

$$(d) \quad |\vec{F}| = 3, \quad |\vec{s}| = 5, \quad \varphi = 135^\circ; \quad W = -10.61$$

$$(e) \quad |\vec{F}| = 3, \quad |\vec{s}| = 5, \quad \varphi = 180^\circ; \quad W = -15$$

$$(f) \quad |\vec{F}| = 3, \quad |\vec{s}| = 5, \quad \varphi = 225^\circ; \quad W = -10.61$$

$$(g) \quad |\vec{F}| = 3, \quad |\vec{s}| = 5, \quad \varphi = 270^\circ; \quad W = 0$$

$$(h) \quad |\vec{F}| = 3, \quad |\vec{s}| = 5, \quad \varphi = 315^\circ; \quad W = 10.61$$

In Zukunft verwenden wir statt  $\vec{F}$  und  $\vec{s}$  allgemeine Bezeichnungen wie  $\vec{a}$  und  $\vec{b}$ .

Für Vektoren  $\vec{a}$  und  $\vec{b}$  mit  $\vec{a} \neq \vec{0}$  und  $\vec{b} \neq \vec{0}$  gilt:

► Aus  $\vec{a} \perp \vec{b}$  folgt:

In Zukunft verwenden wir statt  $\vec{F}$  und  $\vec{s}$  allgemeine Bezeichnungen wie  $\vec{a}$  und  $\vec{b}$ .

Für Vektoren  $\vec{a}$  und  $\vec{b}$  mit  $\vec{a} \neq \vec{0}$  und  $\vec{b} \neq \vec{0}$  gilt:

► Aus  $\vec{a} \perp \vec{b}$  folgt:

$$\vec{a} \cdot \vec{b} = |\vec{a}| \cdot |\vec{b}| \cdot \cos 90^\circ$$

In Zukunft verwenden wir statt  $\vec{F}$  und  $\vec{s}$  allgemeine Bezeichnungen wie  $\vec{a}$  und  $\vec{b}$ .

Für Vektoren  $\vec{a}$  und  $\vec{b}$  mit  $\vec{a} \neq \vec{0}$  und  $\vec{b} \neq \vec{0}$  gilt:

► Aus  $\vec{a} \perp \vec{b}$  folgt:

$$\vec{a} \cdot \vec{b} = |\vec{a}| \cdot |\vec{b}| \cdot \cos 90^\circ = |\vec{a}| \cdot |\vec{b}| \cdot 0$$

In Zukunft verwenden wir statt  $\vec{F}$  und  $\vec{s}$  allgemeine Bezeichnungen wie  $\vec{a}$  und  $\vec{b}$ .

Für Vektoren  $\vec{a}$  und  $\vec{b}$  mit  $\vec{a} \neq \vec{0}$  und  $\vec{b} \neq \vec{0}$  gilt:

► Aus  $\vec{a} \perp \vec{b}$  folgt:

$$\vec{a} \cdot \vec{b} = |\vec{a}| \cdot |\vec{b}| \cdot \cos 90^\circ = |\vec{a}| \cdot |\vec{b}| \cdot 0 = 0$$

In Zukunft verwenden wir statt  $\vec{F}$  und  $\vec{s}$  allgemeine Bezeichnungen wie  $\vec{a}$  und  $\vec{b}$ .

Für Vektoren  $\vec{a}$  und  $\vec{b}$  mit  $\vec{a} \neq \vec{0}$  und  $\vec{b} \neq \vec{0}$  gilt:

► Aus  $\vec{a} \perp \vec{b}$  folgt:

$$\vec{a} \cdot \vec{b} = |\vec{a}| \cdot |\vec{b}| \cdot \cos 90^\circ = |\vec{a}| \cdot |\vec{b}| \cdot 0 = 0$$

► Aus  $\vec{a} \cdot \vec{b} = 0$  folgt:

In Zukunft verwenden wir statt  $\vec{F}$  und  $\vec{s}$  allgemeine Bezeichnungen wie  $\vec{a}$  und  $\vec{b}$ .

Für Vektoren  $\vec{a}$  und  $\vec{b}$  mit  $\vec{a} \neq \vec{0}$  und  $\vec{b} \neq \vec{0}$  gilt:

- ▶ Aus  $\vec{a} \perp \vec{b}$  folgt:

$$\vec{a} \cdot \vec{b} = |\vec{a}| \cdot |\vec{b}| \cdot \cos 90^\circ = |\vec{a}| \cdot |\vec{b}| \cdot 0 = 0$$

- ▶ Aus  $\vec{a} \cdot \vec{b} = 0$  folgt:

$$|\vec{a}| \cdot |\vec{b}| \cdot \cos \varphi = 0 \quad \Rightarrow$$

In Zukunft verwenden wir statt  $\vec{F}$  und  $\vec{s}$  allgemeine Bezeichnungen wie  $\vec{a}$  und  $\vec{b}$ .

Für Vektoren  $\vec{a}$  und  $\vec{b}$  mit  $\vec{a} \neq \vec{0}$  und  $\vec{b} \neq \vec{0}$  gilt:

- ▶ Aus  $\vec{a} \perp \vec{b}$  folgt:

$$\vec{a} \cdot \vec{b} = |\vec{a}| \cdot |\vec{b}| \cdot \cos 90^\circ = |\vec{a}| \cdot |\vec{b}| \cdot 0 = 0$$

- ▶ Aus  $\vec{a} \cdot \vec{b} = 0$  folgt:

$$|\vec{a}| \cdot |\vec{b}| \cdot \cos \varphi = 0 \quad \Rightarrow \quad \cos \varphi = 0 \quad \Rightarrow$$

In Zukunft verwenden wir statt  $\vec{F}$  und  $\vec{s}$  allgemeine Bezeichnungen wie  $\vec{a}$  und  $\vec{b}$ .

Für Vektoren  $\vec{a}$  und  $\vec{b}$  mit  $\vec{a} \neq \vec{0}$  und  $\vec{b} \neq \vec{0}$  gilt:

- ▶ Aus  $\vec{a} \perp \vec{b}$  folgt:

$$\vec{a} \cdot \vec{b} = |\vec{a}| \cdot |\vec{b}| \cdot \cos 90^\circ = |\vec{a}| \cdot |\vec{b}| \cdot 0 = 0$$

- ▶ Aus  $\vec{a} \cdot \vec{b} = 0$  folgt:

$$|\vec{a}| \cdot |\vec{b}| \cdot \cos \varphi = 0 \quad \Rightarrow \quad \cos \varphi = 0 \quad \Rightarrow \quad \varphi = 90^\circ$$

## Skalarprodukt in Komponentenform

Die Definition des Skalarprodukts ist unpraktisch, wenn die Vektoren in der Komponentenschreibweise gegeben sind. Daher leiten wir jetzt für diesen Fall eine zweite, gleichwertige Berechnungsvorschrift für das Skalarprodukt her.

*Zur Erinnerung:* Eine orthonormierte Basis in einem  $n$ -dimensionalen Vektorraum ist eine Folge von  $n$  Vektoren, die jeweils paarweise senkrecht aufeinander stehen und alle die Länge 1 haben.

Ist  $\vec{e}_1, \vec{e}_2, \vec{e}_3$  eine orthonormierte Basis des dreidimensionalen Raumes, so gilt:

Ist  $\vec{e}_1, \vec{e}_2, \vec{e}_3$  eine orthonormierte Basis des dreidimensionalen Raumes, so gilt:

$$\vec{e}_1 \cdot \vec{e}_1$$

Ist  $\vec{e}_1, \vec{e}_2, \vec{e}_3$  eine orthonormierte Basis des dreidimensionalen Raumes, so gilt:

$$\vec{e}_1 \cdot \vec{e}_1 = |\vec{e}_1| \cdot |\vec{e}_1| \cdot \cos 0^\circ$$

Ist  $\vec{e}_1, \vec{e}_2, \vec{e}_3$  eine orthonormierte Basis des dreidimensionalen Raumes, so gilt:

$$\vec{e}_1 \cdot \vec{e}_1 = |\vec{e}_1| \cdot |\vec{e}_1| \cdot \cos 0^\circ = 1 \cdot 1 \cdot \cos 0^\circ$$

Ist  $\vec{e}_1, \vec{e}_2, \vec{e}_3$  eine orthonormierte Basis des dreidimensionalen Raumes, so gilt:

$$\vec{e}_1 \cdot \vec{e}_1 = |\vec{e}_1| \cdot |\vec{e}_1| \cdot \cos 0^\circ = 1 \cdot 1 \cdot \cos 0^\circ = 1$$

Ist  $\vec{e}_1, \vec{e}_2, \vec{e}_3$  eine orthonormierte Basis des dreidimensionalen Raumes, so gilt:

$$\vec{e}_1 \cdot \vec{e}_1 = |\vec{e}_1| \cdot |\vec{e}_1| \cdot \cos 0^\circ = 1 \cdot 1 \cdot \cos 0^\circ = 1$$

$$\vec{e}_2 \cdot \vec{e}_2$$

Ist  $\vec{e}_1, \vec{e}_2, \vec{e}_3$  eine orthonormierte Basis des dreidimensionalen Raumes, so gilt:

$$\vec{e}_1 \cdot \vec{e}_1 = |\vec{e}_1| \cdot |\vec{e}_1| \cdot \cos 0^\circ = 1 \cdot 1 \cdot \cos 0^\circ = 1$$

$$\vec{e}_2 \cdot \vec{e}_2 = |\vec{e}_2| \cdot |\vec{e}_2| \cdot \cos 0^\circ$$

Ist  $\vec{e}_1, \vec{e}_2, \vec{e}_3$  eine orthonormierte Basis des dreidimensionalen Raumes, so gilt:

$$\vec{e}_1 \cdot \vec{e}_1 = |\vec{e}_1| \cdot |\vec{e}_1| \cdot \cos 0^\circ = 1 \cdot 1 \cdot \cos 0^\circ = 1$$

$$\vec{e}_2 \cdot \vec{e}_2 = |\vec{e}_2| \cdot |\vec{e}_2| \cdot \cos 0^\circ = 1 \cdot 1 \cdot \cos 0^\circ$$

Ist  $\vec{e}_1, \vec{e}_2, \vec{e}_3$  eine orthonormierte Basis des dreidimensionalen Raumes, so gilt:

$$\vec{e}_1 \cdot \vec{e}_1 = |\vec{e}_1| \cdot |\vec{e}_1| \cdot \cos 0^\circ = 1 \cdot 1 \cdot \cos 0^\circ = 1$$

$$\vec{e}_2 \cdot \vec{e}_2 = |\vec{e}_2| \cdot |\vec{e}_2| \cdot \cos 0^\circ = 1 \cdot 1 \cdot \cos 0^\circ = 1$$

Ist  $\vec{e}_1, \vec{e}_2, \vec{e}_3$  eine orthonormierte Basis des dreidimensionalen Raumes, so gilt:

$$\vec{e}_1 \cdot \vec{e}_1 = |\vec{e}_1| \cdot |\vec{e}_1| \cdot \cos 0^\circ = 1 \cdot 1 \cdot \cos 0^\circ = 1$$

$$\vec{e}_2 \cdot \vec{e}_2 = |\vec{e}_2| \cdot |\vec{e}_2| \cdot \cos 0^\circ = 1 \cdot 1 \cdot \cos 0^\circ = 1$$

$$\vec{e}_3 \cdot \vec{e}_3$$

Ist  $\vec{e}_1, \vec{e}_2, \vec{e}_3$  eine orthonormierte Basis des dreidimensionalen Raumes, so gilt:

$$\vec{e}_1 \cdot \vec{e}_1 = |\vec{e}_1| \cdot |\vec{e}_1| \cdot \cos 0^\circ = 1 \cdot 1 \cdot \cos 0^\circ = 1$$

$$\vec{e}_2 \cdot \vec{e}_2 = |\vec{e}_2| \cdot |\vec{e}_2| \cdot \cos 0^\circ = 1 \cdot 1 \cdot \cos 0^\circ = 1$$

$$\vec{e}_3 \cdot \vec{e}_3 = |\vec{e}_3| \cdot |\vec{e}_3| \cdot \cos 0^\circ = 1 \cdot 1 \cdot \cos 0^\circ = 1$$

Ist  $\vec{e}_1, \vec{e}_2, \vec{e}_3$  eine orthonormierte Basis des dreidimensionalen Raumes, so gilt:

$$\vec{e}_1 \cdot \vec{e}_1 = |\vec{e}_1| \cdot |\vec{e}_1| \cdot \cos 0^\circ = 1 \cdot 1 \cdot \cos 0^\circ = 1$$

$$\vec{e}_2 \cdot \vec{e}_2 = |\vec{e}_2| \cdot |\vec{e}_2| \cdot \cos 0^\circ = 1 \cdot 1 \cdot \cos 0^\circ = 1$$

$$\vec{e}_3 \cdot \vec{e}_3 = |\vec{e}_3| \cdot |\vec{e}_3| \cdot \cos 0^\circ = 1 \cdot 1 \cdot \cos 0^\circ = 1$$

$$\vec{e}_1 \cdot \vec{e}_2$$

Ist  $\vec{e}_1, \vec{e}_2, \vec{e}_3$  eine orthonormierte Basis des dreidimensionalen Raumes, so gilt:

$$\vec{e}_1 \cdot \vec{e}_1 = |\vec{e}_1| \cdot |\vec{e}_1| \cdot \cos 0^\circ = 1 \cdot 1 \cdot \cos 0^\circ = 1$$

$$\vec{e}_2 \cdot \vec{e}_2 = |\vec{e}_2| \cdot |\vec{e}_2| \cdot \cos 0^\circ = 1 \cdot 1 \cdot \cos 0^\circ = 1$$

$$\vec{e}_3 \cdot \vec{e}_3 = |\vec{e}_3| \cdot |\vec{e}_3| \cdot \cos 0^\circ = 1 \cdot 1 \cdot \cos 0^\circ = 1$$

$$\vec{e}_1 \cdot \vec{e}_2 = |\vec{e}_1| \cdot |\vec{e}_2| \cdot \cos 90^\circ$$

Ist  $\vec{e}_1, \vec{e}_2, \vec{e}_3$  eine orthonormierte Basis des dreidimensionalen Raumes, so gilt:

$$\vec{e}_1 \cdot \vec{e}_1 = |\vec{e}_1| \cdot |\vec{e}_1| \cdot \cos 0^\circ = 1 \cdot 1 \cdot \cos 0^\circ = 1$$

$$\vec{e}_2 \cdot \vec{e}_2 = |\vec{e}_2| \cdot |\vec{e}_2| \cdot \cos 0^\circ = 1 \cdot 1 \cdot \cos 0^\circ = 1$$

$$\vec{e}_3 \cdot \vec{e}_3 = |\vec{e}_3| \cdot |\vec{e}_3| \cdot \cos 0^\circ = 1 \cdot 1 \cdot \cos 0^\circ = 1$$

$$\vec{e}_1 \cdot \vec{e}_2 = |\vec{e}_1| \cdot |\vec{e}_2| \cdot \cos 90^\circ = 1 \cdot 1 \cdot \cos 90^\circ$$

Ist  $\vec{e}_1, \vec{e}_2, \vec{e}_3$  eine orthonormierte Basis des dreidimensionalen Raumes, so gilt:

$$\vec{e}_1 \cdot \vec{e}_1 = |\vec{e}_1| \cdot |\vec{e}_1| \cdot \cos 0^\circ = 1 \cdot 1 \cdot \cos 0^\circ = 1$$

$$\vec{e}_2 \cdot \vec{e}_2 = |\vec{e}_2| \cdot |\vec{e}_2| \cdot \cos 0^\circ = 1 \cdot 1 \cdot \cos 0^\circ = 1$$

$$\vec{e}_3 \cdot \vec{e}_3 = |\vec{e}_3| \cdot |\vec{e}_3| \cdot \cos 0^\circ = 1 \cdot 1 \cdot \cos 0^\circ = 1$$

$$\vec{e}_1 \cdot \vec{e}_2 = |\vec{e}_1| \cdot |\vec{e}_2| \cdot \cos 90^\circ = 1 \cdot 1 \cdot \cos 90^\circ = 0$$

Ist  $\vec{e}_1, \vec{e}_2, \vec{e}_3$  eine orthonormierte Basis des dreidimensionalen Raumes, so gilt:

$$\vec{e}_1 \cdot \vec{e}_1 = |\vec{e}_1| \cdot |\vec{e}_1| \cdot \cos 0^\circ = 1 \cdot 1 \cdot \cos 0^\circ = 1$$

$$\vec{e}_2 \cdot \vec{e}_2 = |\vec{e}_2| \cdot |\vec{e}_2| \cdot \cos 0^\circ = 1 \cdot 1 \cdot \cos 0^\circ = 1$$

$$\vec{e}_3 \cdot \vec{e}_3 = |\vec{e}_3| \cdot |\vec{e}_3| \cdot \cos 0^\circ = 1 \cdot 1 \cdot \cos 0^\circ = 1$$

$$\vec{e}_1 \cdot \vec{e}_2 = |\vec{e}_1| \cdot |\vec{e}_2| \cdot \cos 90^\circ = 1 \cdot 1 \cdot \cos 90^\circ = 0$$

$$\vec{e}_2 \cdot \vec{e}_3$$

Ist  $\vec{e}_1, \vec{e}_2, \vec{e}_3$  eine orthonormierte Basis des dreidimensionalen Raumes, so gilt:

$$\vec{e}_1 \cdot \vec{e}_1 = |\vec{e}_1| \cdot |\vec{e}_1| \cdot \cos 0^\circ = 1 \cdot 1 \cdot \cos 0^\circ = 1$$

$$\vec{e}_2 \cdot \vec{e}_2 = |\vec{e}_2| \cdot |\vec{e}_2| \cdot \cos 0^\circ = 1 \cdot 1 \cdot \cos 0^\circ = 1$$

$$\vec{e}_3 \cdot \vec{e}_3 = |\vec{e}_3| \cdot |\vec{e}_3| \cdot \cos 0^\circ = 1 \cdot 1 \cdot \cos 0^\circ = 1$$

$$\vec{e}_1 \cdot \vec{e}_2 = |\vec{e}_1| \cdot |\vec{e}_2| \cdot \cos 90^\circ = 1 \cdot 1 \cdot \cos 90^\circ = 0$$

$$\vec{e}_2 \cdot \vec{e}_3 = |\vec{e}_2| \cdot |\vec{e}_3| \cdot \cos 90^\circ$$

Ist  $\vec{e}_1, \vec{e}_2, \vec{e}_3$  eine orthonormierte Basis des dreidimensionalen Raumes, so gilt:

$$\vec{e}_1 \cdot \vec{e}_1 = |\vec{e}_1| \cdot |\vec{e}_1| \cdot \cos 0^\circ = 1 \cdot 1 \cdot \cos 0^\circ = 1$$

$$\vec{e}_2 \cdot \vec{e}_2 = |\vec{e}_2| \cdot |\vec{e}_2| \cdot \cos 0^\circ = 1 \cdot 1 \cdot \cos 0^\circ = 1$$

$$\vec{e}_3 \cdot \vec{e}_3 = |\vec{e}_3| \cdot |\vec{e}_3| \cdot \cos 0^\circ = 1 \cdot 1 \cdot \cos 0^\circ = 1$$

$$\vec{e}_1 \cdot \vec{e}_2 = |\vec{e}_1| \cdot |\vec{e}_2| \cdot \cos 90^\circ = 1 \cdot 1 \cdot \cos 90^\circ = 0$$

$$\vec{e}_2 \cdot \vec{e}_3 = |\vec{e}_2| \cdot |\vec{e}_3| \cdot \cos 90^\circ = 1 \cdot 1 \cdot \cos 90^\circ = 0$$

Ist  $\vec{e}_1, \vec{e}_2, \vec{e}_3$  eine orthonormierte Basis des dreidimensionalen Raumes, so gilt:

$$\vec{e}_1 \cdot \vec{e}_1 = |\vec{e}_1| \cdot |\vec{e}_1| \cdot \cos 0^\circ = 1 \cdot 1 \cdot \cos 0^\circ = 1$$

$$\vec{e}_2 \cdot \vec{e}_2 = |\vec{e}_2| \cdot |\vec{e}_2| \cdot \cos 0^\circ = 1 \cdot 1 \cdot \cos 0^\circ = 1$$

$$\vec{e}_3 \cdot \vec{e}_3 = |\vec{e}_3| \cdot |\vec{e}_3| \cdot \cos 0^\circ = 1 \cdot 1 \cdot \cos 0^\circ = 1$$

$$\vec{e}_1 \cdot \vec{e}_2 = |\vec{e}_1| \cdot |\vec{e}_2| \cdot \cos 90^\circ = 1 \cdot 1 \cdot \cos 90^\circ = 0$$

$$\vec{e}_2 \cdot \vec{e}_3 = |\vec{e}_2| \cdot |\vec{e}_3| \cdot \cos 90^\circ = 1 \cdot 1 \cdot \cos 90^\circ = 0$$

Ist  $\vec{e}_1, \vec{e}_2, \vec{e}_3$  eine orthonormierte Basis des dreidimensionalen Raumes, so gilt:

$$\vec{e}_1 \cdot \vec{e}_1 = |\vec{e}_1| \cdot |\vec{e}_1| \cdot \cos 0^\circ = 1 \cdot 1 \cdot \cos 0^\circ = 1$$

$$\vec{e}_2 \cdot \vec{e}_2 = |\vec{e}_2| \cdot |\vec{e}_2| \cdot \cos 0^\circ = 1 \cdot 1 \cdot \cos 0^\circ = 1$$

$$\vec{e}_3 \cdot \vec{e}_3 = |\vec{e}_3| \cdot |\vec{e}_3| \cdot \cos 0^\circ = 1 \cdot 1 \cdot \cos 0^\circ = 1$$

$$\vec{e}_1 \cdot \vec{e}_2 = |\vec{e}_1| \cdot |\vec{e}_2| \cdot \cos 90^\circ = 1 \cdot 1 \cdot \cos 90^\circ = 0$$

$$\vec{e}_2 \cdot \vec{e}_3 = |\vec{e}_2| \cdot |\vec{e}_3| \cdot \cos 90^\circ = 1 \cdot 1 \cdot \cos 90^\circ = 0$$

$$\vec{e}_3 \cdot \vec{e}_1$$

Ist  $\vec{e}_1, \vec{e}_2, \vec{e}_3$  eine orthonormierte Basis des dreidimensionalen Raumes, so gilt:

$$\vec{e}_1 \cdot \vec{e}_1 = |\vec{e}_1| \cdot |\vec{e}_1| \cdot \cos 0^\circ = 1 \cdot 1 \cdot \cos 0^\circ = 1$$

$$\vec{e}_2 \cdot \vec{e}_2 = |\vec{e}_2| \cdot |\vec{e}_2| \cdot \cos 0^\circ = 1 \cdot 1 \cdot \cos 0^\circ = 1$$

$$\vec{e}_3 \cdot \vec{e}_3 = |\vec{e}_3| \cdot |\vec{e}_3| \cdot \cos 0^\circ = 1 \cdot 1 \cdot \cos 0^\circ = 1$$

$$\vec{e}_1 \cdot \vec{e}_2 = |\vec{e}_1| \cdot |\vec{e}_2| \cdot \cos 90^\circ = 1 \cdot 1 \cdot \cos 90^\circ = 0$$

$$\vec{e}_2 \cdot \vec{e}_3 = |\vec{e}_2| \cdot |\vec{e}_3| \cdot \cos 90^\circ = 1 \cdot 1 \cdot \cos 90^\circ = 0$$

$$\vec{e}_3 \cdot \vec{e}_1 = |\vec{e}_3| \cdot |\vec{e}_1| \cdot \cos 90^\circ$$

Ist  $\vec{e}_1, \vec{e}_2, \vec{e}_3$  eine orthonormierte Basis des dreidimensionalen Raumes, so gilt:

$$\vec{e}_1 \cdot \vec{e}_1 = |\vec{e}_1| \cdot |\vec{e}_1| \cdot \cos 0^\circ = 1 \cdot 1 \cdot \cos 0^\circ = 1$$

$$\vec{e}_2 \cdot \vec{e}_2 = |\vec{e}_2| \cdot |\vec{e}_2| \cdot \cos 0^\circ = 1 \cdot 1 \cdot \cos 0^\circ = 1$$

$$\vec{e}_3 \cdot \vec{e}_3 = |\vec{e}_3| \cdot |\vec{e}_3| \cdot \cos 0^\circ = 1 \cdot 1 \cdot \cos 0^\circ = 1$$

$$\vec{e}_1 \cdot \vec{e}_2 = |\vec{e}_1| \cdot |\vec{e}_2| \cdot \cos 90^\circ = 1 \cdot 1 \cdot \cos 90^\circ = 0$$

$$\vec{e}_2 \cdot \vec{e}_3 = |\vec{e}_2| \cdot |\vec{e}_3| \cdot \cos 90^\circ = 1 \cdot 1 \cdot \cos 90^\circ = 0$$

$$\vec{e}_3 \cdot \vec{e}_1 = |\vec{e}_3| \cdot |\vec{e}_1| \cdot \cos 90^\circ = 1 \cdot 1 \cdot \cos 90^\circ = 0$$

Ist  $\vec{e}_1, \vec{e}_2, \vec{e}_3$  eine orthonormierte Basis des dreidimensionalen Raumes, so gilt:

$$\vec{e}_1 \cdot \vec{e}_1 = |\vec{e}_1| \cdot |\vec{e}_1| \cdot \cos 0^\circ = 1 \cdot 1 \cdot \cos 0^\circ = 1$$

$$\vec{e}_2 \cdot \vec{e}_2 = |\vec{e}_2| \cdot |\vec{e}_2| \cdot \cos 0^\circ = 1 \cdot 1 \cdot \cos 0^\circ = 1$$

$$\vec{e}_3 \cdot \vec{e}_3 = |\vec{e}_3| \cdot |\vec{e}_3| \cdot \cos 0^\circ = 1 \cdot 1 \cdot \cos 0^\circ = 1$$

$$\vec{e}_1 \cdot \vec{e}_2 = |\vec{e}_1| \cdot |\vec{e}_2| \cdot \cos 90^\circ = 1 \cdot 1 \cdot \cos 90^\circ = 0$$

$$\vec{e}_2 \cdot \vec{e}_3 = |\vec{e}_2| \cdot |\vec{e}_3| \cdot \cos 90^\circ = 1 \cdot 1 \cdot \cos 90^\circ = 0$$

$$\vec{e}_3 \cdot \vec{e}_1 = |\vec{e}_3| \cdot |\vec{e}_1| \cdot \cos 90^\circ = 1 \cdot 1 \cdot \cos 90^\circ = 0$$

Für  $\vec{a} = a_1\vec{e}_1 + a_2\vec{e}_2 + a_3\vec{e}_3$  und  $\vec{b} = b_1\vec{e}_1 + b_2\vec{e}_2 + b_3\vec{e}_3$  gilt dann:

Für  $\vec{a} = a_1\vec{e}_1 + a_2\vec{e}_2 + a_3\vec{e}_3$  und  $\vec{b} = b_1\vec{e}_1 + b_2\vec{e}_2 + b_3\vec{e}_3$  gilt dann:

$$\vec{a} \cdot \vec{b} =$$

Für  $\vec{a} = a_1\vec{e}_1 + a_2\vec{e}_2 + a_3\vec{e}_3$  und  $\vec{b} = b_1\vec{e}_1 + b_2\vec{e}_2 + b_3\vec{e}_3$  gilt dann:

$$\vec{a} \cdot \vec{b} = (a_1\vec{e}_1 + a_2\vec{e}_2 + a_3\vec{e}_3) \cdot (b_1\vec{e}_1 + b_2\vec{e}_2 + b_3\vec{e}_3)$$
$$=$$

Für  $\vec{a} = a_1\vec{e}_1 + a_2\vec{e}_2 + a_3\vec{e}_3$  und  $\vec{b} = b_1\vec{e}_1 + b_2\vec{e}_2 + b_3\vec{e}_3$  gilt dann:

$$\begin{aligned}\vec{a} \cdot \vec{b} &= (a_1\vec{e}_1 + a_2\vec{e}_2 + a_3\vec{e}_3) \cdot (b_1\vec{e}_1 + b_2\vec{e}_2 + b_3\vec{e}_3) \\ &= a_1\vec{e}_1 \cdot b_1\vec{e}_1 + a_1\vec{e}_1 \cdot b_2\vec{e}_2 + a_1\vec{e}_1 \cdot b_3\vec{e}_3\end{aligned}$$

Für  $\vec{a} = a_1\vec{e}_1 + a_2\vec{e}_2 + a_3\vec{e}_3$  und  $\vec{b} = b_1\vec{e}_1 + b_2\vec{e}_2 + b_3\vec{e}_3$  gilt dann:

$$\begin{aligned}\vec{a} \cdot \vec{b} &= (a_1\vec{e}_1 + a_2\vec{e}_2 + a_3\vec{e}_3) \cdot (b_1\vec{e}_1 + b_2\vec{e}_2 + b_3\vec{e}_3) \\ &= a_1\vec{e}_1 \cdot b_1\vec{e}_1 + a_1\vec{e}_1 \cdot b_2\vec{e}_2 + a_1\vec{e}_1 \cdot b_3\vec{e}_3 \\ &\quad + a_2\vec{e}_2 \cdot b_1\vec{e}_1 + a_2\vec{e}_2 \cdot b_2\vec{e}_2 + a_2\vec{e}_2 \cdot b_3\vec{e}_3\end{aligned}$$

Für  $\vec{a} = a_1\vec{e}_1 + a_2\vec{e}_2 + a_3\vec{e}_3$  und  $\vec{b} = b_1\vec{e}_1 + b_2\vec{e}_2 + b_3\vec{e}_3$  gilt dann:

$$\vec{a} \cdot \vec{b} = (a_1\vec{e}_1 + a_2\vec{e}_2 + a_3\vec{e}_3) \cdot (b_1\vec{e}_1 + b_2\vec{e}_2 + b_3\vec{e}_3)$$

$$= a_1\vec{e}_1 \cdot b_1\vec{e}_1 + a_1\vec{e}_1 \cdot b_2\vec{e}_2 + a_1\vec{e}_1 \cdot b_3\vec{e}_3$$

$$+ a_2\vec{e}_2 \cdot b_1\vec{e}_1 + a_2\vec{e}_2 \cdot b_2\vec{e}_2 + a_2\vec{e}_2 \cdot b_3\vec{e}_3$$

$$+ a_3\vec{e}_3 \cdot b_1\vec{e}_1 + a_3\vec{e}_3 \cdot b_2\vec{e}_2 + a_3\vec{e}_3 \cdot b_3\vec{e}_3$$

=

Für  $\vec{a} = a_1\vec{e}_1 + a_2\vec{e}_2 + a_3\vec{e}_3$  und  $\vec{b} = b_1\vec{e}_1 + b_2\vec{e}_2 + b_3\vec{e}_3$  gilt dann:

$$\begin{aligned}\vec{a} \cdot \vec{b} &= (a_1\vec{e}_1 + a_2\vec{e}_2 + a_3\vec{e}_3) \cdot (b_1\vec{e}_1 + b_2\vec{e}_2 + b_3\vec{e}_3) \\ &= a_1\vec{e}_1 \cdot b_1\vec{e}_1 + a_1\vec{e}_1 \cdot b_2\vec{e}_2 + a_1\vec{e}_1 \cdot b_3\vec{e}_3 \\ &\quad + a_2\vec{e}_2 \cdot b_1\vec{e}_1 + a_2\vec{e}_2 \cdot b_2\vec{e}_2 + a_2\vec{e}_2 \cdot b_3\vec{e}_3 \\ &\quad + a_3\vec{e}_3 \cdot b_1\vec{e}_1 + a_3\vec{e}_3 \cdot b_2\vec{e}_2 + a_3\vec{e}_3 \cdot b_3\vec{e}_3 \\ &= a_1b_1\vec{e}_1 \cdot \vec{e}_1 + a_1b_2\vec{e}_1 \cdot \vec{e}_2 + a_1b_3\vec{e}_1 \cdot \vec{e}_3\end{aligned}$$

Für  $\vec{a} = a_1\vec{e}_1 + a_2\vec{e}_2 + a_3\vec{e}_3$  und  $\vec{b} = b_1\vec{e}_1 + b_2\vec{e}_2 + b_3\vec{e}_3$  gilt dann:

$$\vec{a} \cdot \vec{b} = (a_1\vec{e}_1 + a_2\vec{e}_2 + a_3\vec{e}_3) \cdot (b_1\vec{e}_1 + b_2\vec{e}_2 + b_3\vec{e}_3)$$

$$= a_1\vec{e}_1 \cdot b_1\vec{e}_1 + a_1\vec{e}_1 \cdot b_2\vec{e}_2 + a_1\vec{e}_1 \cdot b_3\vec{e}_3$$

$$+ a_2\vec{e}_2 \cdot b_1\vec{e}_1 + a_2\vec{e}_2 \cdot b_2\vec{e}_2 + a_2\vec{e}_2 \cdot b_3\vec{e}_3$$

$$+ a_3\vec{e}_3 \cdot b_1\vec{e}_1 + a_3\vec{e}_3 \cdot b_2\vec{e}_2 + a_3\vec{e}_3 \cdot b_3\vec{e}_3$$

$$= a_1b_1\vec{e}_1 \cdot \vec{e}_1 + a_1b_2\vec{e}_1 \cdot \vec{e}_2 + a_1b_3\vec{e}_1 \cdot \vec{e}_3$$

$$+ a_2b_1\vec{e}_2 \cdot \vec{e}_1 + a_2b_2\vec{e}_2 \cdot \vec{e}_2 + a_2b_3\vec{e}_2 \cdot \vec{e}_3$$

Für  $\vec{a} = a_1\vec{e}_1 + a_2\vec{e}_2 + a_3\vec{e}_3$  und  $\vec{b} = b_1\vec{e}_1 + b_2\vec{e}_2 + b_3\vec{e}_3$  gilt dann:

$$\vec{a} \cdot \vec{b} = (a_1\vec{e}_1 + a_2\vec{e}_2 + a_3\vec{e}_3) \cdot (b_1\vec{e}_1 + b_2\vec{e}_2 + b_3\vec{e}_3)$$

$$= a_1\vec{e}_1 \cdot b_1\vec{e}_1 + a_1\vec{e}_1 \cdot b_2\vec{e}_2 + a_1\vec{e}_1 \cdot b_3\vec{e}_3$$

$$+ a_2\vec{e}_2 \cdot b_1\vec{e}_1 + a_2\vec{e}_2 \cdot b_2\vec{e}_2 + a_2\vec{e}_2 \cdot b_3\vec{e}_3$$

$$+ a_3\vec{e}_3 \cdot b_1\vec{e}_1 + a_3\vec{e}_3 \cdot b_2\vec{e}_2 + a_3\vec{e}_3 \cdot b_3\vec{e}_3$$

$$= a_1b_1\vec{e}_1 \cdot \vec{e}_1 + a_1b_2\vec{e}_1 \cdot \vec{e}_2 + a_1b_3\vec{e}_1 \cdot \vec{e}_3$$

$$+ a_2b_1\vec{e}_2 \cdot \vec{e}_1 + a_2b_2\vec{e}_2 \cdot \vec{e}_2 + a_2b_3\vec{e}_2 \cdot \vec{e}_3$$

$$+ a_3b_1\vec{e}_3 \cdot \vec{e}_1 + a_3b_2\vec{e}_3 \cdot \vec{e}_2 + a_3b_3\vec{e}_3 \cdot \vec{e}_3$$

Für  $\vec{a} = a_1\vec{e}_1 + a_2\vec{e}_2 + a_3\vec{e}_3$  und  $\vec{b} = b_1\vec{e}_1 + b_2\vec{e}_2 + b_3\vec{e}_3$  gilt dann:

$$\vec{a} \cdot \vec{b} = (a_1\vec{e}_1 + a_2\vec{e}_2 + a_3\vec{e}_3) \cdot (b_1\vec{e}_1 + b_2\vec{e}_2 + b_3\vec{e}_3)$$

$$= a_1\vec{e}_1 \cdot b_1\vec{e}_1 + a_1\vec{e}_1 \cdot b_2\vec{e}_2 + a_1\vec{e}_1 \cdot b_3\vec{e}_3$$

$$+ a_2\vec{e}_2 \cdot b_1\vec{e}_1 + a_2\vec{e}_2 \cdot b_2\vec{e}_2 + a_2\vec{e}_2 \cdot b_3\vec{e}_3$$

$$+ a_3\vec{e}_3 \cdot b_1\vec{e}_1 + a_3\vec{e}_3 \cdot b_2\vec{e}_2 + a_3\vec{e}_3 \cdot b_3\vec{e}_3$$

$$= a_1b_1\vec{e}_1 \cdot \vec{e}_1 + a_1b_2\vec{e}_1 \cdot \vec{e}_2 + a_1b_3\vec{e}_1 \cdot \vec{e}_3$$

$$+ a_2b_1\vec{e}_2 \cdot \vec{e}_1 + a_2b_2\vec{e}_2 \cdot \vec{e}_2 + a_2b_3\vec{e}_2 \cdot \vec{e}_3$$

$$+ a_3b_1\vec{e}_3 \cdot \vec{e}_1 + a_3b_2\vec{e}_3 \cdot \vec{e}_2 + a_3b_3\vec{e}_3 \cdot \vec{e}_3$$

$$= a_1b_1 + 0 + 0 + 0 + a_2b_2 + 0 + 0 + 0 + a_3b_3$$

Für  $\vec{a} = a_1\vec{e}_1 + a_2\vec{e}_2 + a_3\vec{e}_3$  und  $\vec{b} = b_1\vec{e}_1 + b_2\vec{e}_2 + b_3\vec{e}_3$  gilt dann:

$$\vec{a} \cdot \vec{b} = (a_1\vec{e}_1 + a_2\vec{e}_2 + a_3\vec{e}_3) \cdot (b_1\vec{e}_1 + b_2\vec{e}_2 + b_3\vec{e}_3)$$

$$= a_1\vec{e}_1 \cdot b_1\vec{e}_1 + a_1\vec{e}_1 \cdot b_2\vec{e}_2 + a_1\vec{e}_1 \cdot b_3\vec{e}_3$$

$$+ a_2\vec{e}_2 \cdot b_1\vec{e}_1 + a_2\vec{e}_2 \cdot b_2\vec{e}_2 + a_2\vec{e}_2 \cdot b_3\vec{e}_3$$

$$+ a_3\vec{e}_3 \cdot b_1\vec{e}_1 + a_3\vec{e}_3 \cdot b_2\vec{e}_2 + a_3\vec{e}_3 \cdot b_3\vec{e}_3$$

$$= a_1b_1 \vec{e}_1 \cdot \vec{e}_1 + a_1b_2 \vec{e}_1 \cdot \vec{e}_2 + a_1b_3 \vec{e}_1 \cdot \vec{e}_3$$

$$+ a_2b_1 \vec{e}_2 \cdot \vec{e}_1 + a_2b_2 \vec{e}_2 \cdot \vec{e}_2 + a_2b_3 \vec{e}_2 \cdot \vec{e}_3$$

$$+ a_3b_1 \vec{e}_3 \cdot \vec{e}_1 + a_3b_2 \vec{e}_3 \cdot \vec{e}_2 + a_3b_3 \vec{e}_3 \cdot \vec{e}_3$$

$$= a_1b_1 + 0 + 0 + 0 + a_2b_2 + 0 + 0 + 0 + a_3b_3$$

$$= a_1b_1 + a_2b_2 + a_3b_3$$

## Skalarprodukt in Komponentendarstellung:

$$\vec{a} \cdot \vec{b} = \begin{pmatrix} a_1 \\ a_2 \\ a_3 \end{pmatrix} \cdot \begin{pmatrix} b_1 \\ b_2 \\ b_3 \end{pmatrix} = a_1 b_1 + a_2 b_2 + a_3 b_3$$

## Beispiele

Gegeben sind:  $\vec{a} = \begin{pmatrix} -1 \\ 5 \\ 6 \end{pmatrix}$ ,  $\vec{b} = \begin{pmatrix} 4 \\ 3 \\ 9 \end{pmatrix}$  und  $\vec{c} = \begin{pmatrix} -2 \\ 8 \\ -7 \end{pmatrix}$

(a)  $\vec{a} \cdot \vec{b} =$

## Beispiele

Gegeben sind:  $\vec{a} = \begin{pmatrix} -1 \\ 5 \\ 6 \end{pmatrix}$ ,  $\vec{b} = \begin{pmatrix} 4 \\ 3 \\ 9 \end{pmatrix}$  und  $\vec{c} = \begin{pmatrix} -2 \\ 8 \\ -7 \end{pmatrix}$

(a)  $\vec{a} \cdot \vec{b} = -1 \cdot 4 + 5 \cdot 3 + 6 \cdot 9 =$

## Beispiele

Gegeben sind:  $\vec{a} = \begin{pmatrix} -1 \\ 5 \\ 6 \end{pmatrix}$ ,  $\vec{b} = \begin{pmatrix} 4 \\ 3 \\ 9 \end{pmatrix}$  und  $\vec{c} = \begin{pmatrix} -2 \\ 8 \\ -7 \end{pmatrix}$

(a)  $\vec{a} \cdot \vec{b} = -1 \cdot 4 + 5 \cdot 3 + 6 \cdot 9 = -4 + 15 + 54 =$

## Beispiele

Gegeben sind:  $\vec{a} = \begin{pmatrix} -1 \\ 5 \\ 6 \end{pmatrix}$ ,  $\vec{b} = \begin{pmatrix} 4 \\ 3 \\ 9 \end{pmatrix}$  und  $\vec{c} = \begin{pmatrix} -2 \\ 8 \\ -7 \end{pmatrix}$

(a)  $\vec{a} \cdot \vec{b} = -1 \cdot 4 + 5 \cdot 3 + 6 \cdot 9 = -4 + 15 + 54 = 65$

## Beispiele

Gegeben sind:  $\vec{a} = \begin{pmatrix} -1 \\ 5 \\ 6 \end{pmatrix}$ ,  $\vec{b} = \begin{pmatrix} 4 \\ 3 \\ 9 \end{pmatrix}$  und  $\vec{c} = \begin{pmatrix} -2 \\ 8 \\ -7 \end{pmatrix}$

(a)  $\vec{a} \cdot \vec{b} = -1 \cdot 4 + 5 \cdot 3 + 6 \cdot 9 = -4 + 15 + 54 = 65$

(b)  $\vec{b} \cdot \vec{a} =$

## Beispiele

Gegeben sind:  $\vec{a} = \begin{pmatrix} -1 \\ 5 \\ 6 \end{pmatrix}$ ,  $\vec{b} = \begin{pmatrix} 4 \\ 3 \\ 9 \end{pmatrix}$  und  $\vec{c} = \begin{pmatrix} -2 \\ 8 \\ -7 \end{pmatrix}$

(a)  $\vec{a} \cdot \vec{b} = -1 \cdot 4 + 5 \cdot 3 + 6 \cdot 9 = -4 + 15 + 54 = 65$

(b)  $\vec{b} \cdot \vec{a} = 4 \cdot (-1) + 3 \cdot 5 + 9 \cdot 6 =$

## Beispiele

Gegeben sind:  $\vec{a} = \begin{pmatrix} -1 \\ 5 \\ 6 \end{pmatrix}$ ,  $\vec{b} = \begin{pmatrix} 4 \\ 3 \\ 9 \end{pmatrix}$  und  $\vec{c} = \begin{pmatrix} -2 \\ 8 \\ -7 \end{pmatrix}$

(a)  $\vec{a} \cdot \vec{b} = -1 \cdot 4 + 5 \cdot 3 + 6 \cdot 9 = -4 + 15 + 54 = 65$

(b)  $\vec{b} \cdot \vec{a} = 4 \cdot (-1) + 3 \cdot 5 + 9 \cdot 6 = \dots =$

## Beispiele

Gegeben sind:  $\vec{a} = \begin{pmatrix} -1 \\ 5 \\ 6 \end{pmatrix}$ ,  $\vec{b} = \begin{pmatrix} 4 \\ 3 \\ 9 \end{pmatrix}$  und  $\vec{c} = \begin{pmatrix} -2 \\ 8 \\ -7 \end{pmatrix}$

(a)  $\vec{a} \cdot \vec{b} = -1 \cdot 4 + 5 \cdot 3 + 6 \cdot 9 = -4 + 15 + 54 = 65$

(b)  $\vec{b} \cdot \vec{a} = 4 \cdot (-1) + 3 \cdot 5 + 9 \cdot 6 = \dots = 65$

## Beispiele

$$\text{Gegeben sind: } \vec{a} = \begin{pmatrix} -1 \\ 5 \\ 6 \end{pmatrix}, \vec{b} = \begin{pmatrix} 4 \\ 3 \\ 9 \end{pmatrix} \text{ und } \vec{c} = \begin{pmatrix} -2 \\ 8 \\ -7 \end{pmatrix}$$

$$(a) \vec{a} \cdot \vec{b} = -1 \cdot 4 + 5 \cdot 3 + 6 \cdot 9 = -4 + 15 + 54 = 65$$

$$(b) \vec{b} \cdot \vec{a} = 4 \cdot (-1) + 3 \cdot 5 + 9 \cdot 6 = \dots = 65$$

$$(c) \vec{a} \cdot \vec{a} =$$

## Beispiele

Gegeben sind:  $\vec{a} = \begin{pmatrix} -1 \\ 5 \\ 6 \end{pmatrix}$ ,  $\vec{b} = \begin{pmatrix} 4 \\ 3 \\ 9 \end{pmatrix}$  und  $\vec{c} = \begin{pmatrix} -2 \\ 8 \\ -7 \end{pmatrix}$

(a)  $\vec{a} \cdot \vec{b} = -1 \cdot 4 + 5 \cdot 3 + 6 \cdot 9 = -4 + 15 + 54 = 65$

(b)  $\vec{b} \cdot \vec{a} = 4 \cdot (-1) + 3 \cdot 5 + 9 \cdot 6 = \dots = 65$

(c)  $\vec{a} \cdot \vec{a} = (-1) \cdot (-1) + 5 \cdot 5 + 6 \cdot 6 =$

## Beispiele

Gegeben sind:  $\vec{a} = \begin{pmatrix} -1 \\ 5 \\ 6 \end{pmatrix}$ ,  $\vec{b} = \begin{pmatrix} 4 \\ 3 \\ 9 \end{pmatrix}$  und  $\vec{c} = \begin{pmatrix} -2 \\ 8 \\ -7 \end{pmatrix}$

(a)  $\vec{a} \cdot \vec{b} = -1 \cdot 4 + 5 \cdot 3 + 6 \cdot 9 = -4 + 15 + 54 = 65$

(b)  $\vec{b} \cdot \vec{a} = 4 \cdot (-1) + 3 \cdot 5 + 9 \cdot 6 = \dots = 65$

(c)  $\vec{a} \cdot \vec{a} = (-1) \cdot (-1) + 5 \cdot 5 + 6 \cdot 6 = 1 + 25 + 36 =$

## Beispiele

Gegeben sind:  $\vec{a} = \begin{pmatrix} -1 \\ 5 \\ 6 \end{pmatrix}$ ,  $\vec{b} = \begin{pmatrix} 4 \\ 3 \\ 9 \end{pmatrix}$  und  $\vec{c} = \begin{pmatrix} -2 \\ 8 \\ -7 \end{pmatrix}$

(a)  $\vec{a} \cdot \vec{b} = -1 \cdot 4 + 5 \cdot 3 + 6 \cdot 9 = -4 + 15 + 54 = 65$

(b)  $\vec{b} \cdot \vec{a} = 4 \cdot (-1) + 3 \cdot 5 + 9 \cdot 6 = \dots = 65$

(c)  $\vec{a} \cdot \vec{a} = (-1) \cdot (-1) + 5 \cdot 5 + 6 \cdot 6 = 1 + 25 + 36 = 62$

## Beispiele

Gegeben sind:  $\vec{a} = \begin{pmatrix} -1 \\ 5 \\ 6 \end{pmatrix}$ ,  $\vec{b} = \begin{pmatrix} 4 \\ 3 \\ 9 \end{pmatrix}$  und  $\vec{c} = \begin{pmatrix} -2 \\ 8 \\ -7 \end{pmatrix}$

(a)  $\vec{a} \cdot \vec{b} = -1 \cdot 4 + 5 \cdot 3 + 6 \cdot 9 = -4 + 15 + 54 = 65$

(b)  $\vec{b} \cdot \vec{a} = 4 \cdot (-1) + 3 \cdot 5 + 9 \cdot 6 = \dots = 65$

(c)  $\vec{a} \cdot \vec{a} = (-1) \cdot (-1) + 5 \cdot 5 + 6 \cdot 6 = 1 + 25 + 36 = 62 \quad (|\vec{a}|^2)$

## Beispiele

Gegeben sind:  $\vec{a} = \begin{pmatrix} -1 \\ 5 \\ 6 \end{pmatrix}$ ,  $\vec{b} = \begin{pmatrix} 4 \\ 3 \\ 9 \end{pmatrix}$  und  $\vec{c} = \begin{pmatrix} -2 \\ 8 \\ -7 \end{pmatrix}$

(a)  $\vec{a} \cdot \vec{b} = -1 \cdot 4 + 5 \cdot 3 + 6 \cdot 9 = -4 + 15 + 54 = 65$

(b)  $\vec{b} \cdot \vec{a} = 4 \cdot (-1) + 3 \cdot 5 + 9 \cdot 6 = \dots = 65$

(c)  $\vec{a} \cdot \vec{a} = (-1) \cdot (-1) + 5 \cdot 5 + 6 \cdot 6 = 1 + 25 + 36 = 62 \quad (|\vec{a}|^2)$

(d)  $\vec{b} \cdot \vec{c} =$

## Beispiele

Gegeben sind:  $\vec{a} = \begin{pmatrix} -1 \\ 5 \\ 6 \end{pmatrix}$ ,  $\vec{b} = \begin{pmatrix} 4 \\ 3 \\ 9 \end{pmatrix}$  und  $\vec{c} = \begin{pmatrix} -2 \\ 8 \\ -7 \end{pmatrix}$

(a)  $\vec{a} \cdot \vec{b} = -1 \cdot 4 + 5 \cdot 3 + 6 \cdot 9 = -4 + 15 + 54 = 65$

(b)  $\vec{b} \cdot \vec{a} = 4 \cdot (-1) + 3 \cdot 5 + 9 \cdot 6 = \dots = 65$

(c)  $\vec{a} \cdot \vec{a} = (-1) \cdot (-1) + 5 \cdot 5 + 6 \cdot 6 = 1 + 25 + 36 = 62 \quad (|\vec{a}|^2)$

(d)  $\vec{b} \cdot \vec{c} = 4 \cdot (-2) + 3 \cdot 8 + 9 \cdot (-7) = -$

## Beispiele

Gegeben sind:  $\vec{a} = \begin{pmatrix} -1 \\ 5 \\ 6 \end{pmatrix}$ ,  $\vec{b} = \begin{pmatrix} 4 \\ 3 \\ 9 \end{pmatrix}$  und  $\vec{c} = \begin{pmatrix} -2 \\ 8 \\ -7 \end{pmatrix}$

(a)  $\vec{a} \cdot \vec{b} = -1 \cdot 4 + 5 \cdot 3 + 6 \cdot 9 = -4 + 15 + 54 = 65$

(b)  $\vec{b} \cdot \vec{a} = 4 \cdot (-1) + 3 \cdot 5 + 9 \cdot 6 = \dots = 65$

(c)  $\vec{a} \cdot \vec{a} = (-1) \cdot (-1) + 5 \cdot 5 + 6 \cdot 6 = 1 + 25 + 36 = 62 \quad (|\vec{a}|^2)$

(d)  $\vec{b} \cdot \vec{c} = 4 \cdot (-2) + 3 \cdot 8 + 9 \cdot (-7) = -8 + 24 - 63 =$

## Beispiele

Gegeben sind:  $\vec{a} = \begin{pmatrix} -1 \\ 5 \\ 6 \end{pmatrix}$ ,  $\vec{b} = \begin{pmatrix} 4 \\ 3 \\ 9 \end{pmatrix}$  und  $\vec{c} = \begin{pmatrix} -2 \\ 8 \\ -7 \end{pmatrix}$

(a)  $\vec{a} \cdot \vec{b} = -1 \cdot 4 + 5 \cdot 3 + 6 \cdot 9 = -4 + 15 + 54 = 65$

(b)  $\vec{b} \cdot \vec{a} = 4 \cdot (-1) + 3 \cdot 5 + 9 \cdot 6 = \dots = 65$

(c)  $\vec{a} \cdot \vec{a} = (-1) \cdot (-1) + 5 \cdot 5 + 6 \cdot 6 = 1 + 25 + 36 = 62 \quad (|\vec{a}|^2)$

(d)  $\vec{b} \cdot \vec{c} = 4 \cdot (-2) + 3 \cdot 8 + 9 \cdot (-7) = -8 + 24 - 63 = -47$

## Beispiele

Gegeben sind:  $\vec{a} = \begin{pmatrix} -1 \\ 5 \\ 6 \end{pmatrix}$ ,  $\vec{b} = \begin{pmatrix} 4 \\ 3 \\ 9 \end{pmatrix}$  und  $\vec{c} = \begin{pmatrix} -2 \\ 8 \\ -7 \end{pmatrix}$

(a)  $\vec{a} \cdot \vec{b} = -1 \cdot 4 + 5 \cdot 3 + 6 \cdot 9 = -4 + 15 + 54 = 65$

(b)  $\vec{b} \cdot \vec{a} = 4 \cdot (-1) + 3 \cdot 5 + 9 \cdot 6 = \dots = 65$

(c)  $\vec{a} \cdot \vec{a} = (-1) \cdot (-1) + 5 \cdot 5 + 6 \cdot 6 = 1 + 25 + 36 = 62 \quad (|\vec{a}|^2)$

(d)  $\vec{b} \cdot \vec{c} = 4 \cdot (-2) + 3 \cdot 8 + 9 \cdot (-7) = -8 + 24 - 63 = -47$

(e)  $\vec{a} \cdot \vec{c} =$

## Beispiele

Gegeben sind:  $\vec{a} = \begin{pmatrix} -1 \\ 5 \\ 6 \end{pmatrix}$ ,  $\vec{b} = \begin{pmatrix} 4 \\ 3 \\ 9 \end{pmatrix}$  und  $\vec{c} = \begin{pmatrix} -2 \\ 8 \\ -7 \end{pmatrix}$

(a)  $\vec{a} \cdot \vec{b} = -1 \cdot 4 + 5 \cdot 3 + 6 \cdot 9 = -4 + 15 + 54 = 65$

(b)  $\vec{b} \cdot \vec{a} = 4 \cdot (-1) + 3 \cdot 5 + 9 \cdot 6 = \dots = 65$

(c)  $\vec{a} \cdot \vec{a} = (-1) \cdot (-1) + 5 \cdot 5 + 6 \cdot 6 = 1 + 25 + 36 = 62 \quad (|\vec{a}|^2)$

(d)  $\vec{b} \cdot \vec{c} = 4 \cdot (-2) + 3 \cdot 8 + 9 \cdot (-7) = -8 + 24 - 63 = -47$

(e)  $\vec{a} \cdot \vec{c} =$   
 $(-1) \cdot (-2) + 5 \cdot 8 + 6 \cdot (-7) =$

## Beispiele

Gegeben sind:  $\vec{a} = \begin{pmatrix} -1 \\ 5 \\ 6 \end{pmatrix}$ ,  $\vec{b} = \begin{pmatrix} 4 \\ 3 \\ 9 \end{pmatrix}$  und  $\vec{c} = \begin{pmatrix} -2 \\ 8 \\ -7 \end{pmatrix}$

(a)  $\vec{a} \cdot \vec{b} = -1 \cdot 4 + 5 \cdot 3 + 6 \cdot 9 = -4 + 15 + 54 = 65$

(b)  $\vec{b} \cdot \vec{a} = 4 \cdot (-1) + 3 \cdot 5 + 9 \cdot 6 = \dots = 65$

(c)  $\vec{a} \cdot \vec{a} = (-1) \cdot (-1) + 5 \cdot 5 + 6 \cdot 6 = 1 + 25 + 36 = 62 \quad (|\vec{a}|^2)$

(d)  $\vec{b} \cdot \vec{c} = 4 \cdot (-2) + 3 \cdot 8 + 9 \cdot (-7) = -8 + 24 - 63 = -47$

(e)  $\vec{a} \cdot \vec{c} =$   
 $(-1) \cdot (-2) + 5 \cdot 8 + 6 \cdot (-7) = 2 + 40 - 42 =$

## Beispiele

Gegeben sind:  $\vec{a} = \begin{pmatrix} -1 \\ 5 \\ 6 \end{pmatrix}$ ,  $\vec{b} = \begin{pmatrix} 4 \\ 3 \\ 9 \end{pmatrix}$  und  $\vec{c} = \begin{pmatrix} -2 \\ 8 \\ -7 \end{pmatrix}$

(a)  $\vec{a} \cdot \vec{b} = -1 \cdot 4 + 5 \cdot 3 + 6 \cdot 9 = -4 + 15 + 54 = 65$

(b)  $\vec{b} \cdot \vec{a} = 4 \cdot (-1) + 3 \cdot 5 + 9 \cdot 6 = \dots = 65$

(c)  $\vec{a} \cdot \vec{a} = (-1) \cdot (-1) + 5 \cdot 5 + 6 \cdot 6 = 1 + 25 + 36 = 62 \quad (|\vec{a}|^2)$

(d)  $\vec{b} \cdot \vec{c} = 4 \cdot (-2) + 3 \cdot 8 + 9 \cdot (-7) = -8 + 24 - 63 = -47$

(e)  $\vec{a} \cdot \vec{c} =$   
 $(-1) \cdot (-2) + 5 \cdot 8 + 6 \cdot (-7) = 2 + 40 - 42 = 0$

## Beispiele

Gegeben sind:  $\vec{a} = \begin{pmatrix} -1 \\ 5 \\ 6 \end{pmatrix}$ ,  $\vec{b} = \begin{pmatrix} 4 \\ 3 \\ 9 \end{pmatrix}$  und  $\vec{c} = \begin{pmatrix} -2 \\ 8 \\ -7 \end{pmatrix}$

(a)  $\vec{a} \cdot \vec{b} = -1 \cdot 4 + 5 \cdot 3 + 6 \cdot 9 = -4 + 15 + 54 = 65$

(b)  $\vec{b} \cdot \vec{a} = 4 \cdot (-1) + 3 \cdot 5 + 9 \cdot 6 = \dots = 65$

(c)  $\vec{a} \cdot \vec{a} = (-1) \cdot (-1) + 5 \cdot 5 + 6 \cdot 6 = 1 + 25 + 36 = 62 \quad (|\vec{a}|^2)$

(d)  $\vec{b} \cdot \vec{c} = 4 \cdot (-2) + 3 \cdot 8 + 9 \cdot (-7) = -8 + 24 - 63 = -47$

(e)  $\vec{a} \cdot \vec{c} =$   
 $(-1) \cdot (-2) + 5 \cdot 8 + 6 \cdot (-7) = 2 + 40 - 42 = 0 \quad (\vec{a} \perp \vec{c})$

Mit Hilfe der beiden Vorschriften für das Skalarprodukt erhalten wir eine Formel zur Berechnung des Zwischenwinkels:

Mit Hilfe der beiden Vorschriften für das Skalarprodukt erhalten wir eine Formel zur Berechnung des Zwischenwinkels:

$$\underbrace{|\vec{a}| \cdot |\vec{b}| \cdot \cos \varphi}_{\vec{a} \cdot \vec{b}} = \underbrace{a_1 b_1 + a_2 b_2 + a_3 b_3}_{\vec{a} \cdot \vec{b}}$$

Mit Hilfe der beiden Vorschriften für das Skalarprodukt erhalten wir eine Formel zur Berechnung des Zwischenwinkels:

$$\underbrace{|\vec{a}| \cdot |\vec{b}| \cdot \cos \varphi}_{\vec{a} \cdot \vec{b}} = \underbrace{a_1 b_1 + a_2 b_2 + a_3 b_3}_{\vec{a} \cdot \vec{b}}$$

$$\cos \varphi = \frac{a_1 b_1 + a_2 b_2 + a_3 b_3}{|\vec{a}| \cdot |\vec{b}|}$$

Mit Hilfe der beiden Vorschriften für das Skalarprodukt erhalten wir eine Formel zur Berechnung des Zwischenwinkels:

$$\underbrace{|\vec{a}| \cdot |\vec{b}| \cdot \cos \varphi}_{\vec{a} \cdot \vec{b}} = \underbrace{a_1 b_1 + a_2 b_2 + a_3 b_3}_{\vec{a} \cdot \vec{b}}$$

$$\cos \varphi = \frac{a_1 b_1 + a_2 b_2 + a_3 b_3}{|\vec{a}| \cdot |\vec{b}|}$$

$$\cos \varphi = \frac{a_1 b_1 + a_2 b_2 + a_3 b_3}{\sqrt{a_1^2 + a_2^2 + a_3^2} \cdot \sqrt{b_1^2 + b_2^2 + b_3^2}}$$

Mit Hilfe der beiden Vorschriften für das Skalarprodukt erhalten wir eine Formel zur Berechnung des Zwischenwinkels:

$$\underbrace{|\vec{a}| \cdot |\vec{b}| \cdot \cos \varphi}_{\vec{a} \cdot \vec{b}} = \underbrace{a_1 b_1 + a_2 b_2 + a_3 b_3}_{\vec{a} \cdot \vec{b}}$$

$$\cos \varphi = \frac{a_1 b_1 + a_2 b_2 + a_3 b_3}{|\vec{a}| \cdot |\vec{b}|}$$

$$\cos \varphi = \frac{a_1 b_1 + a_2 b_2 + a_3 b_3}{\sqrt{a_1^2 + a_2^2 + a_3^2} \cdot \sqrt{b_1^2 + b_2^2 + b_3^2}}$$

Zwischenwinkelformel:  $\varphi = \arccos \frac{\vec{a} \cdot \vec{b}}{|\vec{a}| \cdot |\vec{b}|}$

*Beispiele:* Berechne die Zwischenwinkel  $\varphi$  der Vektoren  $\vec{a}$  und  $\vec{b}$  im Gradmass.

$$(a) \quad \vec{a} = \begin{pmatrix} -1 \\ 2 \\ 2 \end{pmatrix}, \quad \vec{b} = \begin{pmatrix} 3 \\ 0 \\ 4 \end{pmatrix}$$

*Beispiele:* Berechne die Zwischenwinkel  $\varphi$  der Vektoren  $\vec{a}$  und  $\vec{b}$  im Gradmass.

$$(a) \vec{a} = \begin{pmatrix} -1 \\ 2 \\ 2 \end{pmatrix}, \vec{b} = \begin{pmatrix} 3 \\ 0 \\ 4 \end{pmatrix}$$

$$\varphi = \arccos \frac{5}{3 \cdot 5} = 70.53^\circ$$

*Beispiele:* Berechne die Zwischenwinkel  $\varphi$  der Vektoren  $\vec{a}$  und  $\vec{b}$  im Gradmass.

$$(a) \quad \vec{a} = \begin{pmatrix} -1 \\ 2 \\ 2 \end{pmatrix}, \quad \vec{b} = \begin{pmatrix} 3 \\ 0 \\ 4 \end{pmatrix}$$

$$\varphi = \arccos \frac{5}{3 \cdot 5} = 70.53^\circ$$

$$(b) \quad \vec{a} = \begin{pmatrix} 4 \\ -3 \\ 7 \end{pmatrix}, \quad \vec{b} = \begin{pmatrix} 5 \\ 2 \\ -2 \end{pmatrix}$$

*Beispiele:* Berechne die Zwischenwinkel  $\varphi$  der Vektoren  $\vec{a}$  und  $\vec{b}$  im Gradmass.

$$(a) \vec{a} = \begin{pmatrix} -1 \\ 2 \\ 2 \end{pmatrix}, \vec{b} = \begin{pmatrix} 3 \\ 0 \\ 4 \end{pmatrix}$$

$$\varphi = \arccos \frac{5}{3 \cdot 5} = 70.53^\circ$$

$$(b) \vec{a} = \begin{pmatrix} 4 \\ -3 \\ 7 \end{pmatrix}, \vec{b} = \begin{pmatrix} 5 \\ 2 \\ -2 \end{pmatrix}$$

$$\varphi = \arccos \frac{0}{\sqrt{74} \cdot \sqrt{33}} = 90^\circ$$

$$(c) \vec{a} = \begin{pmatrix} -3 \\ 1 \\ 1 \end{pmatrix}, \vec{b} = \begin{pmatrix} 1 \\ 0 \\ 0 \end{pmatrix}$$

*Beispiele:* Berechne die Zwischenwinkel  $\varphi$  der Vektoren  $\vec{a}$  und  $\vec{b}$  im Gradmass.

$$(a) \vec{a} = \begin{pmatrix} -1 \\ 2 \\ 2 \end{pmatrix}, \vec{b} = \begin{pmatrix} 3 \\ 0 \\ 4 \end{pmatrix}$$

$$\varphi = \arccos \frac{5}{3 \cdot 5} = 70.53^\circ$$

$$(b) \vec{a} = \begin{pmatrix} 4 \\ -3 \\ 7 \end{pmatrix}, \vec{b} = \begin{pmatrix} 5 \\ 2 \\ -2 \end{pmatrix}$$

$$\varphi = \arccos \frac{0}{\sqrt{74} \cdot \sqrt{33}} = 90^\circ$$

$$(c) \vec{a} = \begin{pmatrix} -3 \\ 1 \\ 1 \end{pmatrix}, \vec{b} = \begin{pmatrix} 1 \\ 0 \\ 0 \end{pmatrix}$$

$$\varphi = \arccos \frac{-3}{\sqrt{11} \cdot 1} = 154.76^\circ$$

*Beispiele:* Berechne die Zwischenwinkel  $\varphi$  der Vektoren  $\vec{a}$  und  $\vec{b}$  im Gradmass.

$$(a) \vec{a} = \begin{pmatrix} -1 \\ 2 \\ 2 \end{pmatrix}, \vec{b} = \begin{pmatrix} 3 \\ 0 \\ 4 \end{pmatrix}$$

$$\varphi = \arccos \frac{5}{3 \cdot 5} = 70.53^\circ$$

$$(b) \vec{a} = \begin{pmatrix} 4 \\ -3 \\ 7 \end{pmatrix}, \vec{b} = \begin{pmatrix} 5 \\ 2 \\ -2 \end{pmatrix}$$

$$\varphi = \arccos \frac{0}{\sqrt{74} \cdot \sqrt{33}} = 90^\circ$$

$$(c) \vec{a} = \begin{pmatrix} -3 \\ 1 \\ 1 \end{pmatrix}, \vec{b} = \begin{pmatrix} 1 \\ 0 \\ 0 \end{pmatrix}$$

$$\varphi = \arccos \frac{-3}{\sqrt{11} \cdot 1} = 154.76^\circ$$

$$(d) \vec{a} = \begin{pmatrix} 0 \\ -1 \\ 1 \end{pmatrix}, \vec{b} = \begin{pmatrix} 0 \\ 1 \\ -1 \end{pmatrix}$$

*Beispiele:* Berechne die Zwischenwinkel  $\varphi$  der Vektoren  $\vec{a}$  und  $\vec{b}$  im Gradmass.

$$(a) \vec{a} = \begin{pmatrix} -1 \\ 2 \\ 2 \end{pmatrix}, \vec{b} = \begin{pmatrix} 3 \\ 0 \\ 4 \end{pmatrix}$$

$$\varphi = \arccos \frac{5}{3 \cdot 5} = 70.53^\circ$$

$$(b) \vec{a} = \begin{pmatrix} 4 \\ -3 \\ 7 \end{pmatrix}, \vec{b} = \begin{pmatrix} 5 \\ 2 \\ -2 \end{pmatrix}$$

$$\varphi = \arccos \frac{0}{\sqrt{74} \cdot \sqrt{33}} = 90^\circ$$

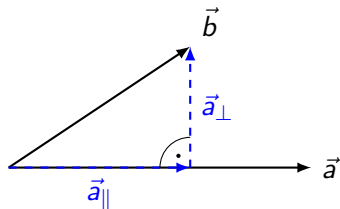
$$(c) \vec{a} = \begin{pmatrix} -3 \\ 1 \\ 1 \end{pmatrix}, \vec{b} = \begin{pmatrix} 1 \\ 0 \\ 0 \end{pmatrix}$$

$$\varphi = \arccos \frac{-3}{\sqrt{11} \cdot 1} = 154.76^\circ$$

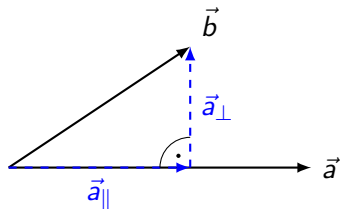
$$(d) \vec{a} = \begin{pmatrix} 0 \\ -1 \\ 1 \end{pmatrix}, \vec{b} = \begin{pmatrix} 0 \\ 1 \\ -1 \end{pmatrix}$$

$$\varphi = \arccos \frac{-2}{\sqrt{2} \cdot \sqrt{2}} = 180^\circ$$

Zerlege den Vektor  $\vec{b}$  in eine zu  $\vec{a}$  kollineare Komponente  $\vec{a}_{\parallel}$  und eine zu  $\vec{a}$  orthogonale Komponente  $\vec{a}_{\perp}$ .

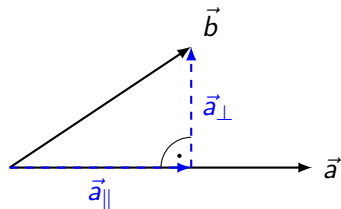


Zerlege den Vektor  $\vec{b}$  in eine zu  $\vec{a}$  kollineare Komponente  $\vec{a}_{\parallel}$  und eine zu  $\vec{a}$  orthogonale Komponente  $\vec{a}_{\perp}$ .



$$\vec{a}_{\parallel} = k \cdot \vec{a}$$

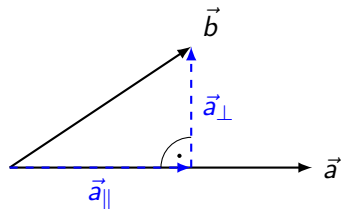
Zerlege den Vektor  $\vec{b}$  in eine zu  $\vec{a}$  kollineare Komponente  $\vec{a}_{\parallel}$  und eine zu  $\vec{a}$  orthogonale Komponente  $\vec{a}_{\perp}$ .



$$\vec{a}_{\parallel} = k \cdot \vec{a}$$

$$\vec{a}_{\perp} = -\vec{a}_{\parallel} + \vec{b}$$

Zerlege den Vektor  $\vec{b}$  in eine zu  $\vec{a}$  kollineare Komponente  $\vec{a}_{\parallel}$  und eine zu  $\vec{a}$  orthogonale Komponente  $\vec{a}_{\perp}$ .



$$\vec{a}_{\parallel} = k \cdot \vec{a}$$

$$\vec{a}_{\perp} = -\vec{a}_{\parallel} + \vec{b} = \vec{b} - k \cdot \vec{a}$$

$$\vec{a} \cdot \vec{a}_{\perp} = 0 \quad (\text{Das ist einfacher als } \vec{a}_{\parallel} \cdot \vec{a}_{\perp} = 0.)$$

$$\vec{a} \cdot \vec{a}_\perp = 0 \quad (\text{Das ist einfacher als } \vec{a}_\parallel \cdot \vec{a}_\perp = 0.)$$

$$\vec{a} \cdot (\vec{b} - k \cdot \vec{a}) = 0$$

$$\vec{a} \cdot \vec{a}_\perp = 0 \quad (\text{Das ist einfacher als } \vec{a}_\parallel \cdot \vec{a}_\perp = 0.)$$

$$\vec{a} \cdot (\vec{b} - k \cdot \vec{a}) = 0$$

$$\vec{a} \cdot \vec{b} - k \cdot \vec{a} \cdot \vec{a} = 0$$

$$\vec{a} \cdot \vec{a}_{\perp} = 0 \quad (\text{Das ist einfacher als } \vec{a}_{\parallel} \cdot \vec{a}_{\perp} = 0.)$$

$$\vec{a} \cdot (\vec{b} - k \cdot \vec{a}) = 0$$

$$\vec{a} \cdot \vec{b} - k \cdot \vec{a} \cdot \vec{a} = 0$$

$$k = \frac{\vec{a} \cdot \vec{b}}{\vec{a} \cdot \vec{a}}$$

$$\vec{a} \cdot \vec{a}_{\perp} = 0 \quad (\text{Das ist einfacher als } \vec{a}_{\parallel} \cdot \vec{a}_{\perp} = 0.)$$

$$\vec{a} \cdot (\vec{b} - k \cdot \vec{a}) = 0$$

$$\vec{a} \cdot \vec{b} - k \cdot \vec{a} \cdot \vec{a} = 0$$

$$k = \frac{\vec{a} \cdot \vec{b}}{\vec{a} \cdot \vec{a}}$$

$$\vec{a}_{\parallel} = \frac{\vec{a} \cdot \vec{b}}{\vec{a} \cdot \vec{a}} \cdot \vec{a}$$

$$\vec{a} \cdot \vec{a}_\perp = 0 \quad (\text{Das ist einfacher als } \vec{a}_\parallel \cdot \vec{a}_\perp = 0.)$$

$$\vec{a} \cdot (\vec{b} - k \cdot \vec{a}) = 0$$

$$\vec{a} \cdot \vec{b} - k \cdot \vec{a} \cdot \vec{a} = 0$$

$$k = \frac{\vec{a} \cdot \vec{b}}{\vec{a} \cdot \vec{a}}$$

$$\vec{a}_\parallel = \frac{\vec{a} \cdot \vec{b}}{\vec{a} \cdot \vec{a}} \cdot \vec{a}$$

$$\vec{a}_\perp = \vec{b} - \frac{\vec{a} \cdot \vec{b}}{\vec{a} \cdot \vec{a}} \cdot \vec{a}$$

$$\vec{a} \cdot \vec{a}_{\perp} = 0 \quad (\text{Das ist einfacher als } \vec{a}_{\parallel} \cdot \vec{a}_{\perp} = 0.)$$

$$\vec{a} \cdot (\vec{b} - k \cdot \vec{a}) = 0$$

$$\vec{a} \cdot \vec{b} - k \cdot \vec{a} \cdot \vec{a} = 0$$

$$k = \frac{\vec{a} \cdot \vec{b}}{\vec{a} \cdot \vec{a}}$$

$$\vec{a}_{\parallel} = \frac{\vec{a} \cdot \vec{b}}{\vec{a} \cdot \vec{a}} \cdot \vec{a}$$

$$\vec{a}_{\perp} = \vec{b} - \frac{\vec{a} \cdot \vec{b}}{\vec{a} \cdot \vec{a}} \cdot \vec{a}$$

**Achtung:** Die Faktoren der Skalarprodukte dürfen nicht „gekürzt“ werden.

## Beispiel

Stelle den Vektor  $\vec{b} = \begin{pmatrix} 18 \\ 10 \\ -15 \end{pmatrix}$  als Linearkombination von  $\vec{a}_{\parallel}$  und

$\vec{a}_{\perp}$  dar, die parallel bzw. senkrecht zum Vektor  $\vec{a} = \begin{pmatrix} 1 \\ -3 \\ 2 \end{pmatrix}$  sind.

## Beispiel

Stelle den Vektor  $\vec{b} = \begin{pmatrix} 18 \\ 10 \\ -15 \end{pmatrix}$  als Linearkombination von  $\vec{a}_{\parallel}$  und

$\vec{a}_{\perp}$  dar, die parallel bzw. senkrecht zum Vektor  $\vec{a} = \begin{pmatrix} 1 \\ -3 \\ 2 \end{pmatrix}$  sind.

$$\vec{a}_{\parallel} = \frac{\vec{a} \cdot \vec{b}}{\vec{a} \cdot \vec{a}} \cdot \vec{a}$$

## Beispiel

Stelle den Vektor  $\vec{b} = \begin{pmatrix} 18 \\ 10 \\ -15 \end{pmatrix}$  als Linearkombination von  $\vec{a}_{\parallel}$  und

$\vec{a}_{\perp}$  dar, die parallel bzw. senkrecht zum Vektor  $\vec{a} = \begin{pmatrix} 1 \\ -3 \\ 2 \end{pmatrix}$  sind.

$$\vec{a}_{\parallel} = \frac{\vec{a} \cdot \vec{b}}{\vec{a} \cdot \vec{a}} \cdot \vec{a} = \frac{-42}{14} \cdot \vec{a}$$

## Beispiel

Stelle den Vektor  $\vec{b} = \begin{pmatrix} 18 \\ 10 \\ -15 \end{pmatrix}$  als Linearkombination von  $\vec{a}_{\parallel}$  und

$\vec{a}_{\perp}$  dar, die parallel bzw. senkrecht zum Vektor  $\vec{a} = \begin{pmatrix} 1 \\ -3 \\ 2 \end{pmatrix}$  sind.

$$\vec{a}_{\parallel} = \frac{\vec{a} \cdot \vec{b}}{\vec{a} \cdot \vec{a}} \cdot \vec{a} = \frac{-42}{14} \cdot \vec{a} = -3 \cdot \vec{a}$$

## Beispiel

Stelle den Vektor  $\vec{b} = \begin{pmatrix} 18 \\ 10 \\ -15 \end{pmatrix}$  als Linearkombination von  $\vec{a}_{\parallel}$  und

$\vec{a}_{\perp}$  dar, die parallel bzw. senkrecht zum Vektor  $\vec{a} = \begin{pmatrix} 1 \\ -3 \\ 2 \end{pmatrix}$  sind.

$$\vec{a}_{\parallel} = \frac{\vec{a} \cdot \vec{b}}{\vec{a} \cdot \vec{a}} \cdot \vec{a} = \frac{-42}{14} \cdot \vec{a} = -3 \cdot \vec{a} = \begin{pmatrix} -3 \\ 9 \\ -6 \end{pmatrix}$$

## Beispiel

Stelle den Vektor  $\vec{b} = \begin{pmatrix} 18 \\ 10 \\ -15 \end{pmatrix}$  als Linearkombination von  $\vec{a}_{\parallel}$  und

$\vec{a}_{\perp}$  dar, die parallel bzw. senkrecht zum Vektor  $\vec{a} = \begin{pmatrix} 1 \\ -3 \\ 2 \end{pmatrix}$  sind.

$$\vec{a}_{\parallel} = \frac{\vec{a} \cdot \vec{b}}{\vec{a} \cdot \vec{a}} \cdot \vec{a} = \frac{-42}{14} \cdot \vec{a} = -3 \cdot \vec{a} = \begin{pmatrix} -3 \\ 9 \\ -6 \end{pmatrix}$$

$\vec{a}_{\perp}$

## Beispiel

Stelle den Vektor  $\vec{b} = \begin{pmatrix} 18 \\ 10 \\ -15 \end{pmatrix}$  als Linearkombination von  $\vec{a}_{\parallel}$  und

$\vec{a}_{\perp}$  dar, die parallel bzw. senkrecht zum Vektor  $\vec{a} = \begin{pmatrix} 1 \\ -3 \\ 2 \end{pmatrix}$  sind.

$$\vec{a}_{\parallel} = \frac{\vec{a} \cdot \vec{b}}{\vec{a} \cdot \vec{a}} \cdot \vec{a} = \frac{-42}{14} \cdot \vec{a} = -3 \cdot \vec{a} = \begin{pmatrix} -3 \\ 9 \\ -6 \end{pmatrix}$$

$$\vec{a}_{\perp} = \vec{b} - \vec{a}_{\parallel}$$

## Beispiel

Stelle den Vektor  $\vec{b} = \begin{pmatrix} 18 \\ 10 \\ -15 \end{pmatrix}$  als Linearkombination von  $\vec{a}_{\parallel}$  und

$\vec{a}_{\perp}$  dar, die parallel bzw. senkrecht zum Vektor  $\vec{a} = \begin{pmatrix} 1 \\ -3 \\ 2 \end{pmatrix}$  sind.

$$\vec{a}_{\parallel} = \frac{\vec{a} \cdot \vec{b}}{\vec{a} \cdot \vec{a}} \cdot \vec{a} = \frac{-42}{14} \cdot \vec{a} = -3 \cdot \vec{a} = \begin{pmatrix} -3 \\ 9 \\ -6 \end{pmatrix}$$

$$\vec{a}_{\perp} = \vec{b} - \vec{a}_{\parallel} = \begin{pmatrix} 18 \\ 10 \\ -15 \end{pmatrix} - \begin{pmatrix} -3 \\ 9 \\ -6 \end{pmatrix}$$

## Beispiel

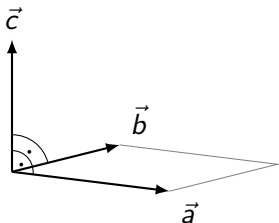
Stelle den Vektor  $\vec{b} = \begin{pmatrix} 18 \\ 10 \\ -15 \end{pmatrix}$  als Linearkombination von  $\vec{a}_{\parallel}$  und

$\vec{a}_{\perp}$  dar, die parallel bzw. senkrecht zum Vektor  $\vec{a} = \begin{pmatrix} 1 \\ -3 \\ 2 \end{pmatrix}$  sind.

$$\vec{a}_{\parallel} = \frac{\vec{a} \cdot \vec{b}}{\vec{a} \cdot \vec{a}} \cdot \vec{a} = \frac{-42}{14} \cdot \vec{a} = -3 \cdot \vec{a} = \begin{pmatrix} -3 \\ 9 \\ -6 \end{pmatrix}$$

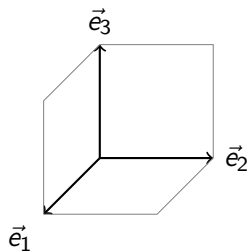
$$\vec{a}_{\perp} = \vec{b} - \vec{a}_{\parallel} = \begin{pmatrix} 18 \\ 10 \\ -15 \end{pmatrix} - \begin{pmatrix} -3 \\ 9 \\ -6 \end{pmatrix} = \begin{pmatrix} 21 \\ 1 \\ -9 \end{pmatrix}$$

Das *Vektorprodukt* (oder *Kreuzprodukt*)  $\vec{a} \times \vec{b}$  aus den Vektoren  $\vec{a}, \vec{b} \in \mathbb{R}^3$  ist ein Vektor  $\vec{c} \in \mathbb{R}^3$ , der durch die folgenden drei Eigenschaften eindeutig bestimmt ist:



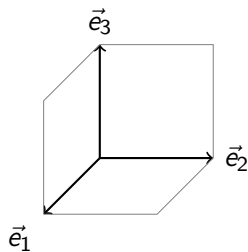
- ▶  $\vec{c} \perp \vec{a}$  und  $\vec{c} \perp \vec{b}$
- ▶  $|\vec{c}|$  ist die Flächenmasszahl des von  $\vec{a}$  und  $\vec{b}$  aufgespannten Parallelogramms.
- ▶ Die Vektoren  $\vec{a}, \vec{b}$  und  $\vec{c}$  bilden ein *Rechtssystem*.

# Die Vektorprodukte der Basisvektoren



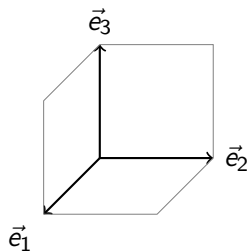
$$\vec{e}_1 \times \vec{e}_1 =$$

# Die Vektorprodukte der Basisvektoren



$$\vec{e}_1 \times \vec{e}_1 = \vec{0}$$

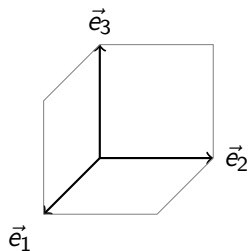
# Die Vektorprodukte der Basisvektoren



$$\vec{e}_1 \times \vec{e}_1 = \vec{0}$$

$$\vec{e}_1 \times \vec{e}_2 =$$

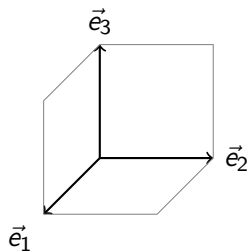
# Die Vektorprodukte der Basisvektoren



$$\vec{e}_1 \times \vec{e}_1 = \vec{0}$$

$$\vec{e}_1 \times \vec{e}_2 = \vec{e}_3$$

# Die Vektorprodukte der Basisvektoren

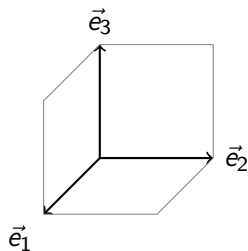


$$\vec{e}_1 \times \vec{e}_1 = \vec{0}$$

$$\vec{e}_1 \times \vec{e}_2 = \vec{e}_3$$

$$\vec{e}_1 \times \vec{e}_3 =$$

# Die Vektorprodukte der Basisvektoren

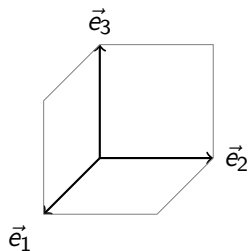


$$\vec{e}_1 \times \vec{e}_1 = \vec{0}$$

$$\vec{e}_1 \times \vec{e}_2 = \vec{e}_3$$

$$\vec{e}_1 \times \vec{e}_3 = -\vec{e}_2$$

# Die Vektorprodukte der Basisvektoren



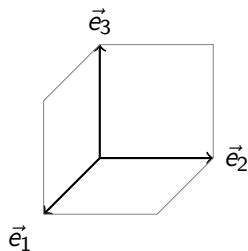
$$\vec{e}_1 \times \vec{e}_1 = \vec{0}$$

$$\vec{e}_2 \times \vec{e}_1 =$$

$$\vec{e}_1 \times \vec{e}_2 = \vec{e}_3$$

$$\vec{e}_1 \times \vec{e}_3 = -\vec{e}_2$$

# Die Vektorprodukte der Basisvektoren



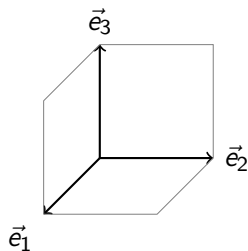
$$\vec{e}_1 \times \vec{e}_1 = \vec{0}$$

$$\vec{e}_2 \times \vec{e}_1 = -\vec{e}_3$$

$$\vec{e}_1 \times \vec{e}_2 = \vec{e}_3$$

$$\vec{e}_1 \times \vec{e}_3 = -\vec{e}_2$$

# Die Vektorprodukte der Basisvektoren



$$\vec{e}_1 \times \vec{e}_1 = \vec{0}$$

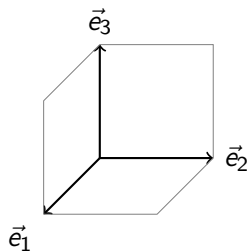
$$\vec{e}_2 \times \vec{e}_1 = -\vec{e}_3$$

$$\vec{e}_1 \times \vec{e}_2 = \vec{e}_3$$

$$\vec{e}_2 \times \vec{e}_2 =$$

$$\vec{e}_1 \times \vec{e}_3 = -\vec{e}_2$$

# Die Vektorprodukte der Basisvektoren



$$\vec{e}_1 \times \vec{e}_1 = \vec{0}$$

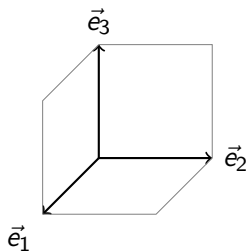
$$\vec{e}_2 \times \vec{e}_1 = -\vec{e}_3$$

$$\vec{e}_1 \times \vec{e}_2 = \vec{e}_3$$

$$\vec{e}_2 \times \vec{e}_2 = \vec{0}$$

$$\vec{e}_1 \times \vec{e}_3 = -\vec{e}_2$$

# Die Vektorprodukte der Basisvektoren



$$\vec{e}_1 \times \vec{e}_1 = \vec{0}$$

$$\vec{e}_1 \times \vec{e}_2 = \vec{e}_3$$

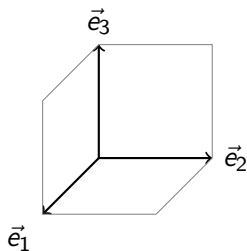
$$\vec{e}_1 \times \vec{e}_3 = -\vec{e}_2$$

$$\vec{e}_2 \times \vec{e}_1 = -\vec{e}_3$$

$$\vec{e}_2 \times \vec{e}_2 = \vec{0}$$

$$\vec{e}_2 \times \vec{e}_3 =$$

# Die Vektorprodukte der Basisvektoren



$$\vec{e}_1 \times \vec{e}_1 = \vec{0}$$

$$\vec{e}_1 \times \vec{e}_2 = \vec{e}_3$$

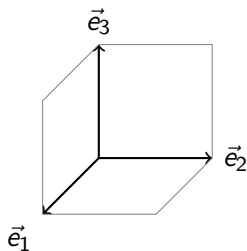
$$\vec{e}_1 \times \vec{e}_3 = -\vec{e}_2$$

$$\vec{e}_2 \times \vec{e}_1 = -\vec{e}_3$$

$$\vec{e}_2 \times \vec{e}_2 = \vec{0}$$

$$\vec{e}_2 \times \vec{e}_3 = \vec{e}_1$$

# Die Vektorprodukte der Basisvektoren



$$\vec{e}_1 \times \vec{e}_1 = \vec{0}$$

$$\vec{e}_1 \times \vec{e}_2 = \vec{e}_3$$

$$\vec{e}_1 \times \vec{e}_3 = -\vec{e}_2$$

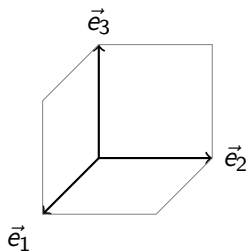
$$\vec{e}_2 \times \vec{e}_1 = -\vec{e}_3$$

$$\vec{e}_2 \times \vec{e}_2 = \vec{0}$$

$$\vec{e}_2 \times \vec{e}_3 = \vec{e}_1$$

$$\vec{e}_3 \times \vec{e}_1 =$$

# Die Vektorprodukte der Basisvektoren



$$\vec{e}_1 \times \vec{e}_1 = \vec{0}$$

$$\vec{e}_1 \times \vec{e}_2 = \vec{e}_3$$

$$\vec{e}_1 \times \vec{e}_3 = -\vec{e}_2$$

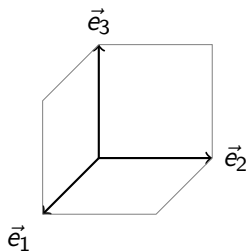
$$\vec{e}_2 \times \vec{e}_1 = -\vec{e}_3$$

$$\vec{e}_2 \times \vec{e}_2 = \vec{0}$$

$$\vec{e}_2 \times \vec{e}_3 = \vec{e}_1$$

$$\vec{e}_3 \times \vec{e}_1 = \vec{e}_2$$

# Die Vektorprodukte der Basisvektoren



$$\vec{e}_1 \times \vec{e}_1 = \vec{0}$$

$$\vec{e}_1 \times \vec{e}_2 = \vec{e}_3$$

$$\vec{e}_1 \times \vec{e}_3 = -\vec{e}_2$$

$$\vec{e}_2 \times \vec{e}_1 = -\vec{e}_3$$

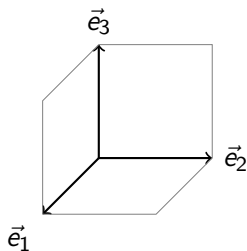
$$\vec{e}_2 \times \vec{e}_2 = \vec{0}$$

$$\vec{e}_2 \times \vec{e}_3 = \vec{e}_1$$

$$\vec{e}_3 \times \vec{e}_1 = \vec{e}_2$$

$$\vec{e}_3 \times \vec{e}_2 =$$

# Die Vektorprodukte der Basisvektoren



$$\vec{e}_1 \times \vec{e}_1 = \vec{0}$$

$$\vec{e}_1 \times \vec{e}_2 = \vec{e}_3$$

$$\vec{e}_1 \times \vec{e}_3 = -\vec{e}_2$$

$$\vec{e}_2 \times \vec{e}_1 = -\vec{e}_3$$

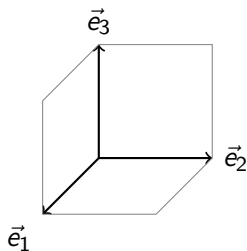
$$\vec{e}_2 \times \vec{e}_2 = \vec{0}$$

$$\vec{e}_2 \times \vec{e}_3 = \vec{e}_1$$

$$\vec{e}_3 \times \vec{e}_1 = \vec{e}_2$$

$$\vec{e}_3 \times \vec{e}_2 = -\vec{e}_1$$

# Die Vektorprodukte der Basisvektoren



$$\vec{e}_1 \times \vec{e}_1 = \vec{0}$$

$$\vec{e}_1 \times \vec{e}_2 = \vec{e}_3$$

$$\vec{e}_1 \times \vec{e}_3 = -\vec{e}_2$$

$$\vec{e}_2 \times \vec{e}_1 = -\vec{e}_3$$

$$\vec{e}_2 \times \vec{e}_2 = \vec{0}$$

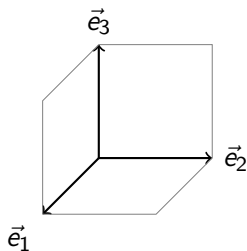
$$\vec{e}_2 \times \vec{e}_3 = \vec{e}_1$$

$$\vec{e}_3 \times \vec{e}_1 = \vec{e}_2$$

$$\vec{e}_3 \times \vec{e}_2 = -\vec{e}_1$$

$$\vec{e}_3 \times \vec{e}_3 =$$

# Die Vektorprodukte der Basisvektoren



$$\vec{e}_1 \times \vec{e}_1 = \vec{0}$$

$$\vec{e}_1 \times \vec{e}_2 = \vec{e}_3$$

$$\vec{e}_1 \times \vec{e}_3 = -\vec{e}_2$$

$$\vec{e}_2 \times \vec{e}_1 = -\vec{e}_3$$

$$\vec{e}_2 \times \vec{e}_2 = \vec{0}$$

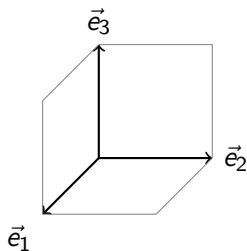
$$\vec{e}_2 \times \vec{e}_3 = \vec{e}_1$$

$$\vec{e}_3 \times \vec{e}_1 = \vec{e}_2$$

$$\vec{e}_3 \times \vec{e}_2 = -\vec{e}_1$$

$$\vec{e}_3 \times \vec{e}_3 = \vec{0}$$

# Die Vektorprodukte der Basisvektoren



$$\vec{e}_1 \times \vec{e}_1 = \vec{0}$$

$$\vec{e}_2 \times \vec{e}_1 = -\vec{e}_3$$

$$\vec{e}_3 \times \vec{e}_1 = \vec{e}_2$$

$$\vec{e}_1 \times \vec{e}_2 = \vec{e}_3$$

$$\vec{e}_2 \times \vec{e}_2 = \vec{0}$$

$$\vec{e}_3 \times \vec{e}_2 = -\vec{e}_1$$

$$\vec{e}_1 \times \vec{e}_3 = -\vec{e}_2$$

$$\vec{e}_2 \times \vec{e}_3 = \vec{e}_1$$

$$\vec{e}_3 \times \vec{e}_3 = \vec{0}$$

Offensichtlich gilt das Kommutativgesetz nicht!

Setzen wir (ohne Beweis) das Distributivgesetz und die Verträglichkeit des Vektorproduktes mit der  $s$ -Multiplikation voraus, so gilt:

$$\vec{a} \times \vec{b}$$

Setzen wir (ohne Beweis) das Distributivgesetz und die Verträglichkeit des Vektorproduktes mit der  $s$ -Multiplikation voraus, so gilt:

$$\vec{a} \times \vec{b} = \begin{pmatrix} a_1 \\ a_2 \\ a_3 \end{pmatrix} \times \begin{pmatrix} b_1 \\ b_2 \\ b_3 \end{pmatrix}$$

Setzen wir (ohne Beweis) das Distributivgesetz und die Verträglichkeit des Vektorproduktes mit der  $s$ -Multiplikation voraus, so gilt:

$$\begin{aligned}\vec{a} \times \vec{b} &= \begin{pmatrix} a_1 \\ a_2 \\ a_3 \end{pmatrix} \times \begin{pmatrix} b_1 \\ b_2 \\ b_3 \end{pmatrix} \\ &= (a_1 \vec{e}_1 + a_2 \vec{e}_2 + a_3 \vec{e}_3) \times (b_1 \vec{e}_1 + b_2 \vec{e}_2 + b_3 \vec{e}_3)\end{aligned}$$

Setzen wir (ohne Beweis) das Distributivgesetz und die Verträglichkeit des Vektorproduktes mit der  $\cdot$ -Multiplikation voraus, so gilt:

$$\vec{a} \times \vec{b} = \begin{pmatrix} a_1 \\ a_2 \\ a_3 \end{pmatrix} \times \begin{pmatrix} b_1 \\ b_2 \\ b_3 \end{pmatrix}$$

$$= (a_1 \vec{e}_1 + a_2 \vec{e}_2 + a_3 \vec{e}_3) \times (b_1 \vec{e}_1 + b_2 \vec{e}_2 + b_3 \vec{e}_3)$$

$$\vec{a} \times \vec{b} = a_1 b_1 \cdot (\vec{e}_1 \times \vec{e}_1) + a_1 b_2 \cdot (\vec{e}_1 \times \vec{e}_2) + a_1 b_3 \cdot (\vec{e}_1 \times \vec{e}_3) +$$

Setzen wir (ohne Beweis) das Distributivgesetz und die Verträglichkeit des Vektorproduktes mit der  $s$ -Multiplikation voraus, so gilt:

$$\vec{a} \times \vec{b} = \begin{pmatrix} a_1 \\ a_2 \\ a_3 \end{pmatrix} \times \begin{pmatrix} b_1 \\ b_2 \\ b_3 \end{pmatrix}$$

$$= (a_1 \vec{e}_1 + a_2 \vec{e}_2 + a_3 \vec{e}_3) \times (b_1 \vec{e}_1 + b_2 \vec{e}_2 + b_3 \vec{e}_3)$$

$$\begin{aligned} \vec{a} \times \vec{b} &= a_1 b_1 \cdot (\vec{e}_1 \times \vec{e}_1) + a_1 b_2 \cdot (\vec{e}_1 \times \vec{e}_2) + a_1 b_3 \cdot (\vec{e}_1 \times \vec{e}_3) + \\ & a_2 b_1 \cdot (\vec{e}_2 \times \vec{e}_1) + a_2 b_2 \cdot (\vec{e}_2 \times \vec{e}_2) + a_2 b_3 \cdot (\vec{e}_2 \times \vec{e}_3) + \end{aligned}$$

Setzen wir (ohne Beweis) das Distributivgesetz und die Verträglichkeit des Vektorproduktes mit der  $s$ -Multiplikation voraus, so gilt:

$$\vec{a} \times \vec{b} = \begin{pmatrix} a_1 \\ a_2 \\ a_3 \end{pmatrix} \times \begin{pmatrix} b_1 \\ b_2 \\ b_3 \end{pmatrix}$$

$$= (a_1 \vec{e}_1 + a_2 \vec{e}_2 + a_3 \vec{e}_3) \times (b_1 \vec{e}_1 + b_2 \vec{e}_2 + b_3 \vec{e}_3)$$

$$\vec{a} \times \vec{b} = a_1 b_1 \cdot (\vec{e}_1 \times \vec{e}_1) + a_1 b_2 \cdot (\vec{e}_1 \times \vec{e}_2) + a_1 b_3 \cdot (\vec{e}_1 \times \vec{e}_3) +$$

$$a_2 b_1 \cdot (\vec{e}_2 \times \vec{e}_1) + a_2 b_2 \cdot (\vec{e}_2 \times \vec{e}_2) + a_2 b_3 \cdot (\vec{e}_2 \times \vec{e}_3) +$$

$$a_3 b_1 \cdot (\vec{e}_3 \times \vec{e}_1) + a_3 b_2 \cdot (\vec{e}_3 \times \vec{e}_2) + a_3 b_3 \cdot (\vec{e}_3 \times \vec{e}_3)$$

$$\vec{a} \times \vec{b} =$$

$$\vec{a} \times \vec{b} = a_1 b_1 \cdot \vec{0} + a_1 b_2 \cdot \vec{e}_3 - a_1 b_3 \cdot \vec{e}_2$$

$$\vec{a} \times \vec{b} = a_1 b_1 \cdot \vec{0} + a_1 b_2 \cdot \vec{e}_3 - a_1 b_3 \cdot \vec{e}_2 \\ - a_2 b_1 \cdot \vec{e}_3 + a_2 b_2 \cdot \vec{0} + a_2 b_3 \cdot \vec{e}_1$$

$$\begin{aligned}\vec{a} \times \vec{b} &= a_1 b_1 \cdot \vec{0} + a_1 b_2 \cdot \vec{e}_3 - a_1 b_3 \cdot \vec{e}_2 \\ &\quad - a_2 b_1 \cdot \vec{e}_3 + a_2 b_2 \cdot \vec{0} + a_2 b_3 \cdot \vec{e}_1 \\ &\quad + a_3 b_1 \cdot \vec{e}_2 - a_3 b_2 \cdot \vec{e}_1 + a_3 b_3 \cdot \vec{0} \\ &= \end{aligned}$$

$$\begin{aligned}\vec{a} \times \vec{b} &= a_1 b_1 \cdot \vec{0} + a_1 b_2 \cdot \vec{e}_3 - a_1 b_3 \cdot \vec{e}_2 \\ &\quad - a_2 b_1 \cdot \vec{e}_3 + a_2 b_2 \cdot \vec{0} + a_2 b_3 \cdot \vec{e}_1 \\ &\quad + a_3 b_1 \cdot \vec{e}_2 - a_3 b_2 \cdot \vec{e}_1 + a_3 b_3 \cdot \vec{0} \\ &= a_1 b_2 \cdot \vec{e}_3 - a_1 b_3 \cdot \vec{e}_2 - a_2 b_1 \cdot \vec{e}_3\end{aligned}$$

$$\begin{aligned}\vec{a} \times \vec{b} &= a_1 b_1 \cdot \vec{0} + a_1 b_2 \cdot \vec{e}_3 - a_1 b_3 \cdot \vec{e}_2 \\ &\quad - a_2 b_1 \cdot \vec{e}_3 + a_2 b_2 \cdot \vec{0} + a_2 b_3 \cdot \vec{e}_1 \\ &\quad + a_3 b_1 \cdot \vec{e}_2 - a_3 b_2 \cdot \vec{e}_1 + a_3 b_3 \cdot \vec{0} \\ &= a_1 b_2 \cdot \vec{e}_3 - a_1 b_3 \cdot \vec{e}_2 - a_2 b_1 \cdot \vec{e}_3\end{aligned}$$

$$\begin{aligned}\vec{a} \times \vec{b} &= a_1 b_1 \cdot \vec{0} + a_1 b_2 \cdot \vec{e}_3 - a_1 b_3 \cdot \vec{e}_2 \\ &\quad - a_2 b_1 \cdot \vec{e}_3 + a_2 b_2 \cdot \vec{0} + a_2 b_3 \cdot \vec{e}_1 \\ &\quad + a_3 b_1 \cdot \vec{e}_2 - a_3 b_2 \cdot \vec{e}_1 + a_3 b_3 \cdot \vec{0} \\ &= a_1 b_2 \cdot \vec{e}_3 - a_1 b_3 \cdot \vec{e}_2 - a_2 b_1 \cdot \vec{e}_3 \\ &\quad + a_2 b_3 \cdot \vec{e}_1 + a_3 b_1 \cdot \vec{e}_2 - a_3 b_2 \cdot \vec{e}_1 \\ &= \end{aligned}$$

$$\begin{aligned}\vec{a} \times \vec{b} &= a_1 b_1 \cdot \vec{0} + a_1 b_2 \cdot \vec{e}_3 - a_1 b_3 \cdot \vec{e}_2 \\ &\quad - a_2 b_1 \cdot \vec{e}_3 + a_2 b_2 \cdot \vec{0} + a_2 b_3 \cdot \vec{e}_1 \\ &\quad + a_3 b_1 \cdot \vec{e}_2 - a_3 b_2 \cdot \vec{e}_1 + a_3 b_3 \cdot \vec{0} \\ &= a_1 b_2 \cdot \vec{e}_3 - a_1 b_3 \cdot \vec{e}_2 - a_2 b_1 \cdot \vec{e}_3 \\ &\quad + a_2 b_3 \cdot \vec{e}_1 + a_3 b_1 \cdot \vec{e}_2 - a_3 b_2 \cdot \vec{e}_1 \\ &= (a_2 b_3 - a_3 b_2) \vec{e}_1 + (a_3 b_1 - a_1 b_3) \vec{e}_2 + (a_1 b_2 - a_2 b_1) \vec{e}_3\end{aligned}$$

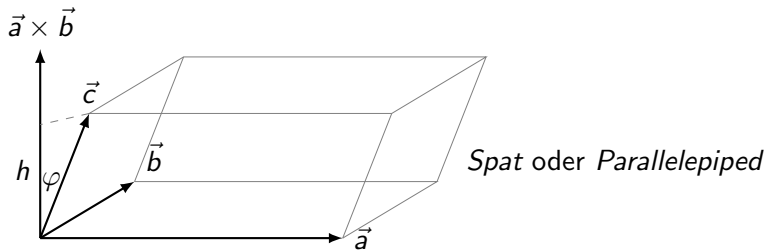
$$\begin{aligned}\vec{a} \times \vec{b} &= a_1 b_1 \cdot \vec{0} + a_1 b_2 \cdot \vec{e}_3 - a_1 b_3 \cdot \vec{e}_2 \\ &\quad - a_2 b_1 \cdot \vec{e}_3 + a_2 b_2 \cdot \vec{0} + a_2 b_3 \cdot \vec{e}_1 \\ &\quad + a_3 b_1 \cdot \vec{e}_2 - a_3 b_2 \cdot \vec{e}_1 + a_3 b_3 \cdot \vec{0} \\ &= a_1 b_2 \cdot \vec{e}_3 - a_1 b_3 \cdot \vec{e}_2 - a_2 b_1 \cdot \vec{e}_3 \\ &\quad + a_2 b_3 \cdot \vec{e}_1 + a_3 b_1 \cdot \vec{e}_2 - a_3 b_2 \cdot \vec{e}_1 \\ &= (a_2 b_3 - a_3 b_2) \vec{e}_1 + (a_3 b_1 - a_1 b_3) \vec{e}_2 + (a_1 b_2 - a_2 b_1) \vec{e}_3\end{aligned}$$

Also:  $\vec{a} \times \vec{b}$

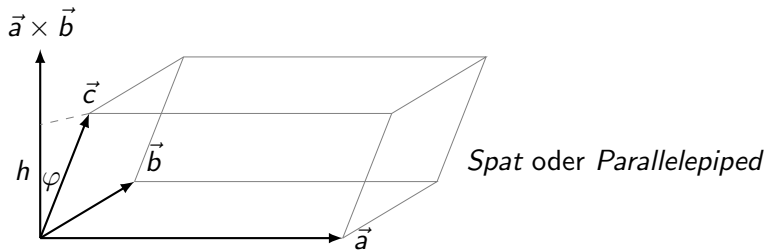
$$\begin{aligned}\vec{a} \times \vec{b} &= a_1 b_1 \cdot \vec{0} + a_1 b_2 \cdot \vec{e}_3 - a_1 b_3 \cdot \vec{e}_2 \\ &\quad - a_2 b_1 \cdot \vec{e}_3 + a_2 b_2 \cdot \vec{0} + a_2 b_3 \cdot \vec{e}_1 \\ &\quad + a_3 b_1 \cdot \vec{e}_2 - a_3 b_2 \cdot \vec{e}_1 + a_3 b_3 \cdot \vec{0} \\ &= a_1 b_2 \cdot \vec{e}_3 - a_1 b_3 \cdot \vec{e}_2 - a_2 b_1 \cdot \vec{e}_3 \\ &\quad + a_2 b_3 \cdot \vec{e}_1 + a_3 b_1 \cdot \vec{e}_2 - a_3 b_2 \cdot \vec{e}_1 \\ &= (a_2 b_3 - a_3 b_2) \vec{e}_1 + (a_3 b_1 - a_1 b_3) \vec{e}_2 + (a_1 b_2 - a_2 b_1) \vec{e}_3\end{aligned}$$

$$\text{Also: } \vec{a} \times \vec{b} = \begin{pmatrix} a_2 b_3 - a_3 b_2 \\ a_3 b_1 - a_1 b_3 \\ a_1 b_2 - a_2 b_1 \end{pmatrix}$$

Wie gross ist das Volumen eines *Spats*, der von den Vektoren  $\vec{a}$ ,  $\vec{b}$  und  $\vec{c}$  aufgespannt wird?

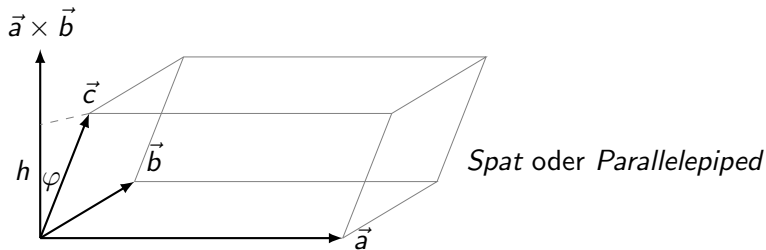


Wie gross ist das Volumen eines *Spats*, der von den Vektoren  $\vec{a}$ ,  $\vec{b}$  und  $\vec{c}$  aufgespannt wird?



$$G = |\vec{a} \times \vec{b}|$$

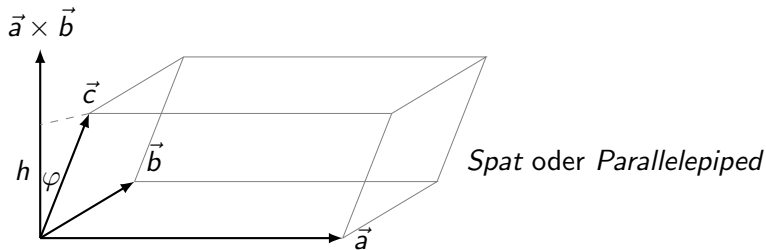
Wie gross ist das Volumen eines *Spats*, der von den Vektoren  $\vec{a}$ ,  $\vec{b}$  und  $\vec{c}$  aufgespannt wird?



$$G = |\vec{a} \times \vec{b}|$$

$$\frac{h}{|\vec{c}|} = |\cos \varphi| \quad \Rightarrow$$

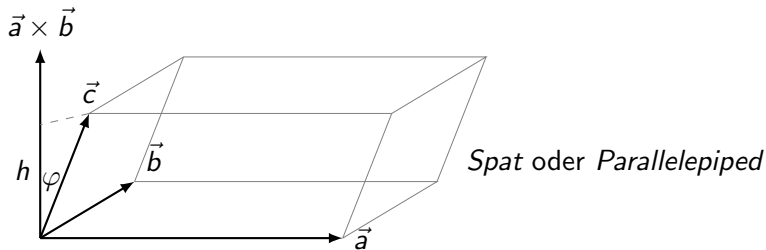
Wie gross ist das Volumen eines *Spat*s, der von den Vektoren  $\vec{a}$ ,  $\vec{b}$  und  $\vec{c}$  aufgespannt wird?



$$G = |\vec{a} \times \vec{b}|$$

$$\frac{h}{|\vec{c}|} = |\cos \varphi| \quad \Rightarrow \quad h = |\vec{c}| \cdot |\cos \varphi|$$

Wie gross ist das Volumen eines *Spat*s, der von den Vektoren  $\vec{a}$ ,  $\vec{b}$  und  $\vec{c}$  aufgespannt wird?

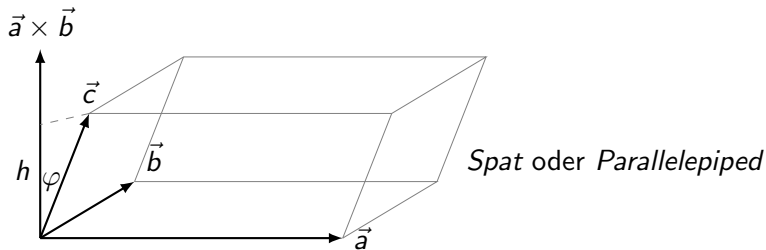


$$G = |\vec{a} \times \vec{b}|$$

$$\frac{h}{|\vec{c}|} = |\cos \varphi| \quad \Rightarrow \quad h = |\vec{c}| \cdot |\cos \varphi|$$

$$V =$$

Wie gross ist das Volumen eines *Spat*s, der von den Vektoren  $\vec{a}$ ,  $\vec{b}$  und  $\vec{c}$  aufgespannt wird?

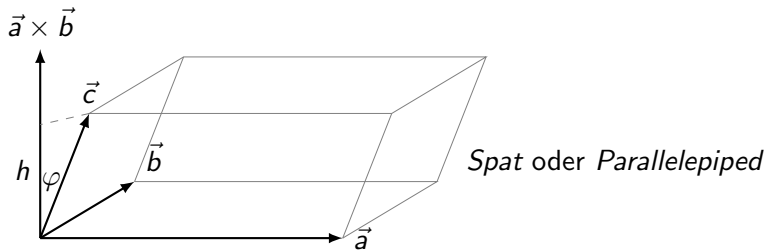


$$G = |\vec{a} \times \vec{b}|$$

$$\frac{h}{|\vec{c}|} = |\cos \varphi| \quad \Rightarrow \quad h = |\vec{c}| \cdot |\cos \varphi|$$

$$V = G \cdot h =$$

Wie gross ist das Volumen eines *Spats*, der von den Vektoren  $\vec{a}$ ,  $\vec{b}$  und  $\vec{c}$  aufgespannt wird?

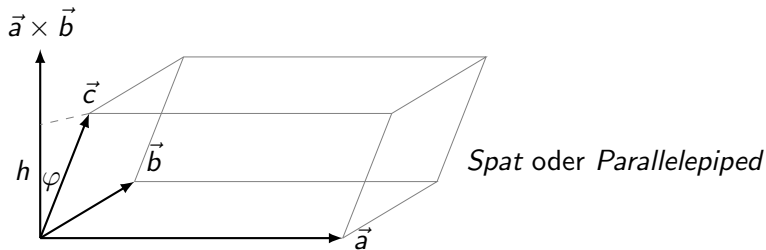


$$G = |\vec{a} \times \vec{b}|$$

$$\frac{h}{|\vec{c}|} = |\cos \varphi| \quad \Rightarrow \quad h = |\vec{c}| \cdot |\cos \varphi|$$

$$V = G \cdot h = |\vec{a} \times \vec{b}| \cdot |\vec{c}| \cdot |\cos \varphi| =$$

Wie gross ist das Volumen eines *Spats*, der von den Vektoren  $\vec{a}$ ,  $\vec{b}$  und  $\vec{c}$  aufgespannt wird?



$$G = |\vec{a} \times \vec{b}|$$

$$\frac{h}{|\vec{c}|} = |\cos \varphi| \quad \Rightarrow \quad h = |\vec{c}| \cdot |\cos \varphi|$$

$$V = G \cdot h = |\vec{a} \times \vec{b}| \cdot |\vec{c}| \cdot |\cos \varphi| = |(\vec{a} \times \vec{b}) \cdot \vec{c}|$$

$[\vec{a}, \vec{b}, \vec{c}] \stackrel{\text{Def.}}{=} (\vec{a} \times \vec{b}) \cdot \vec{c}$  Spatprodukt oder gemischtes Produkt

- ▶ Gilt  $(\vec{a} \times \vec{b}) \cdot \vec{c} > 0$ , so bilden  $\vec{a}$ ,  $\vec{b}$  und  $\vec{c}$  in dieser Reihenfolge ein *Rechtssystem*.
- ▶ Gilt  $(\vec{a} \times \vec{b}) \cdot \vec{c} < 0$ , so bilden  $\vec{a}$ ,  $\vec{b}$  und  $\vec{c}$  in dieser Reihenfolge ein *Linkssystem*.
- ▶ Gilt  $(\vec{a} \times \vec{b}) \cdot \vec{c} = 0$ , so sind  $\vec{a}$ ,  $\vec{b}$  und  $\vec{c}$  linear abhängig.

## Beispiel

Berechne das Volumen des Spats, der von den Vektoren  $\vec{a} = \begin{pmatrix} 2 \\ 2 \\ 1 \end{pmatrix}$ ,

$\vec{b} = \begin{pmatrix} 6 \\ 1 \\ 5 \end{pmatrix}$  und  $\vec{c} = \begin{pmatrix} 3 \\ 3 \\ 3 \end{pmatrix}$  aufgespannt wird.

## Beispiel

Berechne das Volumen des Spats, der von den Vektoren  $\vec{a} = \begin{pmatrix} 2 \\ 2 \\ 1 \end{pmatrix}$ ,

$\vec{b} = \begin{pmatrix} 6 \\ 1 \\ 5 \end{pmatrix}$  und  $\vec{c} = \begin{pmatrix} 3 \\ 3 \\ 3 \end{pmatrix}$  aufgespannt wird.

$$\vec{a} \times \vec{b} =$$

## Beispiel

Berechne das Volumen des Spats, der von den Vektoren  $\vec{a} = \begin{pmatrix} 2 \\ 2 \\ 1 \end{pmatrix}$ ,

$\vec{b} = \begin{pmatrix} 6 \\ 1 \\ 5 \end{pmatrix}$  und  $\vec{c} = \begin{pmatrix} 3 \\ 3 \\ 3 \end{pmatrix}$  aufgespannt wird.

$$\vec{a} \times \vec{b} = \begin{pmatrix} 2 \\ 2 \\ 1 \end{pmatrix} \times \begin{pmatrix} 6 \\ 1 \\ 5 \end{pmatrix} =$$

## Beispiel

Berechne das Volumen des Spats, der von den Vektoren  $\vec{a} = \begin{pmatrix} 2 \\ 2 \\ 1 \end{pmatrix}$ ,

$\vec{b} = \begin{pmatrix} 6 \\ 1 \\ 5 \end{pmatrix}$  und  $\vec{c} = \begin{pmatrix} 3 \\ 3 \\ 3 \end{pmatrix}$  aufgespannt wird.

$$\vec{a} \times \vec{b} = \begin{pmatrix} 2 \\ 2 \\ 1 \end{pmatrix} \times \begin{pmatrix} 6 \\ 1 \\ 5 \end{pmatrix} = \begin{pmatrix} 9 \\ -4 \\ -10 \end{pmatrix}$$

## Beispiel

Berechne das Volumen des Spats, der von den Vektoren  $\vec{a} = \begin{pmatrix} 2 \\ 2 \\ 1 \end{pmatrix}$ ,

$\vec{b} = \begin{pmatrix} 6 \\ 1 \\ 5 \end{pmatrix}$  und  $\vec{c} = \begin{pmatrix} 3 \\ 3 \\ 3 \end{pmatrix}$  aufgespannt wird.

$$\vec{a} \times \vec{b} = \begin{pmatrix} 2 \\ 2 \\ 1 \end{pmatrix} \times \begin{pmatrix} 6 \\ 1 \\ 5 \end{pmatrix} = \begin{pmatrix} 9 \\ -4 \\ -10 \end{pmatrix}$$

$$(\vec{a} \times \vec{b}) \cdot \vec{c} =$$

## Beispiel

Berechne das Volumen des Spats, der von den Vektoren  $\vec{a} = \begin{pmatrix} 2 \\ 2 \\ 1 \end{pmatrix}$ ,

$\vec{b} = \begin{pmatrix} 6 \\ 1 \\ 5 \end{pmatrix}$  und  $\vec{c} = \begin{pmatrix} 3 \\ 3 \\ 3 \end{pmatrix}$  aufgespannt wird.

$$\vec{a} \times \vec{b} = \begin{pmatrix} 2 \\ 2 \\ 1 \end{pmatrix} \times \begin{pmatrix} 6 \\ 1 \\ 5 \end{pmatrix} = \begin{pmatrix} 9 \\ -4 \\ -10 \end{pmatrix}$$

$$(\vec{a} \times \vec{b}) \cdot \vec{c} = \begin{pmatrix} 9 \\ -4 \\ -10 \end{pmatrix} \cdot \begin{pmatrix} 3 \\ 3 \\ 3 \end{pmatrix} =$$

## Beispiel

Berechne das Volumen des Spats, der von den Vektoren  $\vec{a} = \begin{pmatrix} 2 \\ 2 \\ 1 \end{pmatrix}$ ,

$\vec{b} = \begin{pmatrix} 6 \\ 1 \\ 5 \end{pmatrix}$  und  $\vec{c} = \begin{pmatrix} 3 \\ 3 \\ 3 \end{pmatrix}$  aufgespannt wird.

$$\vec{a} \times \vec{b} = \begin{pmatrix} 2 \\ 2 \\ 1 \end{pmatrix} \times \begin{pmatrix} 6 \\ 1 \\ 5 \end{pmatrix} = \begin{pmatrix} 9 \\ -4 \\ -10 \end{pmatrix}$$

$$(\vec{a} \times \vec{b}) \cdot \vec{c} = \begin{pmatrix} 9 \\ -4 \\ -10 \end{pmatrix} \cdot \begin{pmatrix} 3 \\ 3 \\ 3 \end{pmatrix} = 27 - 12 - 30 =$$

## Beispiel

Berechne das Volumen des Spats, der von den Vektoren  $\vec{a} = \begin{pmatrix} 2 \\ 2 \\ 1 \end{pmatrix}$ ,

$\vec{b} = \begin{pmatrix} 6 \\ 1 \\ 5 \end{pmatrix}$  und  $\vec{c} = \begin{pmatrix} 3 \\ 3 \\ 3 \end{pmatrix}$  aufgespannt wird.

$$\vec{a} \times \vec{b} = \begin{pmatrix} 2 \\ 2 \\ 1 \end{pmatrix} \times \begin{pmatrix} 6 \\ 1 \\ 5 \end{pmatrix} = \begin{pmatrix} 9 \\ -4 \\ -10 \end{pmatrix}$$

$$(\vec{a} \times \vec{b}) \cdot \vec{c} = \begin{pmatrix} 9 \\ -4 \\ -10 \end{pmatrix} \cdot \begin{pmatrix} 3 \\ 3 \\ 3 \end{pmatrix} = 27 - 12 - 30 = -15 \text{ (Linkssystem)}$$

## Beispiel

Berechne das Volumen des Spats, der von den Vektoren  $\vec{a} = \begin{pmatrix} 2 \\ 2 \\ 1 \end{pmatrix}$ ,

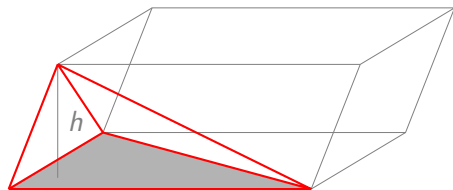
$\vec{b} = \begin{pmatrix} 6 \\ 1 \\ 5 \end{pmatrix}$  und  $\vec{c} = \begin{pmatrix} 3 \\ 3 \\ 3 \end{pmatrix}$  aufgespannt wird.

$$\vec{a} \times \vec{b} = \begin{pmatrix} 2 \\ 2 \\ 1 \end{pmatrix} \times \begin{pmatrix} 6 \\ 1 \\ 5 \end{pmatrix} = \begin{pmatrix} 9 \\ -4 \\ -10 \end{pmatrix}$$

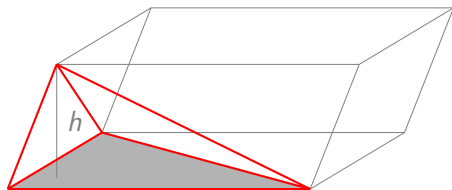
$$(\vec{a} \times \vec{b}) \cdot \vec{c} = \begin{pmatrix} 9 \\ -4 \\ -10 \end{pmatrix} \cdot \begin{pmatrix} 3 \\ 3 \\ 3 \end{pmatrix} = 27 - 12 - 30 = -15 \text{ (Linkssystem)}$$

$$V = 15 \text{ VE}$$

## Das Volumen eines Tetraeders

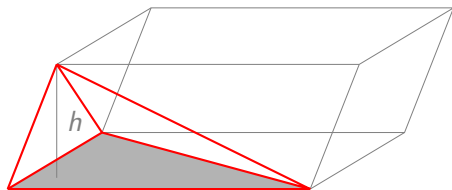


## Das Volumen eines Tetraeders



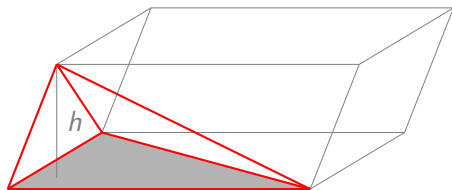
$$V_{\text{Tetraeder}} =$$

## Das Volumen eines Tetraeders



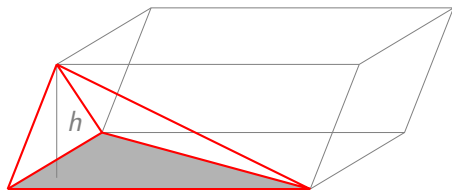
$$V_{\text{Tetraeder}} = \frac{1}{3} \cdot G_{\text{Tetraeder}} \cdot h_{\text{Tetraeder}}$$

## Das Volumen eines Tetraeders



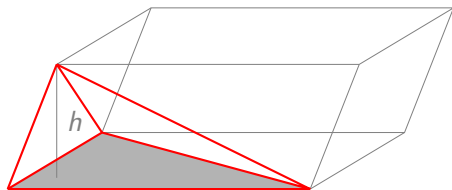
$$V_{\text{Tetraeder}} = \frac{1}{3} \cdot G_{\text{Tetraeder}} \cdot h_{\text{Tetraeder}}$$
$$=$$

## Das Volumen eines Tetraeders



$$\begin{aligned}V_{\text{Tetraeder}} &= \frac{1}{3} \cdot G_{\text{Tetraeder}} \cdot h_{\text{Tetraeder}} \\ &= \frac{1}{3} \cdot \frac{1}{2} \cdot G_{\text{Spat}} \cdot h_{\text{Spat}} =\end{aligned}$$

## Das Volumen eines Tetraeders



$$\begin{aligned}V_{\text{Tetraeder}} &= \frac{1}{3} \cdot G_{\text{Tetraeder}} \cdot h_{\text{Tetraeder}} \\ &= \frac{1}{3} \cdot \frac{1}{2} \cdot G_{\text{Spat}} \cdot h_{\text{Spat}} = \frac{1}{6} \cdot V_{\text{Spat}}\end{aligned}$$

## Beispiel

Berechne das Volumen des Tetraeders, das von  $\vec{a} = \begin{pmatrix} -7 \\ 1 \\ -2 \end{pmatrix}$ ,

$\vec{b} = \begin{pmatrix} 4 \\ 3 \\ 6 \end{pmatrix}$  und  $\vec{c} = \begin{pmatrix} 5 \\ -1 \\ 2 \end{pmatrix}$  aufgespannt wird.

## Beispiel

Berechne das Volumen des Tetraeders, das von  $\vec{a} = \begin{pmatrix} -7 \\ 1 \\ -2 \end{pmatrix}$ ,

$\vec{b} = \begin{pmatrix} 4 \\ 3 \\ 6 \end{pmatrix}$  und  $\vec{c} = \begin{pmatrix} 5 \\ -1 \\ 2 \end{pmatrix}$  aufgespannt wird.

$$\vec{a} \times \vec{b} = \begin{pmatrix} -7 \\ 1 \\ -2 \end{pmatrix} \times \begin{pmatrix} 4 \\ 3 \\ 6 \end{pmatrix} = \begin{pmatrix} 12 \\ 34 \\ -25 \end{pmatrix}$$

## Beispiel

Berechne das Volumen des Tetraeders, das von  $\vec{a} = \begin{pmatrix} -7 \\ 1 \\ -2 \end{pmatrix}$ ,

$\vec{b} = \begin{pmatrix} 4 \\ 3 \\ 6 \end{pmatrix}$  und  $\vec{c} = \begin{pmatrix} 5 \\ -1 \\ 2 \end{pmatrix}$  aufgespannt wird.

$$\vec{a} \times \vec{b} = \begin{pmatrix} -7 \\ 1 \\ -2 \end{pmatrix} \times \begin{pmatrix} 4 \\ 3 \\ 6 \end{pmatrix} = \begin{pmatrix} 12 \\ 34 \\ -25 \end{pmatrix}$$

$$(\vec{a} \times \vec{b}) \cdot \vec{c} = \begin{pmatrix} 12 \\ 34 \\ -25 \end{pmatrix} \cdot \begin{pmatrix} 5 \\ -1 \\ 2 \end{pmatrix} = 60 - 34 - 50 = -24$$

## Beispiel

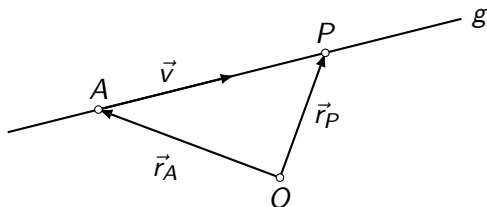
Berechne das Volumen des Tetraeders, das von  $\vec{a} = \begin{pmatrix} -7 \\ 1 \\ -2 \end{pmatrix}$ ,

$\vec{b} = \begin{pmatrix} 4 \\ 3 \\ 6 \end{pmatrix}$  und  $\vec{c} = \begin{pmatrix} 5 \\ -1 \\ 2 \end{pmatrix}$  aufgespannt wird.

$$\vec{a} \times \vec{b} = \begin{pmatrix} -7 \\ 1 \\ -2 \end{pmatrix} \times \begin{pmatrix} 4 \\ 3 \\ 6 \end{pmatrix} = \begin{pmatrix} 12 \\ 34 \\ -25 \end{pmatrix}$$

$$(\vec{a} \times \vec{b}) \cdot \vec{c} = \begin{pmatrix} 12 \\ 34 \\ -25 \end{pmatrix} \cdot \begin{pmatrix} 5 \\ -1 \\ 2 \end{pmatrix} = 60 - 34 - 50 = -24$$

$$V = \frac{1}{6} \cdot 24 = 4 \text{ VE}$$



Die Gerade  $g$  ist festgelegt durch den Punkt  $A$  und einen Richtungsvektor  $\vec{v}$ . Für einen beliebigen Punkt  $P$  gilt:

$$\begin{aligned} P \in g &\Leftrightarrow \overrightarrow{AP} = t \cdot \vec{v} \\ &\Leftrightarrow -\vec{r}_A + \vec{r}_P = t \cdot \vec{v} \\ &\Leftrightarrow \vec{r}_P = \vec{r}_A + t \cdot \vec{v} \end{aligned}$$

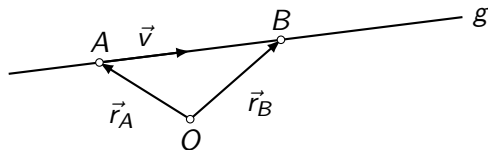
Die Zahl  $t$  wird Parameter genannt.

$P(x, y, z) \in g \Leftrightarrow$  Es gibt einen Wert für  $t$ , der die Parametergleichung erfüllt:

$$g: \begin{pmatrix} x \\ y \\ z \end{pmatrix} = \begin{pmatrix} x_A \\ y_A \\ z_A \end{pmatrix} + t \cdot \begin{pmatrix} x_V \\ y_V \\ z_V \end{pmatrix}$$

## Beispiel 6.2.1

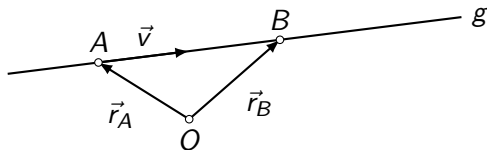
Bestimme eine Gleichung der Geraden  $g$  durch die Punkte  $A(-4, 1, 5)$  und  $B(2, -1, 1)$ .



$$\vec{AB}$$

## Beispiel 6.2.1

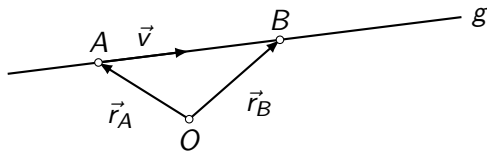
Bestimme eine Gleichung der Geraden  $g$  durch die Punkte  $A(-4, 1, 5)$  und  $B(2, -1, 1)$ .



$$\overrightarrow{AB} = \vec{r}_B - \vec{r}_A$$

## Beispiel 6.2.1

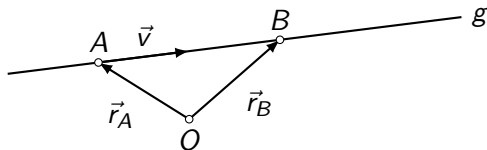
Bestimme eine Gleichung der Geraden  $g$  durch die Punkte  $A(-4, 1, 5)$  und  $B(2, -1, 1)$ .



$$\vec{AB} = \vec{r}_B - \vec{r}_A = \begin{pmatrix} 2 \\ -1 \\ 1 \end{pmatrix} - \begin{pmatrix} -4 \\ 1 \\ 5 \end{pmatrix}$$

## Beispiel 6.2.1

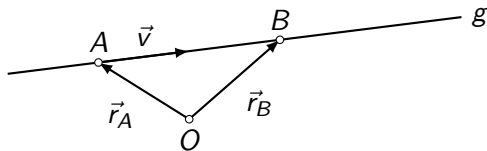
Bestimme eine Gleichung der Geraden  $g$  durch die Punkte  $A(-4, 1, 5)$  und  $B(2, -1, 1)$ .



$$\vec{AB} = \vec{r}_B - \vec{r}_A = \begin{pmatrix} 2 \\ -1 \\ 1 \end{pmatrix} - \begin{pmatrix} -4 \\ 1 \\ 5 \end{pmatrix} = \begin{pmatrix} 6 \\ -2 \\ -4 \end{pmatrix}$$

## Beispiel 6.2.1

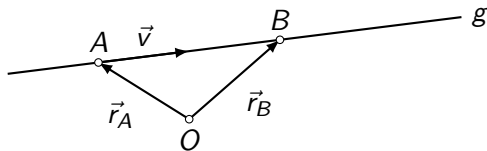
Bestimme eine Gleichung der Geraden  $g$  durch die Punkte  $A(-4, 1, 5)$  und  $B(2, -1, 1)$ .



$$\vec{AB} = \vec{r}_B - \vec{r}_A = \begin{pmatrix} 2 \\ -1 \\ 1 \end{pmatrix} - \begin{pmatrix} -4 \\ 1 \\ 5 \end{pmatrix} = \begin{pmatrix} 6 \\ -2 \\ -4 \end{pmatrix} = -2 \cdot \begin{pmatrix} -3 \\ 1 \\ 2 \end{pmatrix}$$

## Beispiel 6.2.1

Bestimme eine Gleichung der Geraden  $g$  durch die Punkte  $A(-4, 1, 5)$  und  $B(2, -1, 1)$ .



$$\vec{AB} = \vec{r}_B - \vec{r}_A = \begin{pmatrix} 2 \\ -1 \\ 1 \end{pmatrix} - \begin{pmatrix} -4 \\ 1 \\ 5 \end{pmatrix} = \begin{pmatrix} 6 \\ -2 \\ -4 \end{pmatrix} = -2 \cdot \begin{pmatrix} -3 \\ 1 \\ 2 \end{pmatrix}$$

$$g: \begin{pmatrix} x \\ y \\ z \end{pmatrix} = \begin{pmatrix} -4 \\ 1 \\ 5 \end{pmatrix} + t \begin{pmatrix} -3 \\ 1 \\ 2 \end{pmatrix}$$

## Beispiel 6.2.2

$$\text{Gegeben: } g: \begin{pmatrix} x \\ y \\ z \end{pmatrix} = \begin{pmatrix} 5 \\ 9 \\ -4 \end{pmatrix} + t \begin{pmatrix} 3 \\ -2 \\ 1 \end{pmatrix}$$

Welche Punkte gehören zu den Parameterwerten?

▶  $t = 0$ :

## Beispiel 6.2.2

$$\text{Gegeben: } g: \begin{pmatrix} x \\ y \\ z \end{pmatrix} = \begin{pmatrix} 5 \\ 9 \\ -4 \end{pmatrix} + t \begin{pmatrix} 3 \\ -2 \\ 1 \end{pmatrix}$$

Welche Punkte gehören zu den Parameterwerten?

▶  $t = 0$ :  $P(5, 9, -4)$

## Beispiel 6.2.2

$$\text{Gegeben: } g: \begin{pmatrix} x \\ y \\ z \end{pmatrix} = \begin{pmatrix} 5 \\ 9 \\ -4 \end{pmatrix} + t \begin{pmatrix} 3 \\ -2 \\ 1 \end{pmatrix}$$

Welche Punkte gehören zu den Parameterwerten?

▶  $t = 0$ :  $P(5, 9, -4)$

▶  $t = 3$ :  $Q(14, 3, -1)$

## Beispiel 6.2.2

$$\text{Gegeben: } g: \begin{pmatrix} x \\ y \\ z \end{pmatrix} = \begin{pmatrix} 5 \\ 9 \\ -4 \end{pmatrix} + t \begin{pmatrix} 3 \\ -2 \\ 1 \end{pmatrix}$$

Welche Punkte gehören zu den Parameterwerten?

- ▶  $t = 0$ :  $P(5, 9, -4)$
- ▶  $t = 3$ :  $Q(14, 3, -1)$
- ▶  $t = -1$ :

## Beispiel 6.2.2

$$\text{Gegeben: } g: \begin{pmatrix} x \\ y \\ z \end{pmatrix} = \begin{pmatrix} 5 \\ 9 \\ -4 \end{pmatrix} + t \begin{pmatrix} 3 \\ -2 \\ 1 \end{pmatrix}$$

Welche Punkte gehören zu den Parameterwerten?

- ▶  $t = 0$ :  $P(5, 9, -4)$
- ▶  $t = 3$ :  $Q(14, 3, -1)$
- ▶  $t = -1$ :  $R(2, 11, -5)$

## Beispiel 6.2.3

$$\text{Gegeben: } g: \begin{pmatrix} x \\ y \\ z \end{pmatrix} = \begin{pmatrix} -4 \\ 1 \\ 5 \end{pmatrix} + t \begin{pmatrix} 3 \\ -1 \\ -2 \end{pmatrix}$$

Welche der folgenden Punkte liegen auf  $g$ ?

►  $S(-1, 0, 3)$ :

## Beispiel 6.2.3

$$\text{Gegeben: } g: \begin{pmatrix} x \\ y \\ z \end{pmatrix} = \begin{pmatrix} -4 \\ 1 \\ 5 \end{pmatrix} + t \begin{pmatrix} 3 \\ -1 \\ -2 \end{pmatrix}$$

Welche der folgenden Punkte liegen auf  $g$ ?

$$-1 = -4 + 3t$$

►  $S(-1, 0, 3):$   $0 = 1 - t$

$$3 = 5 - 2t$$

## Beispiel 6.2.3

$$\text{Gegeben: } g: \begin{pmatrix} x \\ y \\ z \end{pmatrix} = \begin{pmatrix} -4 \\ 1 \\ 5 \end{pmatrix} + t \begin{pmatrix} 3 \\ -1 \\ -2 \end{pmatrix}$$

Welche der folgenden Punkte liegen auf  $g$ ?

$$\begin{array}{l} -1 = -4 + 3t \qquad t = 1 \\ \blacktriangleright S(-1, 0, 3): \quad 0 = 1 - t \qquad \Rightarrow \quad t = 1 \\ \qquad \qquad \qquad 3 = 5 - 2t \qquad \qquad t = 1 \end{array}$$

## Beispiel 6.2.3

$$\text{Gegeben: } g: \begin{pmatrix} x \\ y \\ z \end{pmatrix} = \begin{pmatrix} -4 \\ 1 \\ 5 \end{pmatrix} + t \begin{pmatrix} 3 \\ -1 \\ -2 \end{pmatrix}$$

Welche der folgenden Punkte liegen auf  $g$ ?

$$\begin{array}{l} -1 = -4 + 3t \qquad t = 1 \\ \blacktriangleright S(-1, 0, 3): \quad 0 = 1 - t \qquad \Rightarrow \quad t = 1 \qquad \Rightarrow \quad S \in g \\ \qquad \qquad \qquad 3 = 5 - 2t \qquad \qquad \qquad t = 1 \end{array}$$

## Beispiel 6.2.3

$$\text{Gegeben: } g: \begin{pmatrix} x \\ y \\ z \end{pmatrix} = \begin{pmatrix} -4 \\ 1 \\ 5 \end{pmatrix} + t \begin{pmatrix} 3 \\ -1 \\ -2 \end{pmatrix}$$

Welche der folgenden Punkte liegen auf  $g$ ?

$$\begin{array}{l} -1 = -4 + 3t \qquad t = 1 \\ \blacktriangleright S(-1, 0, 3): \quad 0 = 1 - t \qquad \Rightarrow \quad t = 1 \quad \Rightarrow \quad S \in g \\ \qquad \qquad \qquad 3 = 5 - 2t \qquad \qquad \qquad t = 1 \end{array}$$

$$\blacktriangleright T(-10, 3, 1):$$

## Beispiel 6.2.3

$$\text{Gegeben: } g: \begin{pmatrix} x \\ y \\ z \end{pmatrix} = \begin{pmatrix} -4 \\ 1 \\ 5 \end{pmatrix} + t \begin{pmatrix} 3 \\ -1 \\ -2 \end{pmatrix}$$

Welche der folgenden Punkte liegen auf  $g$ ?

$$\begin{array}{l} \text{▶ } S(-1, 0, 3): \quad -1 = -4 + 3t \quad \Rightarrow \quad t = 1 \\ \quad \quad \quad \quad \quad 0 = 1 - t \quad \Rightarrow \quad t = 1 \quad \Rightarrow \quad S \in g \\ \quad \quad \quad \quad \quad 3 = 5 - 2t \quad \Rightarrow \quad t = 1 \end{array}$$

$$\begin{array}{l} \text{▶ } T(-10, 3, 1): \quad -10 = -4 + 3t \\ \quad \quad \quad \quad \quad 3 = 1 - t \\ \quad \quad \quad \quad \quad 1 = 5 - 2t \end{array}$$

## Beispiel 6.2.3

$$\text{Gegeben: } g: \begin{pmatrix} x \\ y \\ z \end{pmatrix} = \begin{pmatrix} -4 \\ 1 \\ 5 \end{pmatrix} + t \begin{pmatrix} 3 \\ -1 \\ -2 \end{pmatrix}$$

Welche der folgenden Punkte liegen auf  $g$ ?

$$\begin{array}{rcl} & -1 = -4 + 3t & t = 1 \\ \blacktriangleright S(-1, 0, 3): & 0 = 1 - t & \Rightarrow t = 1 \Rightarrow S \in g \\ & 3 = 5 - 2t & t = 1 \end{array}$$

$$\begin{array}{rcl} & -10 = -4 + 3t & t = -2 \\ \blacktriangleright T(-10, 3, 1): & 3 = 1 - t & \Rightarrow t = -2 \\ & 1 = 5 - 2t & t = 2 \end{array}$$

## Beispiel 6.2.3

$$\text{Gegeben: } g: \begin{pmatrix} x \\ y \\ z \end{pmatrix} = \begin{pmatrix} -4 \\ 1 \\ 5 \end{pmatrix} + t \begin{pmatrix} 3 \\ -1 \\ -2 \end{pmatrix}$$

Welche der folgenden Punkte liegen auf  $g$ ?

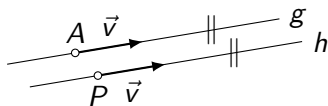
$$\begin{array}{l} -1 = -4 + 3t \qquad t = 1 \\ \text{▶ } S(-1, 0, 3): \quad 0 = 1 - t \qquad \Rightarrow \quad t = 1 \quad \Rightarrow \quad S \in g \\ \qquad \qquad \qquad 3 = 5 - 2t \qquad \qquad \qquad t = 1 \end{array}$$

$$\begin{array}{l} -10 = -4 + 3t \qquad t = -2 \\ \text{▶ } T(-10, 3, 1): \quad 3 = 1 - t \qquad \Rightarrow \quad t = -2 \quad \Rightarrow \quad T \notin g \\ \qquad \qquad \qquad 1 = 5 - 2t \qquad \qquad \qquad t = 2 \end{array}$$

Bestimme eine Gleichung der Geraden  $h$ , die parallel zu

$$g: \begin{pmatrix} x \\ y \\ z \end{pmatrix} = \begin{pmatrix} -3 \\ 7 \\ 2 \end{pmatrix} + t \begin{pmatrix} 5 \\ -6 \\ 4 \end{pmatrix}$$

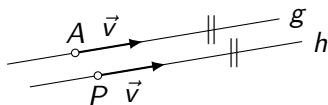
verläuft und durch den Punkt  $P(-7, 8, 11)$  geht.



Bestimme eine Gleichung der Geraden  $h$ , die parallel zu

$$g: \begin{pmatrix} x \\ y \\ z \end{pmatrix} = \begin{pmatrix} -3 \\ 7 \\ 2 \end{pmatrix} + t \begin{pmatrix} 5 \\ -6 \\ 4 \end{pmatrix}$$

verläuft und durch den Punkt  $P(-7, 8, 11)$  geht.

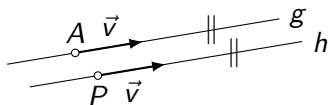


Der Richtungsvektor von  $g$  ist auch ein Richtungsvektor von  $h$ :

Bestimme eine Gleichung der Geraden  $h$ , die parallel zu

$$g: \begin{pmatrix} x \\ y \\ z \end{pmatrix} = \begin{pmatrix} -3 \\ 7 \\ 2 \end{pmatrix} + t \begin{pmatrix} 5 \\ -6 \\ 4 \end{pmatrix}$$

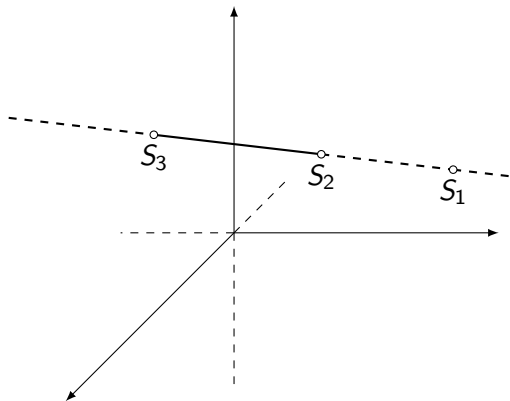
verläuft und durch den Punkt  $P(-7, 8, 11)$  geht.



Der Richtungsvektor von  $g$  ist auch ein Richtungsvektor von  $h$ :

$$h: \begin{pmatrix} x \\ y \\ z \end{pmatrix} = \begin{pmatrix} -7 \\ 8 \\ 11 \end{pmatrix} + t \begin{pmatrix} 5 \\ -6 \\ 4 \end{pmatrix}$$

Die Spurpunkte  $S_1$ ,  $S_2$ ,  $S_3$  einer Geraden  $g$  sind die Schnittpunkte von  $g$  mit den Koordinatenebenen  $\pi_1$  ( $xy$ -Ebene),  $\pi_2$  ( $yz$ -Ebene) und  $\pi_3$  ( $zx$ -Ebene).



## Beispiel 6.3.1

Bestimme den ersten Spurpunkt der Geraden

$$g: \begin{pmatrix} x \\ y \\ z \end{pmatrix} = \begin{pmatrix} 4 \\ -3 \\ 6 \end{pmatrix} + t \begin{pmatrix} -2 \\ 3 \\ 3 \end{pmatrix}$$

$$g \cap \pi_1 = S_1(x, y, 0):$$

## Beispiel 6.3.1

Bestimme den ersten Spurpunkt der Geraden

$$g: \begin{pmatrix} x \\ y \\ z \end{pmatrix} = \begin{pmatrix} 4 \\ -3 \\ 6 \end{pmatrix} + t \begin{pmatrix} -2 \\ 3 \\ 3 \end{pmatrix}$$

$$g \cap \pi_1 = S_1(x, y, 0):$$

$$x = 4 - 2t$$

$$y = -3 + 3t$$

$$0 = 6 + 3t$$

## Beispiel 6.3.1

Bestimme den ersten Spurpunkt der Geraden

$$g: \begin{pmatrix} x \\ y \\ z \end{pmatrix} = \begin{pmatrix} 4 \\ -3 \\ 6 \end{pmatrix} + t \begin{pmatrix} -2 \\ 3 \\ 3 \end{pmatrix}$$

$$g \cap \pi_1 = S_1(x, y, 0):$$

$$x = 4 - 2t$$

$$y = -3 + 3t$$

$$0 = 6 + 3t \quad \Rightarrow \quad t = -2$$

## Beispiel 6.3.1

Bestimme den ersten Spurpunkt der Geraden

$$g: \begin{pmatrix} x \\ y \\ z \end{pmatrix} = \begin{pmatrix} 4 \\ -3 \\ 6 \end{pmatrix} + t \begin{pmatrix} -2 \\ 3 \\ 3 \end{pmatrix}$$

$$g \cap \pi_1 = S_1(x, y, 0):$$

$$x = 4 - 2t \quad \Rightarrow \quad x = 8$$

$$y = -3 + 3t \quad \Rightarrow \quad y = -9$$

$$0 = 6 + 3t \quad \Rightarrow \quad t = -2$$

## Beispiel 6.3.1

Bestimme den ersten Spurpunkt der Geraden

$$g: \begin{pmatrix} x \\ y \\ z \end{pmatrix} = \begin{pmatrix} 4 \\ -3 \\ 6 \end{pmatrix} + t \begin{pmatrix} -2 \\ 3 \\ 3 \end{pmatrix}$$

$$g \cap \pi_1 = S_1(x, y, 0):$$

$$x = 4 - 2t \quad \Rightarrow \quad x = 8$$

$$y = -3 + 3t \quad \Rightarrow \quad y = -9 \quad \Rightarrow \quad S_1(8, -9, 0)$$

$$0 = 6 + 3t \quad \Rightarrow \quad t = -2$$

## Beispiel 6.3.2

Bestimme den zweiten Spurpunkt der Geraden

$$g: \begin{pmatrix} x \\ y \\ z \end{pmatrix} = \begin{pmatrix} 4 \\ 3 \\ -8 \end{pmatrix} + t \begin{pmatrix} 0 \\ 5 \\ 2 \end{pmatrix}$$

## Beispiel 6.3.2

Bestimme den zweiten Spurpunkt der Geraden

$$g: \begin{pmatrix} x \\ y \\ z \end{pmatrix} = \begin{pmatrix} 4 \\ 3 \\ -8 \end{pmatrix} + t \begin{pmatrix} 0 \\ 5 \\ 2 \end{pmatrix}$$

$$g \cap \pi_2 = S_2(0, y, z):$$

## Beispiel 6.3.2

Bestimme den zweiten Spurpunkt der Geraden

$$g: \begin{pmatrix} x \\ y \\ z \end{pmatrix} = \begin{pmatrix} 4 \\ 3 \\ -8 \end{pmatrix} + t \begin{pmatrix} 0 \\ 5 \\ 2 \end{pmatrix}$$

$$g \cap \pi_2 = S_2(0, y, z):$$

$$0 = 4 + 0t$$

$$y = 3 + 5t$$

$$z = -8 + 2t$$

## Beispiel 6.3.2

Bestimme den zweiten Spurpunkt der Geraden

$$g: \begin{pmatrix} x \\ y \\ z \end{pmatrix} = \begin{pmatrix} 4 \\ 3 \\ -8 \end{pmatrix} + t \begin{pmatrix} 0 \\ 5 \\ 2 \end{pmatrix}$$

$$g \cap \pi_2 = S_2(0, y, z):$$

$$0 = 4 + 0t \quad \Rightarrow \quad \text{keine Lösung}$$

$$y = 3 + 5t$$

$$z = -8 + 2t$$

## Beispiel 6.3.2

Bestimme den zweiten Spurpunkt der Geraden

$$g: \begin{pmatrix} x \\ y \\ z \end{pmatrix} = \begin{pmatrix} 4 \\ 3 \\ -8 \end{pmatrix} + t \begin{pmatrix} 0 \\ 5 \\ 2 \end{pmatrix}$$

$$g \cap \pi_2 = S_2(0, y, z):$$

$$0 = 4 + 0t \quad \Rightarrow \quad \text{keine Lösung} \quad \Rightarrow \quad \text{kein Spurpunkt}$$

$$y = 3 + 5t$$

$$z = -8 + 2t$$

## Beispiel 6.3.3

Bestimme den dritten Spurpunkt der Geraden

$$g: \begin{pmatrix} x \\ y \\ z \end{pmatrix} = \begin{pmatrix} 4 \\ 0 \\ 3 \end{pmatrix} + t \begin{pmatrix} 2 \\ 0 \\ 5 \end{pmatrix}$$

## Beispiel 6.3.3

Bestimme den dritten Spurpunkt der Geraden

$$g: \begin{pmatrix} x \\ y \\ z \end{pmatrix} = \begin{pmatrix} 4 \\ 0 \\ 3 \end{pmatrix} + t \begin{pmatrix} 2 \\ 0 \\ 5 \end{pmatrix}$$

$$g \cap \pi_3 = S_3(x, 0, z):$$

## Beispiel 6.3.3

Bestimme den dritten Spurpunkt der Geraden

$$g: \begin{pmatrix} x \\ y \\ z \end{pmatrix} = \begin{pmatrix} 4 \\ 0 \\ 3 \end{pmatrix} + t \begin{pmatrix} 2 \\ 0 \\ 5 \end{pmatrix}$$

$$g \cap \pi_3 = S_3(x, 0, z):$$

$$x = 4 + 2t$$

$$0 = 0 + 0t$$

$$z = 3 + 5t$$

## Beispiel 6.3.3

Bestimme den dritten Spurpunkt der Geraden

$$g: \begin{pmatrix} x \\ y \\ z \end{pmatrix} = \begin{pmatrix} 4 \\ 0 \\ 3 \end{pmatrix} + t \begin{pmatrix} 2 \\ 0 \\ 5 \end{pmatrix}$$

$$g \cap \pi_3 = S_3(x, 0, z):$$

$$x = 4 + 2t$$

$$0 = 0 + 0t \quad \Rightarrow \quad \text{jedes } t \in \mathbb{R} \text{ ist Lösung}$$

$$z = 3 + 5t$$

## Beispiel 6.3.3

Bestimme den dritten Spurpunkt der Geraden

$$g: \begin{pmatrix} x \\ y \\ z \end{pmatrix} = \begin{pmatrix} 4 \\ 0 \\ 3 \end{pmatrix} + t \begin{pmatrix} 2 \\ 0 \\ 5 \end{pmatrix}$$

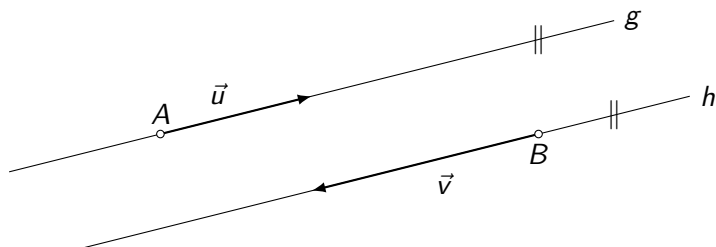
$$g \cap \pi_3 = S_3(x, 0, z):$$

$$x = 4 + 2t$$

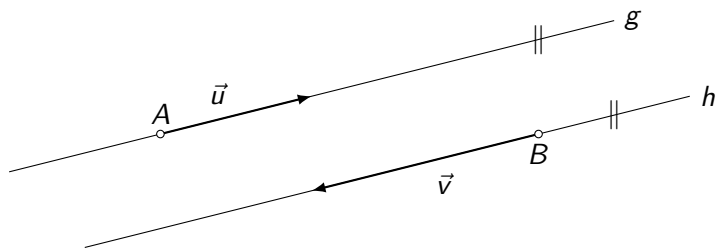
$$0 = 0 + 0t \quad \Rightarrow \quad \text{jedes } t \in \mathbb{R} \text{ ist Lösung} \quad \Rightarrow \quad g \subset \pi_3$$

$$z = 3 + 5t$$

# Parallele Geraden

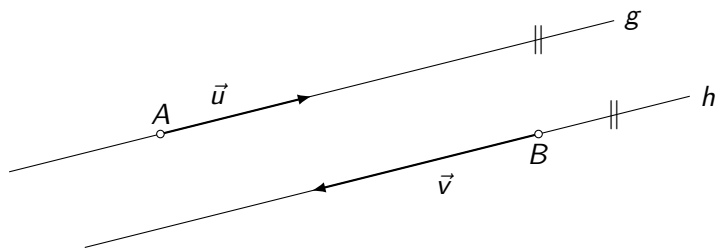


# Parallele Geraden



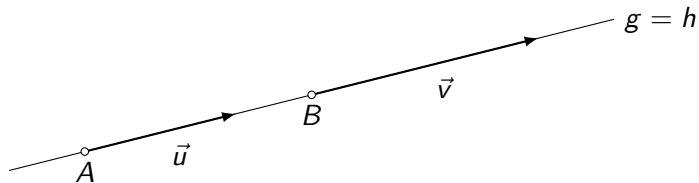
- ▶ kollineare Richtungsvektoren

## Parallele Geraden

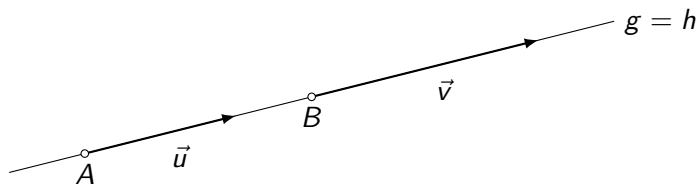


- ▶ kollineare Richtungsvektoren
- ▶ kein gemeinsamer Punkt

## Zusammenfallende Geraden

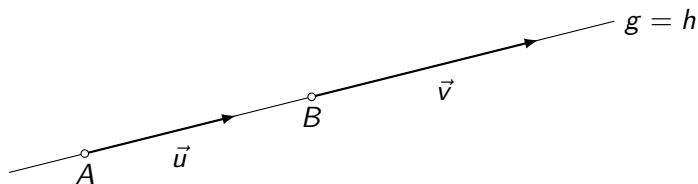


## Zusammenfallende Geraden



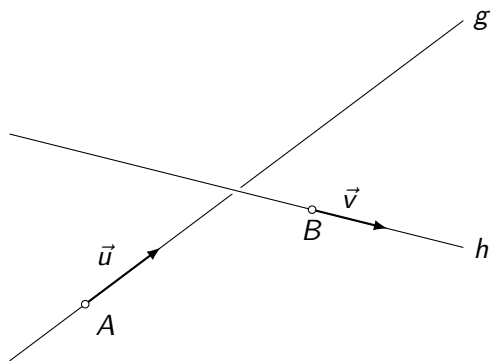
- ▶ kollineare Richtungsvektoren

## Zusammenfallende Geraden

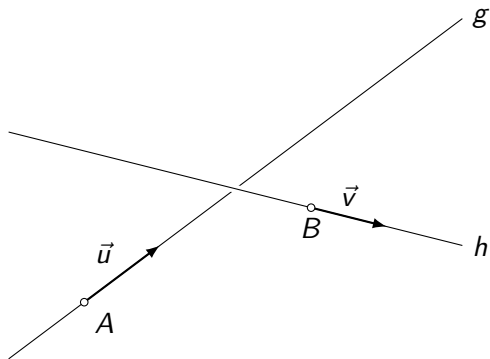


- ▶ kollineare Richtungsvektoren
- ▶ ein gemeinsamer Punkt (und damit unendlich viele)

# Windschiefe Geraden

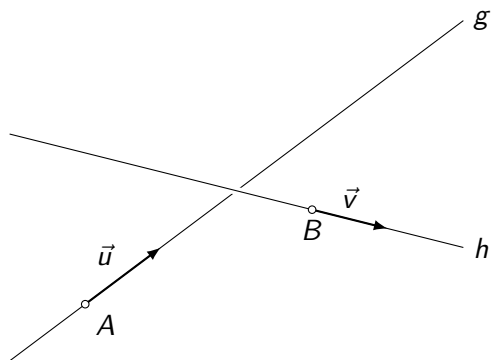


# Windschiefe Geraden



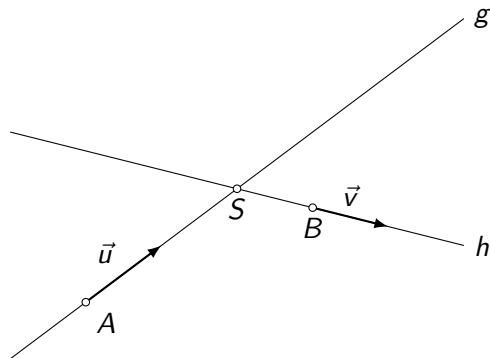
► keine kollinearen Richtungsvektoren

# Windschiefe Geraden

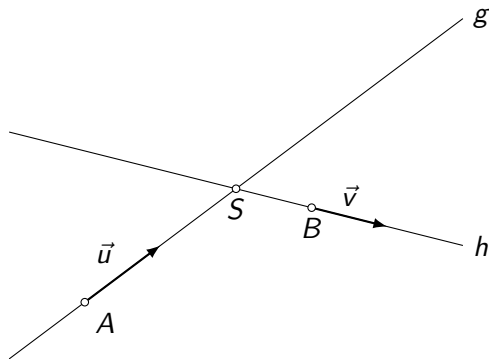


- ▶ keine kollinearen Richtungsvektoren
- ▶ kein gemeinsamer Punkt

# Schneidende Geraden

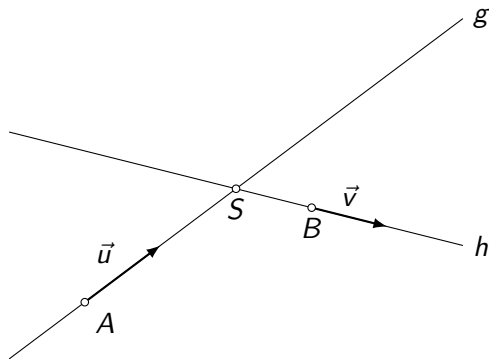


# Schneidende Geraden



► keine kollinearen Richtungsvektoren

## Schneidende Geraden



- ▶ keine kollinearen Richtungsvektoren
- ▶ ein gemeinsamer Punkt

## Zusammenfassung

	RV kollinear	RV nicht kollinear
ein gemeinsamer Punkt		
kein gemeinsamer Punkt		

## Zusammenfassung

	RV kollinear	RV nicht kollinear
ein gemeinsamer Punkt	identisch	
kein gemeinsamer Punkt		

## Zusammenfassung

	RV kollinear	RV nicht kollinear
ein gemeinsamer Punkt	identisch	
kein gemeinsamer Punkt	parallel	

## Zusammenfassung

	RV kollinear	RV nicht kollinear
ein gemeinsamer Punkt	identisch	schneidend
kein gemeinsamer Punkt	parallel	

## Zusammenfassung

	RV kollinear	RV nicht kollinear
ein gemeinsamer Punkt	identisch	schneidend
kein gemeinsamer Punkt	parallel	windschief

## Beispiel 6.4.1

Untersuche die gegenseitige Lage der Geraden.

$$g: \begin{pmatrix} x \\ y \\ z \end{pmatrix} = \begin{pmatrix} 3 \\ 2 \\ 1 \end{pmatrix} + s \begin{pmatrix} -4 \\ 8 \\ 2 \end{pmatrix} \quad h: \begin{pmatrix} x \\ y \\ z \end{pmatrix} = \begin{pmatrix} 1 \\ 0 \\ 5 \end{pmatrix} + t \begin{pmatrix} 6 \\ -12 \\ -3 \end{pmatrix}$$

## Beispiel 6.4.1

Untersuche die gegenseitige Lage der Geraden.

$$g: \begin{pmatrix} x \\ y \\ z \end{pmatrix} = \begin{pmatrix} 3 \\ 2 \\ 1 \end{pmatrix} + s \begin{pmatrix} -4 \\ 8 \\ 2 \end{pmatrix} \quad h: \begin{pmatrix} x \\ y \\ z \end{pmatrix} = \begin{pmatrix} 1 \\ 0 \\ 5 \end{pmatrix} + t \begin{pmatrix} 6 \\ -12 \\ -3 \end{pmatrix}$$

Richtungsvektoren: kollinear, denn  $\vec{v}_h = -1.5 \cdot \vec{v}_g$

## Beispiel 6.4.1

Untersuche die gegenseitige Lage der Geraden.

$$g: \begin{pmatrix} x \\ y \\ z \end{pmatrix} = \begin{pmatrix} 3 \\ 2 \\ 1 \end{pmatrix} + s \begin{pmatrix} -4 \\ 8 \\ 2 \end{pmatrix} \quad h: \begin{pmatrix} x \\ y \\ z \end{pmatrix} = \begin{pmatrix} 1 \\ 0 \\ 5 \end{pmatrix} + t \begin{pmatrix} 6 \\ -12 \\ -3 \end{pmatrix}$$

Richtungsvektoren: kollinear, denn  $\vec{v}_h = -1.5 \cdot \vec{v}_g$

$A(3, 2, 1) \in h?$  [oder:  $B(1, 0, 5) \in g?$ ]

## Beispiel 6.4.1

Untersuche die gegenseitige Lage der Geraden.

$$g: \begin{pmatrix} x \\ y \\ z \end{pmatrix} = \begin{pmatrix} 3 \\ 2 \\ 1 \end{pmatrix} + s \begin{pmatrix} -4 \\ 8 \\ 2 \end{pmatrix} \quad h: \begin{pmatrix} x \\ y \\ z \end{pmatrix} = \begin{pmatrix} 1 \\ 0 \\ 5 \end{pmatrix} + t \begin{pmatrix} 6 \\ -12 \\ -3 \end{pmatrix}$$

Richtungsvektoren: kollinear, denn  $\vec{v}_h = -1.5 \cdot \vec{v}_g$

$A(3, 2, 1) \in h?$  [oder:  $B(1, 0, 5) \in g?$ ]

$$3 = 1 + 6t$$

$$2 = 0 - 12t$$

$$1 = 5 - 3t$$

## Beispiel 6.4.1

Untersuche die gegenseitige Lage der Geraden.

$$g: \begin{pmatrix} x \\ y \\ z \end{pmatrix} = \begin{pmatrix} 3 \\ 2 \\ 1 \end{pmatrix} + s \begin{pmatrix} -4 \\ 8 \\ 2 \end{pmatrix} \quad h: \begin{pmatrix} x \\ y \\ z \end{pmatrix} = \begin{pmatrix} 1 \\ 0 \\ 5 \end{pmatrix} + t \begin{pmatrix} 6 \\ -12 \\ -3 \end{pmatrix}$$

Richtungsvektoren: kollinear, denn  $\vec{v}_h = -1.5 \cdot \vec{v}_g$

$A(3, 2, 1) \in h?$  [oder:  $B(1, 0, 5) \in g?$ ]

$$3 = 1 + 6t \quad t = 1/3$$

$$2 = 0 - 12t \quad \Rightarrow \quad t = -1/6$$

$$1 = 5 - 3t \quad t = 4/3$$

## Beispiel 6.4.1

Untersuche die gegenseitige Lage der Geraden.

$$g: \begin{pmatrix} x \\ y \\ z \end{pmatrix} = \begin{pmatrix} 3 \\ 2 \\ 1 \end{pmatrix} + s \begin{pmatrix} -4 \\ 8 \\ 2 \end{pmatrix} \quad h: \begin{pmatrix} x \\ y \\ z \end{pmatrix} = \begin{pmatrix} 1 \\ 0 \\ 5 \end{pmatrix} + t \begin{pmatrix} 6 \\ -12 \\ -3 \end{pmatrix}$$

Richtungsvektoren: kollinear, denn  $\vec{v}_h = -1.5 \cdot \vec{v}_g$

$A(3, 2, 1) \in h?$  [oder:  $B(1, 0, 5) \in g?$ ]

$$3 = 1 + 6t \quad t = 1/3$$

$$2 = 0 - 12t \quad \Rightarrow \quad t = -1/6 \quad \Rightarrow \quad A \notin h$$

$$1 = 5 - 3t \quad t = 4/3$$

## Beispiel 6.4.1

Untersuche die gegenseitige Lage der Geraden.

$$g: \begin{pmatrix} x \\ y \\ z \end{pmatrix} = \begin{pmatrix} 3 \\ 2 \\ 1 \end{pmatrix} + s \begin{pmatrix} -4 \\ 8 \\ 2 \end{pmatrix} \quad h: \begin{pmatrix} x \\ y \\ z \end{pmatrix} = \begin{pmatrix} 1 \\ 0 \\ 5 \end{pmatrix} + t \begin{pmatrix} 6 \\ -12 \\ -3 \end{pmatrix}$$

Richtungsvektoren: kollinear, denn  $\vec{v}_h = -1.5 \cdot \vec{v}_g$

$A(3, 2, 1) \in h?$  [oder:  $B(1, 0, 5) \in g?$ ]

$$3 = 1 + 6t \quad t = 1/3$$

$$2 = 0 - 12t \quad \Rightarrow \quad t = -1/6 \quad \Rightarrow \quad A \notin h \quad \Rightarrow \quad g \parallel h$$

$$1 = 5 - 3t \quad t = 4/3$$

## Beispiel 6.4.2

Untersuche die gegenseitige Lage der Geraden.

$$g: \begin{pmatrix} x \\ y \\ z \end{pmatrix} = \begin{pmatrix} 9 \\ -2 \\ 3 \end{pmatrix} + s \begin{pmatrix} -2 \\ 1 \\ -9 \end{pmatrix} \quad h: \begin{pmatrix} x \\ y \\ z \end{pmatrix} = \begin{pmatrix} 7 \\ 2 \\ 6 \end{pmatrix} + t \begin{pmatrix} 2 \\ -2 \\ 5 \end{pmatrix}$$

## Beispiel 6.4.2

Untersuche die gegenseitige Lage der Geraden.

$$g: \begin{pmatrix} x \\ y \\ z \end{pmatrix} = \begin{pmatrix} 9 \\ -2 \\ 3 \end{pmatrix} + s \begin{pmatrix} -2 \\ 1 \\ -9 \end{pmatrix} \quad h: \begin{pmatrix} x \\ y \\ z \end{pmatrix} = \begin{pmatrix} 7 \\ 2 \\ 6 \end{pmatrix} + t \begin{pmatrix} 2 \\ -2 \\ 5 \end{pmatrix}$$

Richtungsvektoren:

## Beispiel 6.4.2

Untersuche die gegenseitige Lage der Geraden.

$$g: \begin{pmatrix} x \\ y \\ z \end{pmatrix} = \begin{pmatrix} 9 \\ -2 \\ 3 \end{pmatrix} + s \begin{pmatrix} -2 \\ 1 \\ -9 \end{pmatrix} \quad h: \begin{pmatrix} x \\ y \\ z \end{pmatrix} = \begin{pmatrix} 7 \\ 2 \\ 6 \end{pmatrix} + t \begin{pmatrix} 2 \\ -2 \\ 5 \end{pmatrix}$$

Richtungsvektoren: nicht kollinear

## Beispiel 6.4.2

Untersuche die gegenseitige Lage der Geraden.

$$g: \begin{pmatrix} x \\ y \\ z \end{pmatrix} = \begin{pmatrix} 9 \\ -2 \\ 3 \end{pmatrix} + s \begin{pmatrix} -2 \\ 1 \\ -9 \end{pmatrix} \quad h: \begin{pmatrix} x \\ y \\ z \end{pmatrix} = \begin{pmatrix} 7 \\ 2 \\ 6 \end{pmatrix} + t \begin{pmatrix} 2 \\ -2 \\ 5 \end{pmatrix}$$

Richtungsvektoren: nicht kollinear

$g \cap h?$

## Beispiel 6.4.2

Untersuche die gegenseitige Lage der Geraden.

$$g: \begin{pmatrix} x \\ y \\ z \end{pmatrix} = \begin{pmatrix} 9 \\ -2 \\ 3 \end{pmatrix} + s \begin{pmatrix} -2 \\ 1 \\ -9 \end{pmatrix} \quad h: \begin{pmatrix} x \\ y \\ z \end{pmatrix} = \begin{pmatrix} 7 \\ 2 \\ 6 \end{pmatrix} + t \begin{pmatrix} 2 \\ -2 \\ 5 \end{pmatrix}$$

Richtungsvektoren: nicht kollinear

$g \cap h?$

$$9 - 2s = 7 + 2t$$

$$-2 + s = 2 - 2t$$

$$3 - 9s = 6 + 5t$$

## Beispiel 6.4.2

Untersuche die gegenseitige Lage der Geraden.

$$g: \begin{pmatrix} x \\ y \\ z \end{pmatrix} = \begin{pmatrix} 9 \\ -2 \\ 3 \end{pmatrix} + s \begin{pmatrix} -2 \\ 1 \\ -9 \end{pmatrix} \quad h: \begin{pmatrix} x \\ y \\ z \end{pmatrix} = \begin{pmatrix} 7 \\ 2 \\ 6 \end{pmatrix} + t \begin{pmatrix} 2 \\ -2 \\ 5 \end{pmatrix}$$

Richtungsvektoren: nicht kollinear

$g \cap h$ ?

$$9 - 2s = 7 + 2t \quad -2s - 2t = -2$$

$$-2 + s = 2 - 2t \quad \Rightarrow \quad s + 2t = 4$$

$$3 - 9s = 6 + 5t \quad -9s - 5t = 3$$

## Beispiel 6.4.2

Untersuche die gegenseitige Lage der Geraden.

$$g: \begin{pmatrix} x \\ y \\ z \end{pmatrix} = \begin{pmatrix} 9 \\ -2 \\ 3 \end{pmatrix} + s \begin{pmatrix} -2 \\ 1 \\ -9 \end{pmatrix} \quad h: \begin{pmatrix} x \\ y \\ z \end{pmatrix} = \begin{pmatrix} 7 \\ 2 \\ 6 \end{pmatrix} + t \begin{pmatrix} 2 \\ -2 \\ 5 \end{pmatrix}$$

Richtungsvektoren: nicht kollinear

$g \cap h$ ?

$$\begin{array}{rcl} 9 - 2s = 7 + 2t & -2s - 2t = -2 & \\ -2 + s = 2 - 2t & \Rightarrow s + 2t = 4 & \Rightarrow \begin{array}{l} s = -2 \\ t = 3 \end{array} \\ 3 - 9s = 6 + 5t & -9s - 5t = 3 & \end{array}$$

## Beispiel 6.4.2

Untersuche die gegenseitige Lage der Geraden.

$$g: \begin{pmatrix} x \\ y \\ z \end{pmatrix} = \begin{pmatrix} 9 \\ -2 \\ 3 \end{pmatrix} + s \begin{pmatrix} -2 \\ 1 \\ -9 \end{pmatrix} \quad h: \begin{pmatrix} x \\ y \\ z \end{pmatrix} = \begin{pmatrix} 7 \\ 2 \\ 6 \end{pmatrix} + t \begin{pmatrix} 2 \\ -2 \\ 5 \end{pmatrix}$$

Richtungsvektoren: nicht kollinear

$g \cap h?$

$$\begin{array}{rcl} 9 - 2s = 7 + 2t & -2s - 2t = -2 & \\ -2 + s = 2 - 2t & \Rightarrow s + 2t = 4 & \Rightarrow \begin{array}{l} s = -2 \\ t = 3 \end{array} \\ 3 - 9s = 6 + 5t & -9s - 5t = 3 & \end{array}$$

$$\Rightarrow g \cap h = S(13, -4, 21)$$

## Beispiel 6.4.3

Untersuche die gegenseitige Lage der Geraden.

$$g: \begin{pmatrix} x \\ y \\ z \end{pmatrix} = \begin{pmatrix} 2 \\ 3 \\ 8 \end{pmatrix} + s \begin{pmatrix} 4 \\ -6 \\ 6 \end{pmatrix} \quad h: \begin{pmatrix} x \\ y \\ z \end{pmatrix} = \begin{pmatrix} -6 \\ 15 \\ -4 \end{pmatrix} + t \begin{pmatrix} -2 \\ 3 \\ -3 \end{pmatrix}$$

## Beispiel 6.4.3

Untersuche die gegenseitige Lage der Geraden.

$$g: \begin{pmatrix} x \\ y \\ z \end{pmatrix} = \begin{pmatrix} 2 \\ 3 \\ 8 \end{pmatrix} + s \begin{pmatrix} 4 \\ -6 \\ 6 \end{pmatrix} \quad h: \begin{pmatrix} x \\ y \\ z \end{pmatrix} = \begin{pmatrix} -6 \\ 15 \\ -4 \end{pmatrix} + t \begin{pmatrix} -2 \\ 3 \\ -3 \end{pmatrix}$$

Richtungsvektoren:

## Beispiel 6.4.3

Untersuche die gegenseitige Lage der Geraden.

$$g: \begin{pmatrix} x \\ y \\ z \end{pmatrix} = \begin{pmatrix} 2 \\ 3 \\ 8 \end{pmatrix} + s \begin{pmatrix} 4 \\ -6 \\ 6 \end{pmatrix} \quad h: \begin{pmatrix} x \\ y \\ z \end{pmatrix} = \begin{pmatrix} -6 \\ 15 \\ -4 \end{pmatrix} + t \begin{pmatrix} -2 \\ 3 \\ -3 \end{pmatrix}$$

Richtungsvektoren: kollinear, denn  $\vec{v}_g = (-2) \cdot \vec{v}_h$

## Beispiel 6.4.3

Untersuche die gegenseitige Lage der Geraden.

$$g: \begin{pmatrix} x \\ y \\ z \end{pmatrix} = \begin{pmatrix} 2 \\ 3 \\ 8 \end{pmatrix} + s \begin{pmatrix} 4 \\ -6 \\ 6 \end{pmatrix} \quad h: \begin{pmatrix} x \\ y \\ z \end{pmatrix} = \begin{pmatrix} -6 \\ 15 \\ -4 \end{pmatrix} + t \begin{pmatrix} -2 \\ 3 \\ -3 \end{pmatrix}$$

Richtungsvektoren: kollinear, denn  $\vec{v}_g = (-2) \cdot \vec{v}_h$

$A(2, 3, 8) \in h?$

## Beispiel 6.4.3

Untersuche die gegenseitige Lage der Geraden.

$$g: \begin{pmatrix} x \\ y \\ z \end{pmatrix} = \begin{pmatrix} 2 \\ 3 \\ 8 \end{pmatrix} + s \begin{pmatrix} 4 \\ -6 \\ 6 \end{pmatrix} \quad h: \begin{pmatrix} x \\ y \\ z \end{pmatrix} = \begin{pmatrix} -6 \\ 15 \\ -4 \end{pmatrix} + t \begin{pmatrix} -2 \\ 3 \\ -3 \end{pmatrix}$$

Richtungsvektoren: kollinear, denn  $\vec{v}_g = (-2) \cdot \vec{v}_h$

$A(2, 3, 8) \in h?$

$$2 = -6 - 2t$$

$$3 = 15 + 3t$$

$$8 = -4 - 3t$$

## Beispiel 6.4.3

Untersuche die gegenseitige Lage der Geraden.

$$g: \begin{pmatrix} x \\ y \\ z \end{pmatrix} = \begin{pmatrix} 2 \\ 3 \\ 8 \end{pmatrix} + s \begin{pmatrix} 4 \\ -6 \\ 6 \end{pmatrix} \quad h: \begin{pmatrix} x \\ y \\ z \end{pmatrix} = \begin{pmatrix} -6 \\ 15 \\ -4 \end{pmatrix} + t \begin{pmatrix} -2 \\ 3 \\ -3 \end{pmatrix}$$

Richtungsvektoren: kollinear, denn  $\vec{v}_g = (-2) \cdot \vec{v}_h$

$A(2, 3, 8) \in h?$

$$2 = -6 - 2t \qquad 8 = -2t$$

$$3 = 15 + 3t \quad \Rightarrow \quad -12 = 3t$$

$$8 = -4 - 3t \qquad 12 = -3t$$

## Beispiel 6.4.3

Untersuche die gegenseitige Lage der Geraden.

$$g: \begin{pmatrix} x \\ y \\ z \end{pmatrix} = \begin{pmatrix} 2 \\ 3 \\ 8 \end{pmatrix} + s \begin{pmatrix} 4 \\ -6 \\ 6 \end{pmatrix} \quad h: \begin{pmatrix} x \\ y \\ z \end{pmatrix} = \begin{pmatrix} -6 \\ 15 \\ -4 \end{pmatrix} + t \begin{pmatrix} -2 \\ 3 \\ -3 \end{pmatrix}$$

Richtungsvektoren: kollinear, denn  $\vec{v}_g = (-2) \cdot \vec{v}_h$

$A(2, 3, 8) \in h?$

$$2 = -6 - 2t \qquad 8 = -2t \qquad t = -4$$

$$3 = 15 + 3t \quad \Rightarrow \quad -12 = 3t \quad \Rightarrow \quad t = -4$$

$$8 = -4 - 3t \qquad 12 = -3t \qquad t = -4$$

## Beispiel 6.4.3

Untersuche die gegenseitige Lage der Geraden.

$$g: \begin{pmatrix} x \\ y \\ z \end{pmatrix} = \begin{pmatrix} 2 \\ 3 \\ 8 \end{pmatrix} + s \begin{pmatrix} 4 \\ -6 \\ 6 \end{pmatrix} \quad h: \begin{pmatrix} x \\ y \\ z \end{pmatrix} = \begin{pmatrix} -6 \\ 15 \\ -4 \end{pmatrix} + t \begin{pmatrix} -2 \\ 3 \\ -3 \end{pmatrix}$$

Richtungsvektoren: kollinear, denn  $\vec{v}_g = (-2) \cdot \vec{v}_h$

$A(2, 3, 8) \in h?$

$$\begin{array}{lll} 2 = -6 - 2t & 8 = -2t & t = -4 \\ 3 = 15 + 3t & \Rightarrow -12 = 3t & \Rightarrow t = -4 \Rightarrow g = h \\ 8 = -4 - 3t & 12 = -3t & t = -4 \end{array}$$

## Beispiel 6.4.4

Untersuche die gegenseitige Lage der Geraden.

$$g: \begin{pmatrix} x \\ y \\ z \end{pmatrix} = \begin{pmatrix} -1 \\ 4 \\ 8 \end{pmatrix} + s \begin{pmatrix} 7 \\ -2 \\ 6 \end{pmatrix} \quad h: \begin{pmatrix} x \\ y \\ z \end{pmatrix} = \begin{pmatrix} 11 \\ 20 \\ 24 \end{pmatrix} + t \begin{pmatrix} -1 \\ 8 \\ 4 \end{pmatrix}$$

## Beispiel 6.4.4

Untersuche die gegenseitige Lage der Geraden.

$$g: \begin{pmatrix} x \\ y \\ z \end{pmatrix} = \begin{pmatrix} -1 \\ 4 \\ 8 \end{pmatrix} + s \begin{pmatrix} 7 \\ -2 \\ 6 \end{pmatrix} \quad h: \begin{pmatrix} x \\ y \\ z \end{pmatrix} = \begin{pmatrix} 11 \\ 20 \\ 24 \end{pmatrix} + t \begin{pmatrix} -1 \\ 8 \\ 4 \end{pmatrix}$$

Richtungsvektoren:

## Beispiel 6.4.4

Untersuche die gegenseitige Lage der Geraden.

$$g: \begin{pmatrix} x \\ y \\ z \end{pmatrix} = \begin{pmatrix} -1 \\ 4 \\ 8 \end{pmatrix} + s \begin{pmatrix} 7 \\ -2 \\ 6 \end{pmatrix} \quad h: \begin{pmatrix} x \\ y \\ z \end{pmatrix} = \begin{pmatrix} 11 \\ 20 \\ 24 \end{pmatrix} + t \begin{pmatrix} -1 \\ 8 \\ 4 \end{pmatrix}$$

Richtungsvektoren: nicht kollinear

## Beispiel 6.4.4

Untersuche die gegenseitige Lage der Geraden.

$$g: \begin{pmatrix} x \\ y \\ z \end{pmatrix} = \begin{pmatrix} -1 \\ 4 \\ 8 \end{pmatrix} + s \begin{pmatrix} 7 \\ -2 \\ 6 \end{pmatrix} \quad h: \begin{pmatrix} x \\ y \\ z \end{pmatrix} = \begin{pmatrix} 11 \\ 20 \\ 24 \end{pmatrix} + t \begin{pmatrix} -1 \\ 8 \\ 4 \end{pmatrix}$$

Richtungsvektoren: nicht kollinear

$g \cap h?$

## Beispiel 6.4.4

Untersuche die gegenseitige Lage der Geraden.

$$g: \begin{pmatrix} x \\ y \\ z \end{pmatrix} = \begin{pmatrix} -1 \\ 4 \\ 8 \end{pmatrix} + s \begin{pmatrix} 7 \\ -2 \\ 6 \end{pmatrix} \quad h: \begin{pmatrix} x \\ y \\ z \end{pmatrix} = \begin{pmatrix} 11 \\ 20 \\ 24 \end{pmatrix} + t \begin{pmatrix} -1 \\ 8 \\ 4 \end{pmatrix}$$

Richtungsvektoren: nicht kollinear

$g \cap h$ ?

$$-1 + 7s = 11 - t$$

$$4 - 2s = 20 + 8t$$

$$8 + 6s = 24 + 4t$$

## Beispiel 6.4.4

Untersuche die gegenseitige Lage der Geraden.

$$g: \begin{pmatrix} x \\ y \\ z \end{pmatrix} = \begin{pmatrix} -1 \\ 4 \\ 8 \end{pmatrix} + s \begin{pmatrix} 7 \\ -2 \\ 6 \end{pmatrix} \quad h: \begin{pmatrix} x \\ y \\ z \end{pmatrix} = \begin{pmatrix} 11 \\ 20 \\ 24 \end{pmatrix} + t \begin{pmatrix} -1 \\ 8 \\ 4 \end{pmatrix}$$

Richtungsvektoren: nicht kollinear

$g \cap h$ ?

$$-1 + 7s = 11 - t \quad 7s + t = 12$$

$$4 - 2s = 20 + 8t \quad \Rightarrow \quad -2s - 8t = 16$$

$$8 + 6s = 24 + 4t \quad 6s - 4t = 16$$

## Beispiel 6.4.4

Untersuche die gegenseitige Lage der Geraden.

$$g: \begin{pmatrix} x \\ y \\ z \end{pmatrix} = \begin{pmatrix} -1 \\ 4 \\ 8 \end{pmatrix} + s \begin{pmatrix} 7 \\ -2 \\ 6 \end{pmatrix} \quad h: \begin{pmatrix} x \\ y \\ z \end{pmatrix} = \begin{pmatrix} 11 \\ 20 \\ 24 \end{pmatrix} + t \begin{pmatrix} -1 \\ 8 \\ 4 \end{pmatrix}$$

Richtungsvektoren: nicht kollinear

$g \cap h$ ?

$$-1 + 7s = 11 - t$$

$$7s + t = 12$$

$$4 - 2s = 20 + 8t \quad \Rightarrow \quad -2s - 8t = 16 \quad \Rightarrow \quad \text{keine Lösung}$$

$$8 + 6s = 24 + 4t$$

$$6s - 4t = 16$$

## Beispiel 6.4.4

Untersuche die gegenseitige Lage der Geraden.

$$g: \begin{pmatrix} x \\ y \\ z \end{pmatrix} = \begin{pmatrix} -1 \\ 4 \\ 8 \end{pmatrix} + s \begin{pmatrix} 7 \\ -2 \\ 6 \end{pmatrix} \quad h: \begin{pmatrix} x \\ y \\ z \end{pmatrix} = \begin{pmatrix} 11 \\ 20 \\ 24 \end{pmatrix} + t \begin{pmatrix} -1 \\ 8 \\ 4 \end{pmatrix}$$

Richtungsvektoren: nicht kollinear

$g \cap h$ ?

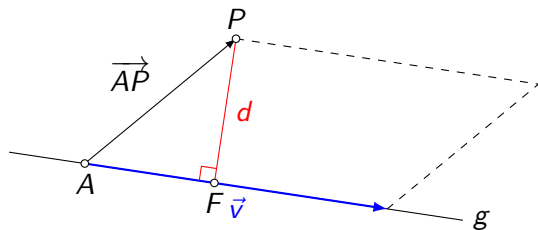
$$-1 + 7s = 11 - t \quad 7s + t = 12$$

$$4 - 2s = 20 + 8t \quad \Rightarrow \quad -2s - 8t = 16 \quad \Rightarrow \quad \text{keine Lösung}$$

$$8 + 6s = 24 + 4t \quad 6s - 4t = 16$$

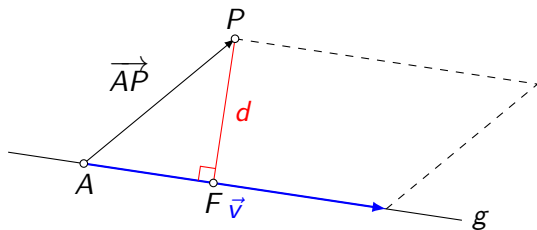
$\Rightarrow$   $g$  und  $h$  sind *windschief*

# Abstand Punkt–Gerade



Berechne den Flächeninhalt des Parallelogramms auf zwei Arten:

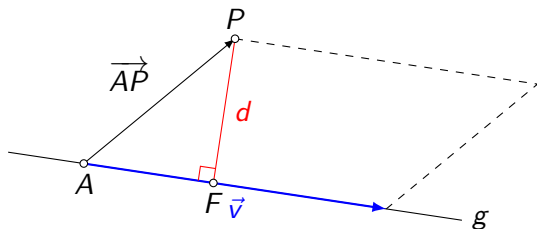
# Abstand Punkt–Gerade



Berechne den Flächeninhalt des Parallelogramms auf zwei Arten:

$$d \cdot |\vec{v}| =$$

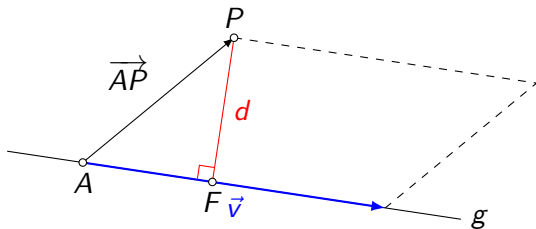
# Abstand Punkt–Gerade



Berechne den Flächeninhalt des Parallelogramms auf zwei Arten:

$$d \cdot |\vec{v}| = |\vec{v} \times \vec{AP}| \quad \Rightarrow \quad d =$$

# Abstand Punkt–Gerade



Berechne den Flächeninhalt des Parallelogramms auf zwei Arten:

$$d \cdot |\vec{v}| = |\vec{v} \times \overrightarrow{AP}| \quad \Rightarrow \quad d = \frac{|\vec{v} \times \overrightarrow{AP}|}{|\vec{v}|}$$

## Beispiel 6.5.1

Bestimme den Abstand  $d$  des Punktes  $P(8, 9, 8)$  von der Geraden

$$g: \begin{pmatrix} x \\ y \\ z \end{pmatrix} = \begin{pmatrix} 1 \\ 5 \\ 3 \end{pmatrix} + t \cdot \begin{pmatrix} 2 \\ 2 \\ 1 \end{pmatrix}$$

sowie den Fusspunkt  $F$  des Lots von  $P$  auf  $g$ .

## Beispiel 6.5.1

Bestimme den Abstand  $d$  des Punktes  $P(8, 9, 8)$  von der Geraden

$$g: \begin{pmatrix} x \\ y \\ z \end{pmatrix} = \begin{pmatrix} 1 \\ 5 \\ 3 \end{pmatrix} + t \cdot \begin{pmatrix} 2 \\ 2 \\ 1 \end{pmatrix}$$

sowie den Fusspunkt  $F$  des Lots von  $P$  auf  $g$ .

$d$

## Beispiel 6.5.1

Bestimme den Abstand  $d$  des Punktes  $P(8, 9, 8)$  von der Geraden

$$g: \begin{pmatrix} x \\ y \\ z \end{pmatrix} = \begin{pmatrix} 1 \\ 5 \\ 3 \end{pmatrix} + t \cdot \begin{pmatrix} 2 \\ 2 \\ 1 \end{pmatrix}$$

sowie den Fusspunkt  $F$  des Lots von  $P$  auf  $g$ .

$$d = \frac{|\vec{v} \times \overrightarrow{AP}|}{|\vec{v}|}$$

## Beispiel 6.5.1

Bestimme den Abstand  $d$  des Punktes  $P(8, 9, 8)$  von der Geraden

$$g: \begin{pmatrix} x \\ y \\ z \end{pmatrix} = \begin{pmatrix} 1 \\ 5 \\ 3 \end{pmatrix} + t \cdot \begin{pmatrix} 2 \\ 2 \\ 1 \end{pmatrix}$$

sowie den Fusspunkt  $F$  des Lots von  $P$  auf  $g$ .

$$d = \frac{|\vec{v} \times \overrightarrow{AP}|}{|\vec{v}|} = \frac{\left| \begin{pmatrix} 2 \\ 2 \\ 1 \end{pmatrix} \times \begin{pmatrix} 7 \\ 4 \\ 5 \end{pmatrix} \right|}{\left| \begin{pmatrix} 2 \\ 2 \\ 1 \end{pmatrix} \right|}$$

## Beispiel 6.5.1

Bestimme den Abstand  $d$  des Punktes  $P(8, 9, 8)$  von der Geraden

$$g: \begin{pmatrix} x \\ y \\ z \end{pmatrix} = \begin{pmatrix} 1 \\ 5 \\ 3 \end{pmatrix} + t \cdot \begin{pmatrix} 2 \\ 2 \\ 1 \end{pmatrix}$$

sowie den Fusspunkt  $F$  des Lots von  $P$  auf  $g$ .

$$d = \frac{|\vec{v} \times \overrightarrow{AP}|}{|\vec{v}|} = \frac{\left| \begin{pmatrix} 2 \\ 2 \\ 1 \end{pmatrix} \times \begin{pmatrix} 7 \\ 4 \\ 5 \end{pmatrix} \right|}{\left| \begin{pmatrix} 2 \\ 2 \\ 1 \end{pmatrix} \right|} = \frac{\left| \begin{pmatrix} 6 \\ -3 \\ -6 \end{pmatrix} \right|}{\left| \begin{pmatrix} 2 \\ 2 \\ 1 \end{pmatrix} \right|}$$

## Beispiel 6.5.1

Bestimme den Abstand  $d$  des Punktes  $P(8, 9, 8)$  von der Geraden

$$g: \begin{pmatrix} x \\ y \\ z \end{pmatrix} = \begin{pmatrix} 1 \\ 5 \\ 3 \end{pmatrix} + t \cdot \begin{pmatrix} 2 \\ 2 \\ 1 \end{pmatrix}$$

sowie den Fusspunkt  $F$  des Lots von  $P$  auf  $g$ .

$$d = \frac{|\vec{v} \times \overrightarrow{AP}|}{|\vec{v}|} = \frac{\left| \begin{pmatrix} 2 \\ 2 \\ 1 \end{pmatrix} \times \begin{pmatrix} 7 \\ 4 \\ 5 \end{pmatrix} \right|}{\left| \begin{pmatrix} 2 \\ 2 \\ 1 \end{pmatrix} \right|} = \frac{\left| \begin{pmatrix} 6 \\ -3 \\ -6 \end{pmatrix} \right|}{\left| \begin{pmatrix} 2 \\ 2 \\ 1 \end{pmatrix} \right|} = \frac{9}{3}$$

## Beispiel 6.5.1

Bestimme den Abstand  $d$  des Punktes  $P(8, 9, 8)$  von der Geraden

$$g: \begin{pmatrix} x \\ y \\ z \end{pmatrix} = \begin{pmatrix} 1 \\ 5 \\ 3 \end{pmatrix} + t \cdot \begin{pmatrix} 2 \\ 2 \\ 1 \end{pmatrix}$$

sowie den Fusspunkt  $F$  des Lots von  $P$  auf  $g$ .

$$d = \frac{|\vec{v} \times \overrightarrow{AP}|}{|\vec{v}|} = \frac{\left| \begin{pmatrix} 2 \\ 2 \\ 1 \end{pmatrix} \times \begin{pmatrix} 7 \\ 4 \\ 5 \end{pmatrix} \right|}{\left| \begin{pmatrix} 2 \\ 2 \\ 1 \end{pmatrix} \right|} = \frac{\left| \begin{pmatrix} 6 \\ -3 \\ -6 \end{pmatrix} \right|}{\left| \begin{pmatrix} 2 \\ 2 \\ 1 \end{pmatrix} \right|} = \frac{9}{3} = 3$$

$$\text{Fusspunkt } F: \vec{r}_F = \vec{r}_A + k \cdot \vec{v}$$

Fusspunkt  $F$ :  $\vec{r}_F = \vec{r}_A + k \cdot \vec{v}$

$$\overrightarrow{FP} \cdot \vec{v} = 0$$

$$\text{Fusspunkt } F: \vec{r}_F = \vec{r}_A + k \cdot \vec{v}$$

$$\overrightarrow{FP} \cdot \vec{v} = 0$$

$$(-k \cdot \vec{v} + \overrightarrow{AP}) \cdot \vec{v} = 0$$

$$\text{Fusspunkt } F: \vec{r}_F = \vec{r}_A + k \cdot \vec{v}$$

$$\overrightarrow{FP} \cdot \vec{v} = 0$$

$$(-k \cdot \vec{v} + \overrightarrow{AP}) \cdot \vec{v} = 0$$

$$-k \cdot \vec{v} \cdot \vec{v} + \overrightarrow{AP} \cdot \vec{v} = 0$$

$$\text{Fusspunkt } F: \vec{r}_F = \vec{r}_A + k \cdot \vec{v}$$

$$\overrightarrow{FP} \cdot \vec{v} = 0$$

$$(-k \cdot \vec{v} + \overrightarrow{AP}) \cdot \vec{v} = 0$$

$$-k \cdot \vec{v} \cdot \vec{v} + \overrightarrow{AP} \cdot \vec{v} = 0$$

$$k = \frac{\overrightarrow{AP} \cdot \vec{v}}{\vec{v} \cdot \vec{v}}$$

$$\text{Fusspunkt } F: \vec{r}_F = \vec{r}_A + k \cdot \vec{v}$$

$$\overrightarrow{FP} \cdot \vec{v} = 0$$

$$(-k \cdot \vec{v} + \overrightarrow{AP}) \cdot \vec{v} = 0$$

$$-k \cdot \vec{v} \cdot \vec{v} + \overrightarrow{AP} \cdot \vec{v} = 0$$

$$k = \frac{\overrightarrow{AP} \cdot \vec{v}}{\vec{v} \cdot \vec{v}} = \frac{27}{9}$$

$$\text{Fusspunkt } F: \vec{r}_F = \vec{r}_A + k \cdot \vec{v}$$

$$\overrightarrow{FP} \cdot \vec{v} = 0$$

$$(-k \cdot \vec{v} + \overrightarrow{AP}) \cdot \vec{v} = 0$$

$$-k \cdot \vec{v} \cdot \vec{v} + \overrightarrow{AP} \cdot \vec{v} = 0$$

$$k = \frac{\overrightarrow{AP} \cdot \vec{v}}{\vec{v} \cdot \vec{v}} = \frac{27}{9} = 3$$

$$\text{Fusspunkt } F: \vec{r}_F = \vec{r}_A + k \cdot \vec{v}$$

$$\overrightarrow{FP} \cdot \vec{v} = 0$$

$$(-k \cdot \vec{v} + \overrightarrow{AP}) \cdot \vec{v} = 0$$

$$-k \cdot \vec{v} \cdot \vec{v} + \overrightarrow{AP} \cdot \vec{v} = 0$$

$$k = \frac{\overrightarrow{AP} \cdot \vec{v}}{\vec{v} \cdot \vec{v}} = \frac{27}{9} = 3$$

$$\vec{r}_F$$

$$\text{Fusspunkt } F: \vec{r}_F = \vec{r}_A + k \cdot \vec{v}$$

$$\overrightarrow{FP} \cdot \vec{v} = 0$$

$$(-k \cdot \vec{v} + \overrightarrow{AP}) \cdot \vec{v} = 0$$

$$-k \cdot \vec{v} \cdot \vec{v} + \overrightarrow{AP} \cdot \vec{v} = 0$$

$$k = \frac{\overrightarrow{AP} \cdot \vec{v}}{\vec{v} \cdot \vec{v}} = \frac{27}{9} = 3$$

$$\vec{r}_F = \begin{pmatrix} 1 \\ 5 \\ 3 \end{pmatrix} + 3 \cdot \begin{pmatrix} 2 \\ 2 \\ 1 \end{pmatrix}$$

$$\text{Fusspunkt } F: \vec{r}_F = \vec{r}_A + k \cdot \vec{v}$$

$$\overrightarrow{FP} \cdot \vec{v} = 0$$

$$(-k \cdot \vec{v} + \overrightarrow{AP}) \cdot \vec{v} = 0$$

$$-k \cdot \vec{v} \cdot \vec{v} + \overrightarrow{AP} \cdot \vec{v} = 0$$

$$k = \frac{\overrightarrow{AP} \cdot \vec{v}}{\vec{v} \cdot \vec{v}} = \frac{27}{9} = 3$$

$$\vec{r}_F = \begin{pmatrix} 1 \\ 5 \\ 3 \end{pmatrix} + 3 \cdot \begin{pmatrix} 2 \\ 2 \\ 1 \end{pmatrix} = \begin{pmatrix} 7 \\ 11 \\ 6 \end{pmatrix}$$

$$\text{Fusspunkt } F: \vec{r}_F = \vec{r}_A + k \cdot \vec{v}$$

$$\overrightarrow{FP} \cdot \vec{v} = 0$$

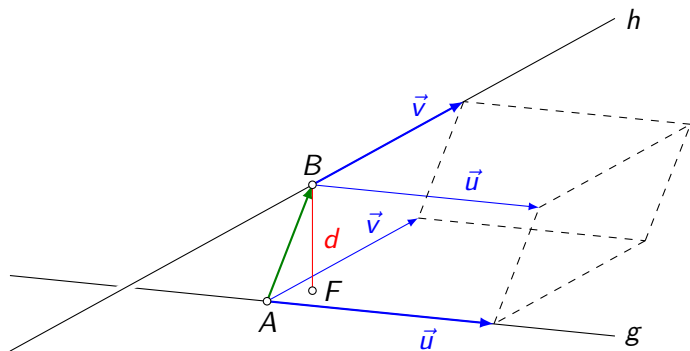
$$(-k \cdot \vec{v} + \overrightarrow{AP}) \cdot \vec{v} = 0$$

$$-k \cdot \vec{v} \cdot \vec{v} + \overrightarrow{AP} \cdot \vec{v} = 0$$

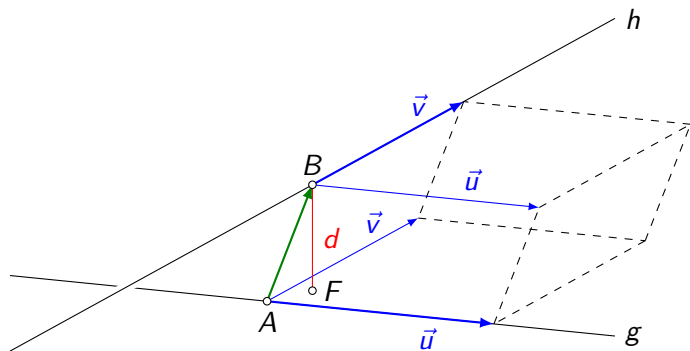
$$k = \frac{\overrightarrow{AP} \cdot \vec{v}}{\vec{v} \cdot \vec{v}} = \frac{27}{9} = 3$$

$$\vec{r}_F = \begin{pmatrix} 1 \\ 5 \\ 3 \end{pmatrix} + 3 \cdot \begin{pmatrix} 2 \\ 2 \\ 1 \end{pmatrix} = \begin{pmatrix} 7 \\ 11 \\ 6 \end{pmatrix} \Rightarrow F(7, 11, 6)$$

# Abstand windschiefer Geraden

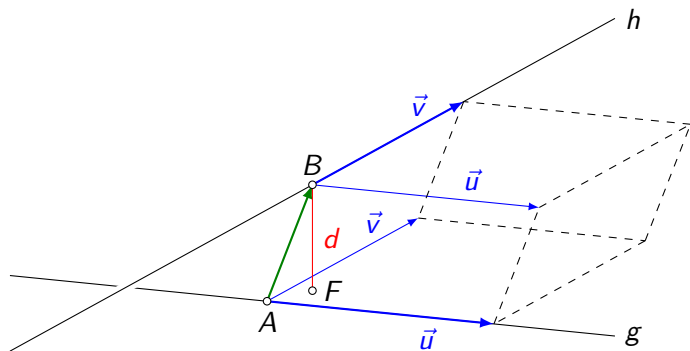


## Abstand windschiefer Geraden



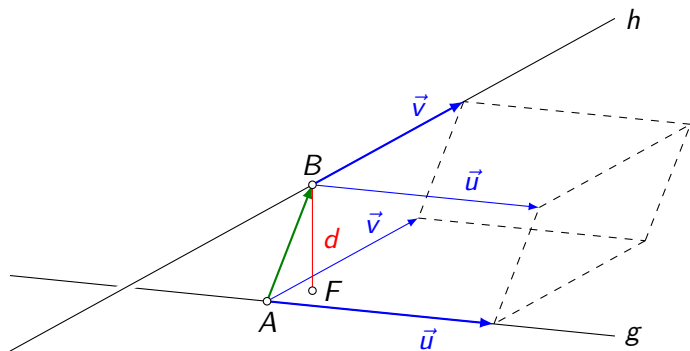
$$|\vec{u} \times \vec{v}| \cdot d =$$

## Abstand windschiefer Geraden



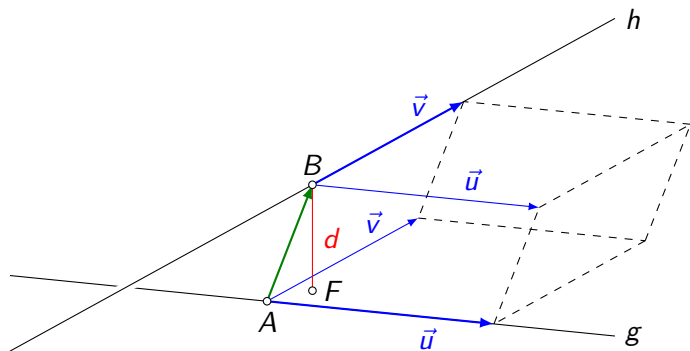
$$|\vec{u} \times \vec{v}| \cdot d = |(\vec{u} \times \vec{v}) \cdot \vec{AB}|$$

## Abstand windschiefer Geraden



$$|\vec{u} \times \vec{v}| \cdot d = |(\vec{u} \times \vec{v}) \cdot \vec{AB}| \Rightarrow d =$$

## Abstand windschiefer Geraden



$$|\vec{u} \times \vec{v}| \cdot d = |(\vec{u} \times \vec{v}) \cdot \vec{AB}| \quad \Rightarrow \quad d = \frac{|(\vec{u} \times \vec{v}) \cdot \vec{AB}|}{|\vec{u} \times \vec{v}|}$$

$\vec{u}$ ,  $\vec{v}$  und  $\overrightarrow{AB}$  spannen einen Spat auf.

Die Geraden  $g$  und  $h$  liegen in parallelen Ebenen, welche gleichzeitig auch die Grund- und die Deckfläche des Spates enthalten.

Der Abstand  $d$  der Geraden ist gleich dem Abstand dieser Ebenen und somit gleich der Höhe des Spates.

## Beispiel 6.5.1

Bestimme den Abstand der Geraden

$$g: \begin{pmatrix} x \\ y \\ z \end{pmatrix} = \begin{pmatrix} 2 \\ 1 \\ 3 \end{pmatrix} + s \begin{pmatrix} 3 \\ 0 \\ 2 \end{pmatrix} \quad \text{und} \quad h: \begin{pmatrix} x \\ y \\ z \end{pmatrix} = \begin{pmatrix} -4 \\ 8 \\ -21 \end{pmatrix} + t \begin{pmatrix} -3 \\ 10 \\ 2 \end{pmatrix}$$

## Beispiel 6.5.1

Bestimme den Abstand der Geraden

$$g: \begin{pmatrix} x \\ y \\ z \end{pmatrix} = \begin{pmatrix} 2 \\ 1 \\ 3 \end{pmatrix} + s \begin{pmatrix} 3 \\ 0 \\ 2 \end{pmatrix} \quad \text{und} \quad h: \begin{pmatrix} x \\ y \\ z \end{pmatrix} = \begin{pmatrix} -4 \\ 8 \\ -21 \end{pmatrix} + t \begin{pmatrix} -3 \\ 10 \\ 2 \end{pmatrix}$$

$$\vec{u} \times \vec{v}$$

## Beispiel 6.5.1

Bestimme den Abstand der Geraden

$$g: \begin{pmatrix} x \\ y \\ z \end{pmatrix} = \begin{pmatrix} 2 \\ 1 \\ 3 \end{pmatrix} + s \begin{pmatrix} 3 \\ 0 \\ 2 \end{pmatrix} \quad \text{und} \quad h: \begin{pmatrix} x \\ y \\ z \end{pmatrix} = \begin{pmatrix} -4 \\ 8 \\ -21 \end{pmatrix} + t \begin{pmatrix} -3 \\ 10 \\ 2 \end{pmatrix}$$

$$\vec{u} \times \vec{v} = \begin{pmatrix} 3 \\ 0 \\ 2 \end{pmatrix} \times \begin{pmatrix} -3 \\ 10 \\ 2 \end{pmatrix}$$

## Beispiel 6.5.1

Bestimme den Abstand der Geraden

$$g: \begin{pmatrix} x \\ y \\ z \end{pmatrix} = \begin{pmatrix} 2 \\ 1 \\ 3 \end{pmatrix} + s \begin{pmatrix} 3 \\ 0 \\ 2 \end{pmatrix} \quad \text{und} \quad h: \begin{pmatrix} x \\ y \\ z \end{pmatrix} = \begin{pmatrix} -4 \\ 8 \\ -21 \end{pmatrix} + t \begin{pmatrix} -3 \\ 10 \\ 2 \end{pmatrix}$$

$$\vec{u} \times \vec{v} = \begin{pmatrix} 3 \\ 0 \\ 2 \end{pmatrix} \times \begin{pmatrix} -3 \\ 10 \\ 2 \end{pmatrix} = \begin{pmatrix} -20 \\ -12 \\ 30 \end{pmatrix}$$

## Beispiel 6.5.1

Bestimme den Abstand der Geraden

$$g: \begin{pmatrix} x \\ y \\ z \end{pmatrix} = \begin{pmatrix} 2 \\ 1 \\ 3 \end{pmatrix} + s \begin{pmatrix} 3 \\ 0 \\ 2 \end{pmatrix} \quad \text{und} \quad h: \begin{pmatrix} x \\ y \\ z \end{pmatrix} = \begin{pmatrix} -4 \\ 8 \\ -21 \end{pmatrix} + t \begin{pmatrix} -3 \\ 10 \\ 2 \end{pmatrix}$$

$$\vec{u} \times \vec{v} = \begin{pmatrix} 3 \\ 0 \\ 2 \end{pmatrix} \times \begin{pmatrix} -3 \\ 10 \\ 2 \end{pmatrix} = \begin{pmatrix} -20 \\ -12 \\ 30 \end{pmatrix}$$

$\overrightarrow{AB}$

## Beispiel 6.5.1

Bestimme den Abstand der Geraden

$$g: \begin{pmatrix} x \\ y \\ z \end{pmatrix} = \begin{pmatrix} 2 \\ 1 \\ 3 \end{pmatrix} + s \begin{pmatrix} 3 \\ 0 \\ 2 \end{pmatrix} \quad \text{und} \quad h: \begin{pmatrix} x \\ y \\ z \end{pmatrix} = \begin{pmatrix} -4 \\ 8 \\ -21 \end{pmatrix} + t \begin{pmatrix} -3 \\ 10 \\ 2 \end{pmatrix}$$

$$\vec{u} \times \vec{v} = \begin{pmatrix} 3 \\ 0 \\ 2 \end{pmatrix} \times \begin{pmatrix} -3 \\ 10 \\ 2 \end{pmatrix} = \begin{pmatrix} -20 \\ -12 \\ 30 \end{pmatrix}$$

$$\overrightarrow{AB} = \vec{r}_B - \vec{r}_A$$

## Beispiel 6.5.1

Bestimme den Abstand der Geraden

$$g: \begin{pmatrix} x \\ y \\ z \end{pmatrix} = \begin{pmatrix} 2 \\ 1 \\ 3 \end{pmatrix} + s \begin{pmatrix} 3 \\ 0 \\ 2 \end{pmatrix} \quad \text{und} \quad h: \begin{pmatrix} x \\ y \\ z \end{pmatrix} = \begin{pmatrix} -4 \\ 8 \\ -21 \end{pmatrix} + t \begin{pmatrix} -3 \\ 10 \\ 2 \end{pmatrix}$$

$$\vec{u} \times \vec{v} = \begin{pmatrix} 3 \\ 0 \\ 2 \end{pmatrix} \times \begin{pmatrix} -3 \\ 10 \\ 2 \end{pmatrix} = \begin{pmatrix} -20 \\ -12 \\ 30 \end{pmatrix}$$

$$\vec{AB} = \vec{r}_B - \vec{r}_A = \begin{pmatrix} -4 \\ 8 \\ -21 \end{pmatrix} - \begin{pmatrix} 2 \\ 1 \\ 3 \end{pmatrix}$$

## Beispiel 6.5.1

Bestimme den Abstand der Geraden

$$g: \begin{pmatrix} x \\ y \\ z \end{pmatrix} = \begin{pmatrix} 2 \\ 1 \\ 3 \end{pmatrix} + s \begin{pmatrix} 3 \\ 0 \\ 2 \end{pmatrix} \quad \text{und} \quad h: \begin{pmatrix} x \\ y \\ z \end{pmatrix} = \begin{pmatrix} -4 \\ 8 \\ -21 \end{pmatrix} + t \begin{pmatrix} -3 \\ 10 \\ 2 \end{pmatrix}$$

$$\vec{u} \times \vec{v} = \begin{pmatrix} 3 \\ 0 \\ 2 \end{pmatrix} \times \begin{pmatrix} -3 \\ 10 \\ 2 \end{pmatrix} = \begin{pmatrix} -20 \\ -12 \\ 30 \end{pmatrix}$$

$$\vec{AB} = \vec{r}_B - \vec{r}_A = \begin{pmatrix} -4 \\ 8 \\ -21 \end{pmatrix} - \begin{pmatrix} 2 \\ 1 \\ 3 \end{pmatrix} = \begin{pmatrix} -6 \\ 7 \\ -24 \end{pmatrix}$$

$$d(g, h) = \frac{|(\vec{u} \times \vec{v}) \cdot \overrightarrow{AB}|}{|\vec{u} \times \vec{v}|}$$

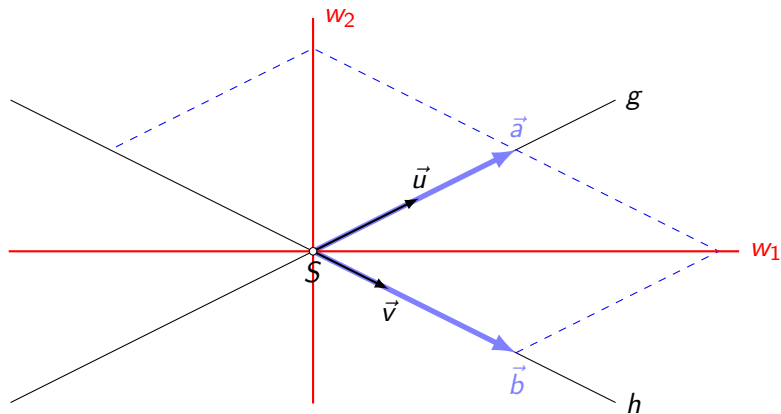
$$d(g, h) = \frac{|(\vec{u} \times \vec{v}) \cdot \overrightarrow{AB}|}{|\vec{u} \times \vec{v}|} = \frac{\left| \begin{pmatrix} -20 \\ -12 \\ 30 \end{pmatrix} \cdot \begin{pmatrix} -6 \\ 7 \\ -24 \end{pmatrix} \right|}{\left| \begin{pmatrix} -20 \\ -12 \\ 30 \end{pmatrix} \right|}$$

$$d(g, h) = \frac{|(\vec{u} \times \vec{v}) \cdot \overrightarrow{AB}|}{|\vec{u} \times \vec{v}|} = \frac{\left| \begin{pmatrix} -20 \\ -12 \\ 30 \end{pmatrix} \cdot \begin{pmatrix} -6 \\ 7 \\ -24 \end{pmatrix} \right|}{\left| \begin{pmatrix} -20 \\ -12 \\ 30 \end{pmatrix} \right|} = \frac{684}{38}$$

$$d(g, h) = \frac{|(\vec{u} \times \vec{v}) \cdot \overrightarrow{AB}|}{|\vec{u} \times \vec{v}|} = \frac{\left| \begin{pmatrix} -20 \\ -12 \\ 30 \end{pmatrix} \cdot \begin{pmatrix} -6 \\ 7 \\ -24 \end{pmatrix} \right|}{\left| \begin{pmatrix} -20 \\ -12 \\ 30 \end{pmatrix} \right|} = \frac{684}{38} = 18$$

Gegeben: zwei sich schneidende Geraden  $g$  und  $h$

Gesucht: Gleichungen der Winkelhalbierenden



Idee: Sind Richtungsvektoren  $\vec{a}$  und  $\vec{b}$  von  $g$  und  $h$  gleich lang, so spannen sie zwei (kongruente) Rhomben auf.

Die Diagonalen dieser Rhomben sind die gesuchten Winkelhalbierenden:

$$w_1: \vec{r} = \vec{r}_S + t_1(\vec{a} + \vec{b})$$

$$w_2: \vec{r} = \vec{r}_S + t_2(\vec{a} - \vec{b})$$

## Beispiel 6.6.1

Gesucht: Gleichungen der Winkelhalbierenden der Geraden

$$g: \begin{pmatrix} x \\ y \\ z \end{pmatrix} = \begin{pmatrix} 1 \\ 2 \\ 3 \end{pmatrix} + t \begin{pmatrix} 1 \\ 2 \\ -2 \end{pmatrix} \quad \text{und} \quad h: \begin{pmatrix} x \\ y \\ z \end{pmatrix} = \begin{pmatrix} 1 \\ 2 \\ 3 \end{pmatrix} + t \begin{pmatrix} 0 \\ 3 \\ 4 \end{pmatrix}$$

## Beispiel 6.6.1

Gesucht: Gleichungen der Winkelhalbierenden der Geraden

$$g: \begin{pmatrix} x \\ y \\ z \end{pmatrix} = \begin{pmatrix} 1 \\ 2 \\ 3 \end{pmatrix} + t \begin{pmatrix} 1 \\ 2 \\ -2 \end{pmatrix} \quad \text{und} \quad h: \begin{pmatrix} x \\ y \\ z \end{pmatrix} = \begin{pmatrix} 1 \\ 2 \\ 3 \end{pmatrix} + t \begin{pmatrix} 0 \\ 3 \\ 4 \end{pmatrix}$$

**Schnittpunkt:**

## Beispiel 6.6.1

Gesucht: Gleichungen der Winkelhalbierenden der Geraden

$$g: \begin{pmatrix} x \\ y \\ z \end{pmatrix} = \begin{pmatrix} 1 \\ 2 \\ 3 \end{pmatrix} + t \begin{pmatrix} 1 \\ 2 \\ -2 \end{pmatrix} \quad \text{und} \quad h: \begin{pmatrix} x \\ y \\ z \end{pmatrix} = \begin{pmatrix} 1 \\ 2 \\ 3 \end{pmatrix} + t \begin{pmatrix} 0 \\ 3 \\ 4 \end{pmatrix}$$

Schnittpunkt:  $S(1, 2, 3)$  [offensichtlich]

## Beispiel 6.6.1

Gesucht: Gleichungen der Winkelhalbierenden der Geraden

$$g: \begin{pmatrix} x \\ y \\ z \end{pmatrix} = \begin{pmatrix} 1 \\ 2 \\ 3 \end{pmatrix} + t \begin{pmatrix} 1 \\ 2 \\ -2 \end{pmatrix} \quad \text{und} \quad h: \begin{pmatrix} x \\ y \\ z \end{pmatrix} = \begin{pmatrix} 1 \\ 2 \\ 3 \end{pmatrix} + t \begin{pmatrix} 0 \\ 3 \\ 4 \end{pmatrix}$$

Schnittpunkt:  $S(1, 2, 3)$  [offensichtlich]

$$|\vec{u}| =$$

## Beispiel 6.6.1

Gesucht: Gleichungen der Winkelhalbierenden der Geraden

$$g: \begin{pmatrix} x \\ y \\ z \end{pmatrix} = \begin{pmatrix} 1 \\ 2 \\ 3 \end{pmatrix} + t \begin{pmatrix} 1 \\ 2 \\ -2 \end{pmatrix} \quad \text{und} \quad h: \begin{pmatrix} x \\ y \\ z \end{pmatrix} = \begin{pmatrix} 1 \\ 2 \\ 3 \end{pmatrix} + t \begin{pmatrix} 0 \\ 3 \\ 4 \end{pmatrix}$$

Schnittpunkt:  $S(1, 2, 3)$  [offensichtlich]

$$|\vec{u}| = 3$$

## Beispiel 6.6.1

Gesucht: Gleichungen der Winkelhalbierenden der Geraden

$$g: \begin{pmatrix} x \\ y \\ z \end{pmatrix} = \begin{pmatrix} 1 \\ 2 \\ 3 \end{pmatrix} + t \begin{pmatrix} 1 \\ 2 \\ -2 \end{pmatrix} \quad \text{und} \quad h: \begin{pmatrix} x \\ y \\ z \end{pmatrix} = \begin{pmatrix} 1 \\ 2 \\ 3 \end{pmatrix} + t \begin{pmatrix} 0 \\ 3 \\ 4 \end{pmatrix}$$

Schnittpunkt:  $S(1, 2, 3)$  [offensichtlich]

$$|\vec{u}| = 3$$

$$|\vec{v}| =$$

## Beispiel 6.6.1

Gesucht: Gleichungen der Winkelhalbierenden der Geraden

$$g: \begin{pmatrix} x \\ y \\ z \end{pmatrix} = \begin{pmatrix} 1 \\ 2 \\ 3 \end{pmatrix} + t \begin{pmatrix} 1 \\ 2 \\ -2 \end{pmatrix} \quad \text{und} \quad h: \begin{pmatrix} x \\ y \\ z \end{pmatrix} = \begin{pmatrix} 1 \\ 2 \\ 3 \end{pmatrix} + t \begin{pmatrix} 0 \\ 3 \\ 4 \end{pmatrix}$$

Schnittpunkt:  $S(1, 2, 3)$  [offensichtlich]

$$|\vec{u}| = 3$$

$$|\vec{v}| = 5$$

$\vec{a}$

$$\vec{a} = 5\vec{u}$$

$$\vec{a} = 5\vec{u} = \begin{pmatrix} 5 \\ 10 \\ -10 \end{pmatrix}$$

$$\vec{a} = 5\vec{u} = \begin{pmatrix} 5 \\ 10 \\ -10 \end{pmatrix}$$

$$\vec{b}$$

$$\vec{a} = 5\vec{u} = \begin{pmatrix} 5 \\ 10 \\ -10 \end{pmatrix}$$

$$\vec{b} = 3\vec{v}$$

$$\vec{a} = 5\vec{u} = \begin{pmatrix} 5 \\ 10 \\ -10 \end{pmatrix}$$

$$\vec{b} = 3\vec{v} = \begin{pmatrix} 0 \\ 9 \\ 12 \end{pmatrix}$$

$$\vec{a} = 5\vec{u} = \begin{pmatrix} 5 \\ 10 \\ -10 \end{pmatrix}$$

$$\vec{b} = 3\vec{v} = \begin{pmatrix} 0 \\ 9 \\ 12 \end{pmatrix}$$

$$w_1: \begin{pmatrix} x \\ y \\ z \end{pmatrix} = \begin{pmatrix} 1 \\ 2 \\ 3 \end{pmatrix} + t \begin{pmatrix} 5 \\ 19 \\ 2 \end{pmatrix}$$

$$\vec{a} = 5\vec{u} = \begin{pmatrix} 5 \\ 10 \\ -10 \end{pmatrix}$$

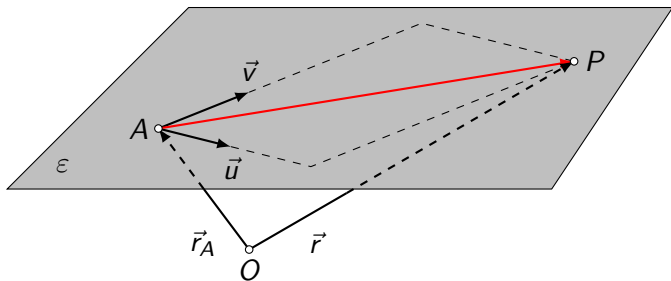
$$\vec{b} = 3\vec{v} = \begin{pmatrix} 0 \\ 9 \\ 12 \end{pmatrix}$$

$$w_1: \begin{pmatrix} x \\ y \\ z \end{pmatrix} = \begin{pmatrix} 1 \\ 2 \\ 3 \end{pmatrix} + t \begin{pmatrix} 5 \\ 19 \\ 2 \end{pmatrix}$$

$$w_2: \begin{pmatrix} x \\ y \\ z \end{pmatrix} = \begin{pmatrix} 1 \\ 2 \\ 3 \end{pmatrix} + t \begin{pmatrix} 5 \\ 1 \\ -22 \end{pmatrix}$$

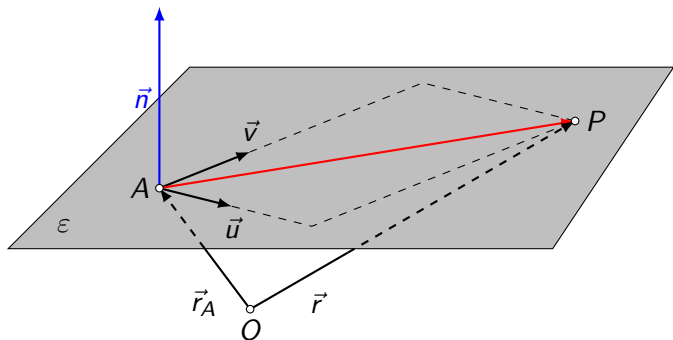
## Die Parameterform

Gegeben: Ein Punkt  $A$  sowie zwei Richtungsvektoren  $\vec{u}$  und  $\vec{v}$   
 $\vec{r}$  ist der zum Punkt  $P(x, y, z)$  gehörende Ortsvektor.



$$\varepsilon: \vec{r} = \vec{r}_A + s\vec{u} + t\vec{v} \quad \text{Parameterform}$$

## Die Normalenform



$\vec{n} \neq \vec{0}$  ist ein Normalenvektor von  $\varepsilon$  (z. B.  $\vec{n} = \vec{u} \times \vec{v}$ )

$$P \in \varepsilon \Leftrightarrow \vec{n} \perp \overrightarrow{AP} \Leftrightarrow \vec{n} \cdot \overrightarrow{AP} = 0 \Leftrightarrow \vec{n} \cdot (\vec{r} - \vec{r}_A) = 0$$

## Die Koordinatenform

$$\vec{n} \cdot (\vec{r} - \vec{r}_A) = 0 \quad \text{Normalenform}$$

$$\vec{n} \cdot \vec{r} - \vec{n} \cdot \vec{r}_A = 0$$

$$\begin{pmatrix} n_1 \\ n_2 \\ n_3 \end{pmatrix} \cdot \begin{pmatrix} x \\ y \\ z \end{pmatrix} - \begin{pmatrix} n_1 \\ n_2 \\ n_3 \end{pmatrix} \cdot \begin{pmatrix} a_1 \\ a_2 \\ a_3 \end{pmatrix} = 0$$

$$n_1x + n_2y + n_3z - \underbrace{n_1a_1 - n_2a_2 - n_3a_3}_D = 0$$

$$n_1x + n_2y + n_3z + D = 0 \quad \text{Koordinatenform}$$

## Beispiel 7.1.1

Gegeben: Punkte  $A(2, -3, 0)$ ,  $B(5, 3, 1)$ ,  $C(4, 5, 2)$

Gesucht: Parameterform der Ebene durch  $A$ ,  $B$  und  $C$

## Beispiel 7.1.1

Gegeben: Punkte  $A(2, -3, 0)$ ,  $B(5, 3, 1)$ ,  $C(4, 5, 2)$

Gesucht: Parameterform der Ebene durch  $A$ ,  $B$  und  $C$

$$\text{Parameterform: } \overrightarrow{AB} = \begin{pmatrix} 3 \\ 6 \\ 1 \end{pmatrix} = \vec{u}, \quad \overrightarrow{AC} = \begin{pmatrix} 2 \\ 8 \\ 2 \end{pmatrix} = 2 \begin{pmatrix} 1 \\ 4 \\ 1 \end{pmatrix} = 2\vec{v}$$

## Beispiel 7.1.1

Gegeben: Punkte  $A(2, -3, 0)$ ,  $B(5, 3, 1)$ ,  $C(4, 5, 2)$

Gesucht: Parameterform der Ebene durch  $A$ ,  $B$  und  $C$

$$\text{Parameterform: } \overrightarrow{AB} = \begin{pmatrix} 3 \\ 6 \\ 1 \end{pmatrix} = \vec{u}, \quad \overrightarrow{AC} = \begin{pmatrix} 2 \\ 8 \\ 2 \end{pmatrix} = 2 \begin{pmatrix} 1 \\ 4 \\ 1 \end{pmatrix} = 2\vec{v}$$

$$\varepsilon: \begin{pmatrix} x \\ y \\ z \end{pmatrix} = \begin{pmatrix} 2 \\ -3 \\ 0 \end{pmatrix} + s \begin{pmatrix} 3 \\ 6 \\ 1 \end{pmatrix} + t \begin{pmatrix} 1 \\ 4 \\ 1 \end{pmatrix}$$

## Beispiel 7.1.2

Gegeben: Punkte  $A(2, -3, 0)$ ,  $B(5, 3, 1)$ ,  $C(4, 5, 2)$

Gesucht: Normalenform der Ebene durch  $A$ ,  $B$  und  $C$

## Beispiel 7.1.2

Gegeben: Punkte  $A(2, -3, 0)$ ,  $B(5, 3, 1)$ ,  $C(4, 5, 2)$

Gesucht: Normalenform der Ebene durch  $A$ ,  $B$  und  $C$

$$\text{Normalenvektor: } \vec{u} \times \vec{v} = \begin{pmatrix} 3 \\ 6 \\ 1 \end{pmatrix} \times \begin{pmatrix} 1 \\ 4 \\ 1 \end{pmatrix}$$

## Beispiel 7.1.2

Gegeben: Punkte  $A(2, -3, 0)$ ,  $B(5, 3, 1)$ ,  $C(4, 5, 2)$

Gesucht: Normalenform der Ebene durch  $A$ ,  $B$  und  $C$

$$\text{Normalenvektor: } \vec{u} \times \vec{v} = \begin{pmatrix} 3 \\ 6 \\ 1 \end{pmatrix} \times \begin{pmatrix} 1 \\ 4 \\ 1 \end{pmatrix} = \begin{pmatrix} 2 \\ -2 \\ 6 \end{pmatrix}$$

## Beispiel 7.1.2

Gegeben: Punkte  $A(2, -3, 0)$ ,  $B(5, 3, 1)$ ,  $C(4, 5, 2)$

Gesucht: Normalenform der Ebene durch  $A$ ,  $B$  und  $C$

$$\text{Normalenvektor: } \vec{u} \times \vec{v} = \begin{pmatrix} 3 \\ 6 \\ 1 \end{pmatrix} \times \begin{pmatrix} 1 \\ 4 \\ 1 \end{pmatrix} = \begin{pmatrix} 2 \\ -2 \\ 6 \end{pmatrix} \Rightarrow \vec{n} = \begin{pmatrix} 1 \\ -1 \\ 3 \end{pmatrix}$$

## Beispiel 7.1.2

Gegeben: Punkte  $A(2, -3, 0)$ ,  $B(5, 3, 1)$ ,  $C(4, 5, 2)$

Gesucht: Normalenform der Ebene durch  $A$ ,  $B$  und  $C$

$$\text{Normalenvektor: } \vec{u} \times \vec{v} = \begin{pmatrix} 3 \\ 6 \\ 1 \end{pmatrix} \times \begin{pmatrix} 1 \\ 4 \\ 1 \end{pmatrix} = \begin{pmatrix} 2 \\ -2 \\ 6 \end{pmatrix} \Rightarrow \vec{n} = \begin{pmatrix} 1 \\ -1 \\ 3 \end{pmatrix}$$

$$\varepsilon: \begin{pmatrix} 1 \\ -1 \\ 3 \end{pmatrix} \cdot \left[ \begin{pmatrix} x \\ y \\ z \end{pmatrix} - \begin{pmatrix} 2 \\ -3 \\ 0 \end{pmatrix} \right] = 0$$

## Beispiel 7.1.3

Gegeben: Punkte  $A(2, -3, 0)$ ,  $B(5, 3, 1)$ ,  $C(4, 5, 2)$

Gesucht: Koordinatenform der Ebene durch  $A$ ,  $B$  und  $C$

## Beispiel 7.1.3

Gegeben: Punkte  $A(2, -3, 0)$ ,  $B(5, 3, 1)$ ,  $C(4, 5, 2)$

Gesucht: Koordinatenform der Ebene durch  $A$ ,  $B$  und  $C$

$$D = -\vec{n} \cdot \vec{r}_A = - \begin{pmatrix} 1 \\ -1 \\ 3 \end{pmatrix} \cdot \begin{pmatrix} 2 \\ -3 \\ 0 \end{pmatrix} = -5$$

## Beispiel 7.1.3

Gegeben: Punkte  $A(2, -3, 0)$ ,  $B(5, 3, 1)$ ,  $C(4, 5, 2)$

Gesucht: Koordinatenform der Ebene durch  $A$ ,  $B$  und  $C$

$$D = -\vec{n} \cdot \vec{r}_A = - \begin{pmatrix} 1 \\ -1 \\ 3 \end{pmatrix} \cdot \begin{pmatrix} 2 \\ -3 \\ 0 \end{pmatrix} = -5$$

Merke: Die Komponenten eines Normalenvektors einer Ebene sind gleichzeitig Koeffizienten der Koordinatengleichung dieser Ebene.

## Beispiel 7.1.3

Gegeben: Punkte  $A(2, -3, 0)$ ,  $B(5, 3, 1)$ ,  $C(4, 5, 2)$

Gesucht: Koordinatenform der Ebene durch  $A$ ,  $B$  und  $C$

$$D = -\vec{n} \cdot \vec{r}_A = - \begin{pmatrix} 1 \\ -1 \\ 3 \end{pmatrix} \cdot \begin{pmatrix} 2 \\ -3 \\ 0 \end{pmatrix} = -5$$

Merke: Die Komponenten eines Normalenvektors einer Ebene sind gleichzeitig Koeffizienten der Koordinatengleichung dieser Ebene.

$$\varepsilon: x - y + 3z - 5 = 0$$

## Beispiel 7.1.4

Bestimme eine Koordinatengleichung der Ebene  $\varepsilon$ , die durch

$$g: \begin{pmatrix} x \\ y \\ z \end{pmatrix} = \begin{pmatrix} -6 \\ 8 \\ 1 \end{pmatrix} + t \begin{pmatrix} 1 \\ 2 \\ 3 \end{pmatrix} \text{ und } P(4, 4, 1) \text{ definiert ist.}$$

## Beispiel 7.1.4

Bestimme eine Koordinatengleichung der Ebene  $\varepsilon$ , die durch

$$g: \begin{pmatrix} x \\ y \\ z \end{pmatrix} = \begin{pmatrix} -6 \\ 8 \\ 1 \end{pmatrix} + t \begin{pmatrix} 1 \\ 2 \\ 3 \end{pmatrix} \text{ und } P(4, 4, 1) \text{ definiert ist.}$$

$$\vec{u} = \begin{pmatrix} 1 \\ 2 \\ 3 \end{pmatrix} \quad \overrightarrow{AP} = \begin{pmatrix} 10 \\ -4 \\ 0 \end{pmatrix} \Rightarrow \vec{v} = \begin{pmatrix} 5 \\ -2 \\ 0 \end{pmatrix}$$

$$\vec{u} \times \vec{v} = \begin{pmatrix} 1 \\ 2 \\ 3 \end{pmatrix} \times \begin{pmatrix} 5 \\ -2 \\ 0 \end{pmatrix} = \begin{pmatrix} -6 \\ -15 \\ 12 \end{pmatrix} \Rightarrow \vec{n} = \begin{pmatrix} 2 \\ 5 \\ -4 \end{pmatrix}$$

## Beispiel 7.1.4

Bestimme eine Koordinatengleichung der Ebene  $\varepsilon$ , die durch

$$g: \begin{pmatrix} x \\ y \\ z \end{pmatrix} = \begin{pmatrix} -6 \\ 8 \\ 1 \end{pmatrix} + t \begin{pmatrix} 1 \\ 2 \\ 3 \end{pmatrix} \text{ und } P(4, 4, 1) \text{ definiert ist.}$$

$$\vec{u} = \begin{pmatrix} 1 \\ 2 \\ 3 \end{pmatrix} \quad \overrightarrow{AP} = \begin{pmatrix} 10 \\ -4 \\ 0 \end{pmatrix} \Rightarrow \vec{v} = \begin{pmatrix} 5 \\ -2 \\ 0 \end{pmatrix}$$

$$\vec{u} \times \vec{v} = \begin{pmatrix} 1 \\ 2 \\ 3 \end{pmatrix} \times \begin{pmatrix} 5 \\ -2 \\ 0 \end{pmatrix} = \begin{pmatrix} -6 \\ -15 \\ 12 \end{pmatrix} \Rightarrow \vec{n} = \begin{pmatrix} 2 \\ 5 \\ -4 \end{pmatrix}$$

$$D = -\vec{n} \cdot \vec{r}_A = -24$$

## Beispiel 7.1.4

Bestimme eine Koordinatengleichung der Ebene  $\varepsilon$ , die durch

$$g: \begin{pmatrix} x \\ y \\ z \end{pmatrix} = \begin{pmatrix} -6 \\ 8 \\ 1 \end{pmatrix} + t \begin{pmatrix} 1 \\ 2 \\ 3 \end{pmatrix} \text{ und } P(4, 4, 1) \text{ definiert ist.}$$

$$\vec{u} = \begin{pmatrix} 1 \\ 2 \\ 3 \end{pmatrix} \quad \overrightarrow{AP} = \begin{pmatrix} 10 \\ -4 \\ 0 \end{pmatrix} \Rightarrow \vec{v} = \begin{pmatrix} 5 \\ -2 \\ 0 \end{pmatrix}$$

$$\vec{u} \times \vec{v} = \begin{pmatrix} 1 \\ 2 \\ 3 \end{pmatrix} \times \begin{pmatrix} 5 \\ -2 \\ 0 \end{pmatrix} = \begin{pmatrix} -6 \\ -15 \\ 12 \end{pmatrix} \Rightarrow \vec{n} = \begin{pmatrix} 2 \\ 5 \\ -4 \end{pmatrix}$$

$$D = -\vec{n} \cdot \vec{r}_A = -24$$

$$\varepsilon: 2x + 5y - 4z - 24 = 0$$

## Beispiel 7.1.5

Wann ist ein Ebene durch 2 Geraden definiert?

## Beispiel 7.1.5

Wann ist ein Ebene durch 2 Geraden definiert?

Wenn die beiden Geraden parallel sind oder sich schneiden.

## Beispiel 7.1.6

Wie lauten die Koordinatengleichungen der Koordinatenebenen  $\pi_1$ ,  $\pi_2$  und  $\pi_3$ ?

## Beispiel 7.1.6

Wie lauten die Koordinatengleichungen der Koordinatenebenen  $\pi_1$ ,  $\pi_2$  und  $\pi_3$ ?

$\vec{e}_3 = \begin{pmatrix} 0 \\ 0 \\ 1 \end{pmatrix}$  ist ein Normalenvektor von  $\pi_1$  ( $xy$ -Ebene).

## Beispiel 7.1.6

Wie lauten die Koordinatengleichungen der Koordinatenebenen  $\pi_1$ ,  $\pi_2$  und  $\pi_3$ ?

$\vec{e}_3 = \begin{pmatrix} 0 \\ 0 \\ 1 \end{pmatrix}$  ist ein Normalenvektor von  $\pi_1$  ( $xy$ -Ebene).

Somit lautet die Koordinatengleichung  $0 \cdot x + 0 \cdot y + 1 \cdot z + D = 0$

## Beispiel 7.1.6

Wie lauten die Koordinatengleichungen der Koordinatenebenen  $\pi_1$ ,  $\pi_2$  und  $\pi_3$ ?

$\vec{e}_3 = \begin{pmatrix} 0 \\ 0 \\ 1 \end{pmatrix}$  ist ein Normalenvektor von  $\pi_1$  ( $xy$ -Ebene).

Somit lautet die Koordinatengleichung  $0 \cdot x + 0 \cdot y + 1 \cdot z + D = 0$

Da  $(0, 0, 0)$  in  $\pi_1$  liegt, folgt daraus  $D = 0$  und  $\pi_1: z = 0$

## Beispiel 7.1.6

Wie lauten die Koordinatengleichungen der Koordinatenebenen  $\pi_1$ ,  $\pi_2$  und  $\pi_3$ ?

$\vec{e}_3 = \begin{pmatrix} 0 \\ 0 \\ 1 \end{pmatrix}$  ist ein Normalenvektor von  $\pi_1$  ( $xy$ -Ebene).

Somit lautet die Koordinatengleichung  $0 \cdot x + 0 \cdot y + 1 \cdot z + D = 0$

Da  $(0, 0, 0)$  in  $\pi_1$  liegt, folgt daraus  $D = 0$  und  $\pi_1: z = 0$

Analog folgen  $\pi_2: x = 0$  und  $\pi_3: y = 0$

## Beispiel 7.2.1

Liegt der Punkt  $P(10, 2, 4.5)$  in der Ebene

$$\varepsilon: \begin{pmatrix} x \\ y \\ z \end{pmatrix} = \begin{pmatrix} -10 \\ 9 \\ 12 \end{pmatrix} + s \begin{pmatrix} 2 \\ -4 \\ 3 \end{pmatrix} + t \begin{pmatrix} 5 \\ 1 \\ -5 \end{pmatrix} ?$$

## Beispiel 7.2.1

Liegt der Punkt  $P(10, 2, 4.5)$  in der Ebene

$$\varepsilon: \begin{pmatrix} x \\ y \\ z \end{pmatrix} = \begin{pmatrix} -10 \\ 9 \\ 12 \end{pmatrix} + s \begin{pmatrix} 2 \\ -4 \\ 3 \end{pmatrix} + t \begin{pmatrix} 5 \\ 1 \\ -5 \end{pmatrix} ?$$

$$10 = -10 + 2s + 5t$$

$$2 = 9 - 4s + t$$

$$4.5 = 12 + 3s - 5t$$

## Beispiel 7.2.1

Liegt der Punkt  $P(10, 2, 4.5)$  in der Ebene

$$\varepsilon: \begin{pmatrix} x \\ y \\ z \end{pmatrix} = \begin{pmatrix} -10 \\ 9 \\ 12 \end{pmatrix} + s \begin{pmatrix} 2 \\ -4 \\ 3 \end{pmatrix} + t \begin{pmatrix} 5 \\ 1 \\ -5 \end{pmatrix} ?$$

$$10 = -10 + 2s + 5t$$

$$2s + 5t = 20$$

$$2 = 9 - 4s + t$$

$$\Leftrightarrow -4s + t = -7$$

$$4.5 = 12 + 3s - 5t$$

$$3s - 5t = -7.5$$

## Beispiel 7.2.1

Liegt der Punkt  $P(10, 2, 4.5)$  in der Ebene

$$\varepsilon: \begin{pmatrix} x \\ y \\ z \end{pmatrix} = \begin{pmatrix} -10 \\ 9 \\ 12 \end{pmatrix} + s \begin{pmatrix} 2 \\ -4 \\ 3 \end{pmatrix} + t \begin{pmatrix} 5 \\ 1 \\ -5 \end{pmatrix} ?$$

$$10 = -10 + 2s + 5t \qquad 2s + 5t = 20$$

$$2 = 9 - 4s + t \qquad \Leftrightarrow \quad -4s + t = -7$$

$$4.5 = 12 + 3s - 5t \qquad 3s - 5t = -7.5$$

$$\text{Lösung: } s = 2.5, t = 3 \quad \Rightarrow \quad P \in \varepsilon$$

## Beispiel 7.2.1

Liegt der Punkt  $P(10, 2, 4.5)$  in der Ebene

$$\varepsilon: \begin{pmatrix} x \\ y \\ z \end{pmatrix} = \begin{pmatrix} -10 \\ 9 \\ 12 \end{pmatrix} + s \begin{pmatrix} 2 \\ -4 \\ 3 \end{pmatrix} + t \begin{pmatrix} 5 \\ 1 \\ -5 \end{pmatrix} ?$$

$$10 = -10 + 2s + 5t \qquad 2s + 5t = 20$$

$$2 = 9 - 4s + t \qquad \Leftrightarrow \quad -4s + t = -7$$

$$4.5 = 12 + 3s - 5t \qquad 3s - 5t = -7.5$$

$$\text{Lösung: } s = 2.5, t = 3 \quad \Rightarrow \quad P \in \varepsilon$$

## Beispiel 7.2.2

Liegt der Punkt  $P(5, -2, 16)$  in der Ebene  $\varepsilon: 4x + 3y - z + 1 = 0$ ?

## Beispiel 7.2.2

Liegt der Punkt  $P(5, -2, 16)$  in der Ebene  $\varepsilon: 4x + 3y - z + 1 = 0$ ?

$$4 \cdot 5 + 3 \cdot (-2) - 16 + 1 = 0$$

## Beispiel 7.2.2

Liegt der Punkt  $P(5, -2, 16)$  in der Ebene  $\varepsilon: 4x + 3y - z + 1 = 0$ ?

$$4 \cdot 5 + 3 \cdot (-2) - 16 + 1 = 0 \quad \Rightarrow \quad -1 = 0 \quad \Rightarrow \quad P \notin \varepsilon$$

## Beispiel 7.2.3

Bestimme eine Koordinatengleichung der Ebene  $\delta$ , die durch den Punkt  $P(1, 2, -3)$  geht und parallel zur Ebene  $\varepsilon: -8x + 2y - 3z + 1 = 0$  liegt.

## Beispiel 7.2.3

Bestimme eine Koordinatengleichung der Ebene  $\delta$ , die durch den Punkt  $P(1, 2, -3)$  geht und parallel zur Ebene  $\varepsilon: -8x + 2y - 3z + 1 = 0$  liegt.

$$\vec{n}_\delta = \vec{n}_\varepsilon = \begin{pmatrix} -8 \\ 2 \\ -3 \end{pmatrix}$$

## Beispiel 7.2.3

Bestimme eine Koordinatengleichung der Ebene  $\delta$ , die durch den Punkt  $P(1, 2, -3)$  geht und parallel zur Ebene  $\varepsilon: -8x + 2y - 3z + 1 = 0$  liegt.

$$\vec{n}_\delta = \vec{n}_\varepsilon = \begin{pmatrix} -8 \\ 2 \\ -3 \end{pmatrix}$$

$$D = -\vec{n}_\delta \cdot \vec{r}_P = -5$$

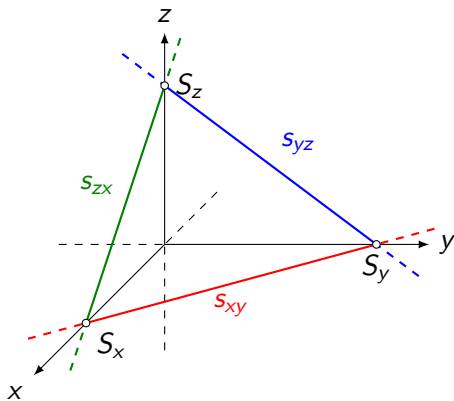
## Beispiel 7.2.3

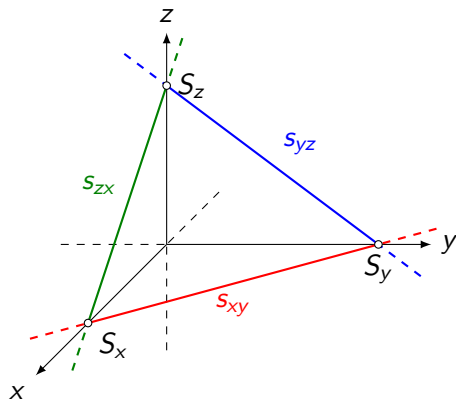
Bestimme eine Koordinatengleichung der Ebene  $\delta$ , die durch den Punkt  $P(1, 2, -3)$  geht und parallel zur Ebene  $\varepsilon: -8x + 2y - 3z + 1 = 0$  liegt.

$$\vec{n}_\delta = \vec{n}_\varepsilon = \begin{pmatrix} -8 \\ 2 \\ -3 \end{pmatrix}$$

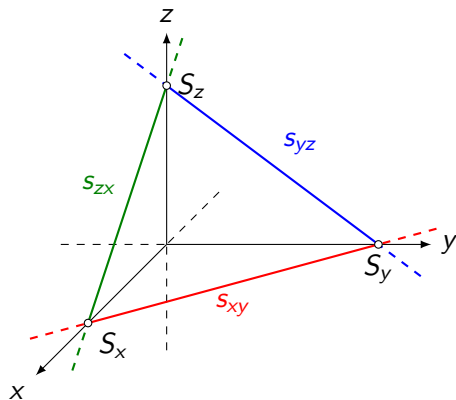
$$D = -\vec{n}_\delta \cdot \vec{r}_P = -5$$

$$\delta: -8x + 2y - 3z - 5 = 0$$





Achsenabschnitte:  $S_x$ ,  $S_y$ ,  $S_z$



Achsenabschnitte:  $S_x$ ,  $S_y$ ,  $S_z$

Spurgeraden:  $s_{xy}$ ,  $s_{yz}$ ,  $s_{zx}$

## Beispiel 7.3.1

Bestimme alle Achsenabschnitte und Spurgeraden der Ebene

$$\varepsilon: 2x - 3y + 5z - 10 = 0$$

## Beispiel 7.3.1

Bestimme alle Achsenabschnitte und Spurgeraden der Ebene

$$\varepsilon: 2x - 3y + 5z - 10 = 0$$

$$S_x(a, 0, 0): 2a - 10 = 0 \Rightarrow$$

## Beispiel 7.3.1

Bestimme alle Achsenabschnitte und Spurgeraden der Ebene

$$\varepsilon: 2x - 3y + 5z - 10 = 0$$

$$S_x(a, 0, 0): 2a - 10 = 0 \Rightarrow a = 5$$

## Beispiel 7.3.1

Bestimme alle Achsenabschnitte und Spurgeraden der Ebene

$$\varepsilon: 2x - 3y + 5z - 10 = 0$$

$$S_x(a, 0, 0): 2a - 10 = 0 \Rightarrow a = 5$$

$$S_y(0, b, 0): -3b - 10 = 0 \Rightarrow$$

## Beispiel 7.3.1

Bestimme alle Achsenabschnitte und Spurgeraden der Ebene

$$\varepsilon: 2x - 3y + 5z - 10 = 0$$

$$S_x(a, 0, 0): 2a - 10 = 0 \Rightarrow a = 5$$

$$S_y(0, b, 0): -3b - 10 = 0 \Rightarrow b = -10/3$$

## Beispiel 7.3.1

Bestimme alle Achsenabschnitte und Spurgeraden der Ebene

$$\varepsilon: 2x - 3y + 5z - 10 = 0$$

$$S_x(a, 0, 0): 2a - 10 = 0 \Rightarrow a = 5$$

$$S_y(0, b, 0): -3b - 10 = 0 \Rightarrow b = -10/3$$

$$S_z(0, 0, c): 5c - 10 = 0 \Rightarrow$$

## Beispiel 7.3.1

Bestimme alle Achsenabschnitte und Spurgeraden der Ebene

$$\varepsilon: 2x - 3y + 5z - 10 = 0$$

$$S_x(a, 0, 0): 2a - 10 = 0 \Rightarrow a = 5$$

$$S_y(0, b, 0): -3b - 10 = 0 \Rightarrow b = -10/3$$

$$S_z(0, 0, c): 5c - 10 = 0 \Rightarrow c = 2$$

## Beispiel 7.3.1

Bestimme alle Achsenabschnitte und Spurgeraden der Ebene

$$\varepsilon: 2x - 3y + 5z - 10 = 0$$

$$S_x(a, 0, 0): 2a - 10 = 0 \Rightarrow a = 5$$

$$S_y(0, b, 0): -3b - 10 = 0 \Rightarrow b = -10/3$$

$$S_z(0, 0, c): 5c - 10 = 0 \Rightarrow c = 2$$

$$s_{xy}: 2x - 3y - 10 = 0 \quad (z = 0)$$

## Beispiel 7.3.1

Bestimme alle Achsenabschnitte und Spurgeraden der Ebene

$$\varepsilon: 2x - 3y + 5z - 10 = 0$$

$$S_x(a, 0, 0): 2a - 10 = 0 \Rightarrow a = 5$$

$$S_y(0, b, 0): -3b - 10 = 0 \Rightarrow b = -10/3$$

$$S_z(0, 0, c): 5c - 10 = 0 \Rightarrow c = 2$$

$$s_{xy}: 2x - 3y - 10 = 0 \quad (z = 0)$$

$$s_{yz}: -3y + 5z - 10 = 0 \quad (x = 0)$$

## Beispiel 7.3.1

Bestimme alle Achsenabschnitte und Spurgeraden der Ebene

$$\varepsilon: 2x - 3y + 5z - 10 = 0$$

$$S_x(a, 0, 0): 2a - 10 = 0 \Rightarrow a = 5$$

$$S_y(0, b, 0): -3b - 10 = 0 \Rightarrow b = -10/3$$

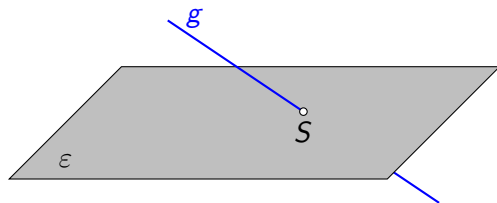
$$S_z(0, 0, c): 5c - 10 = 0 \Rightarrow c = 2$$

$$s_{xy}: 2x - 3y - 10 = 0 \quad (z = 0)$$

$$s_{yz}: -3y + 5z - 10 = 0 \quad (x = 0)$$


$$s_{zx}: 2x + 5z - 10 = 0 \quad (y = 0)$$

## Ein Schnittpunkt



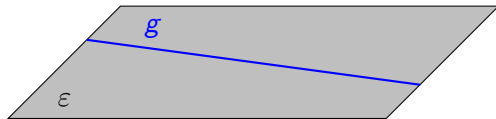
Die Gerade  $g$  schneidet die Ebene  $\varepsilon$  in einem Punkt.

## Kein Schnittpunkt

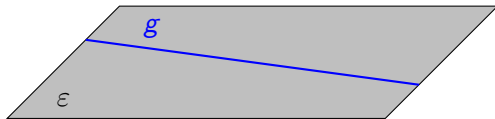


Die Gerade  $g$  verläuft parallel zur Ebene  $\varepsilon$ .

## Zwei Schnittpunkte



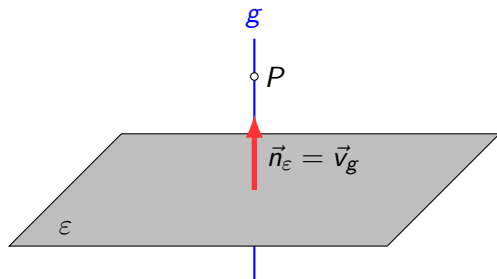
## Zwei Schnittpunkte



Die Gerade  $g$  liegt in der Ebene  $\varepsilon$ .

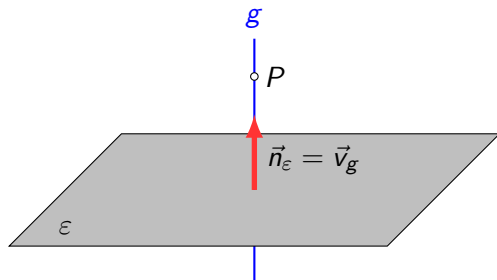
## Beispiel 7.4.1

Bestimme eine Gleichung der Geraden  $g$ , die senkrecht zur Ebene  $\varepsilon: x - 2y + 3z - 7 = 0$  steht und durch den Punkt  $P(-2, 3, 8)$  geht.



## Beispiel 7.4.1

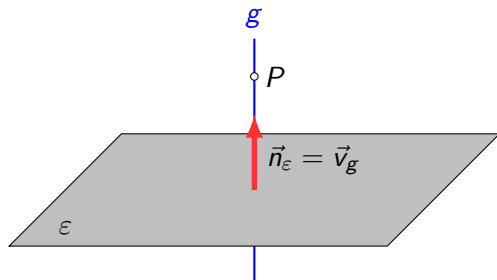
Bestimme eine Gleichung der Geraden  $g$ , die senkrecht zur Ebene  $\varepsilon: x - 2y + 3z - 7 = 0$  steht und durch den Punkt  $P(-2, 3, 8)$  geht.



$$\vec{n}_\varepsilon = \begin{pmatrix} 1 \\ -2 \\ 3 \end{pmatrix} = \vec{v}_g$$

## Beispiel 7.4.1

Bestimme eine Gleichung der Geraden  $g$ , die senkrecht zur Ebene  $\varepsilon: x - 2y + 3z - 7 = 0$  steht und durch den Punkt  $P(-2, 3, 8)$  geht.



$$\vec{n}_\varepsilon = \begin{pmatrix} 1 \\ -2 \\ 3 \end{pmatrix} = \vec{v}_g \Rightarrow g: \begin{pmatrix} x \\ y \\ z \end{pmatrix} = \begin{pmatrix} -2 \\ 3 \\ 8 \end{pmatrix} + t \begin{pmatrix} 1 \\ -2 \\ 3 \end{pmatrix}$$

## Beispiel 7.4.2

In welchem Punkt schneidet die Gerade

$$g: \begin{pmatrix} x \\ y \\ z \end{pmatrix} = \begin{pmatrix} -2 \\ 4 \\ 3 \end{pmatrix} + t \begin{pmatrix} 3 \\ -1 \\ 1 \end{pmatrix}$$

die Ebene  $\varepsilon: 7x - 2y + 3z + 39 = 0$ ?

## Beispiel 7.4.2

In welchem Punkt schneidet die Gerade

$$g: \begin{pmatrix} x \\ y \\ z \end{pmatrix} = \begin{pmatrix} -2 \\ 4 \\ 3 \end{pmatrix} + t \begin{pmatrix} 3 \\ -1 \\ 1 \end{pmatrix}$$

die Ebene  $\varepsilon: 7x - 2y + 3z + 39 = 0$ ?

**Komponenten von  $g$ :  $x = -2 + 3t$ ,  $y = 4 - t$ ,  $z = 3 + t$**

**in  $\varepsilon$  einsetzen:**

## Beispiel 7.4.2

In welchem Punkt schneidet die Gerade

$$g: \begin{pmatrix} x \\ y \\ z \end{pmatrix} = \begin{pmatrix} -2 \\ 4 \\ 3 \end{pmatrix} + t \begin{pmatrix} 3 \\ -1 \\ 1 \end{pmatrix}$$

die Ebene  $\varepsilon: 7x - 2y + 3z + 39 = 0$ ?

Komponenten von  $g$ :  $x = -2 + 3t$ ,  $y = 4 - t$ ,  $z = 3 + t$   
in  $\varepsilon$  einsetzen:

$$7(-2 + 3t) - 2(4 - t) + 3(3 + t) + 39 = 0$$

## Beispiel 7.4.2

In welchem Punkt schneidet die Gerade

$$g: \begin{pmatrix} x \\ y \\ z \end{pmatrix} = \begin{pmatrix} -2 \\ 4 \\ 3 \end{pmatrix} + t \begin{pmatrix} 3 \\ -1 \\ 1 \end{pmatrix}$$

die Ebene  $\varepsilon: 7x - 2y + 3z + 39 = 0$ ?

Komponenten von  $g$ :  $x = -2 + 3t$ ,  $y = 4 - t$ ,  $z = 3 + t$   
in  $\varepsilon$  einsetzen:

$$\begin{aligned} 7(-2 + 3t) - 2(4 - t) + 3(3 + t) + 39 &= 0 \\ -14 + 21t - 8 + 2t + 9 + 3t + 39 &= 0 \end{aligned}$$

## Beispiel 7.4.2

In welchem Punkt schneidet die Gerade

$$g: \begin{pmatrix} x \\ y \\ z \end{pmatrix} = \begin{pmatrix} -2 \\ 4 \\ 3 \end{pmatrix} + t \begin{pmatrix} 3 \\ -1 \\ 1 \end{pmatrix}$$

die Ebene  $\varepsilon: 7x - 2y + 3z + 39 = 0$ ?

Komponenten von  $g$ :  $x = -2 + 3t$ ,  $y = 4 - t$ ,  $z = 3 + t$   
in  $\varepsilon$  einsetzen:

$$\begin{aligned} 7(-2 + 3t) - 2(4 - t) + 3(3 + t) + 39 &= 0 \\ -14 + 21t - 8 + 2t + 9 + 3t + 39 &= 0 \\ 26t + 26 &= 0 \end{aligned}$$

## Beispiel 7.4.2

In welchem Punkt schneidet die Gerade

$$g: \begin{pmatrix} x \\ y \\ z \end{pmatrix} = \begin{pmatrix} -2 \\ 4 \\ 3 \end{pmatrix} + t \begin{pmatrix} 3 \\ -1 \\ 1 \end{pmatrix}$$

die Ebene  $\varepsilon: 7x - 2y + 3z + 39 = 0$ ?

Komponenten von  $g$ :  $x = -2 + 3t$ ,  $y = 4 - t$ ,  $z = 3 + t$   
in  $\varepsilon$  einsetzen:

$$7(-2 + 3t) - 2(4 - t) + 3(3 + t) + 39 = 0$$

$$-14 + 21t - 8 + 2t + 9 + 3t + 39 = 0$$

$$26t + 26 = 0$$

$$t = -1$$

## Beispiel 7.4.2

In welchem Punkt schneidet die Gerade

$$g: \begin{pmatrix} x \\ y \\ z \end{pmatrix} = \begin{pmatrix} -2 \\ 4 \\ 3 \end{pmatrix} + t \begin{pmatrix} 3 \\ -1 \\ 1 \end{pmatrix}$$

die Ebene  $\varepsilon: 7x - 2y + 3z + 39 = 0$ ?

Komponenten von  $g$ :  $x = -2 + 3t$ ,  $y = 4 - t$ ,  $z = 3 + t$   
in  $\varepsilon$  einsetzen:

$$7(-2 + 3t) - 2(4 - t) + 3(3 + t) + 39 = 0$$

$$-14 + 21t - 8 + 2t + 9 + 3t + 39 = 0$$

$$26t + 26 = 0$$

$$t = -1$$

$t = -1$  in  $g$  einsetzen:  $S(-5, 5, 2)$

## Beispiel 7.4.3

In welchem Winkel schneidet die Gerade

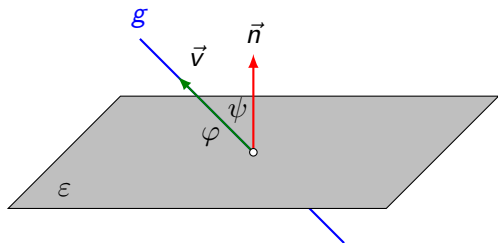
$$g: \begin{pmatrix} x \\ y \\ z \end{pmatrix} = \begin{pmatrix} 1 \\ 2 \\ 3 \end{pmatrix} + t \begin{pmatrix} 2 \\ -1 \\ 2 \end{pmatrix}$$

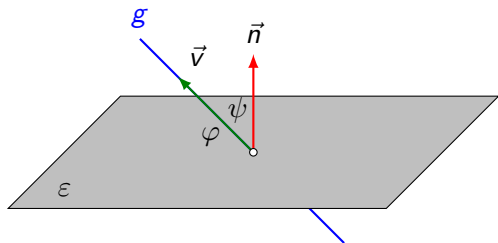
die Ebene  $\varepsilon: x + 2y - 2z + 1 = 0$ ?

# Vektorgeometrie (II)

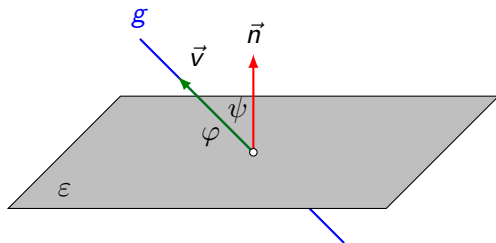
## └ Die Ebene

### └ Gegenseitige Lage von Gerade und Ebene



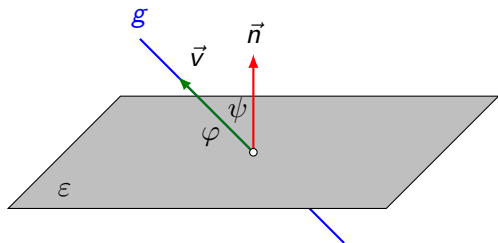


$$\psi = \arccos \frac{|\vec{n} \cdot \vec{v}|}{|\vec{n}| \cdot |\vec{v}|} = \arccos \frac{4}{3 \cdot 3} = 63.61^\circ$$



$$\psi = \arccos \frac{|\vec{n} \cdot \vec{v}|}{|\vec{n}| \cdot |\vec{v}|} = \arccos \frac{4}{3 \cdot 3} = 63.61^\circ$$

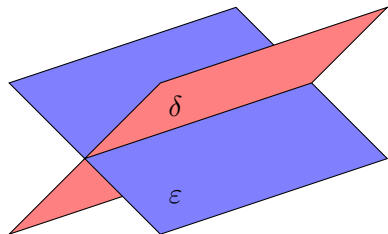
$$\varphi = 90^\circ - 63.61^\circ = 26.39^\circ$$



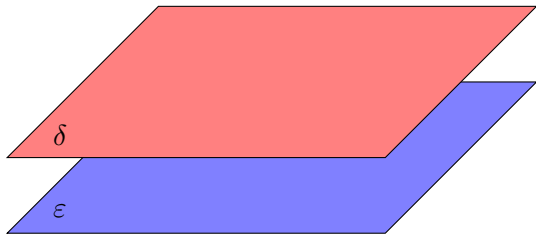
$$\psi = \arccos \frac{|\vec{n} \cdot \vec{v}|}{|\vec{n}| \cdot |\vec{v}|} = \arccos \frac{4}{3 \cdot 3} = 63.61^\circ$$

$$\varphi = 90^\circ - 63.61^\circ = 26.39^\circ$$

$$\text{oder direkt: } \varphi = \arcsin \frac{|\vec{n} \cdot \vec{v}|}{|\vec{n}| \cdot |\vec{v}|} = \arcsin \frac{4}{3 \cdot 3} = 26.39^\circ$$



schneidend



parallel



zusammenfallend

	NV kollinear	NV nicht kollinear
einen Schnittpunkt		
keinen Schnittpunkt		

	NV kollinear	NV nicht kollinear
einen Schnittpunkt	<b>zusammenfallend</b>	
keinen Schnittpunkt		

	NV kollinear	NV nicht kollinear
einen Schnittpunkt	<b>zusammenfallend</b>	<b>schneidend</b>
keinen Schnittpunkt		

	NV kollinear	NV nicht kollinear
einen Schnittpunkt	zusammenfallend	schneidend
keinen Schnittpunkt	parallel	

	NV kollinear	NV nicht kollinear
einen Schnittpunkt	zusammenfallend	schneidend
keinen Schnittpunkt	parallel	—

Untersuche die gegenseitige Lage der Ebenen  $\varepsilon$  und  $\delta$ . Falls sich die Ebenen schneiden berechne den Schnittwinkel und eine Gleichung der Schnittgeraden.

## Beispiel 7.5.1

$$\varepsilon: 6x - 8y + 4z + 9 = 0$$

$$\delta: 9x - 12y + 6z - 7 = 0$$

## Beispiel 7.5.1

$$\varepsilon: 6x - 8y + 4z + 9 = 0$$

$$\delta: 9x - 12y + 6z - 7 = 0$$

$$\vec{n}_\varepsilon = \begin{pmatrix} 6 \\ -8 \\ 4 \end{pmatrix}, \vec{n}_\delta = \begin{pmatrix} 9 \\ -12 \\ 6 \end{pmatrix} \Rightarrow 1.5 \cdot \vec{n}_\varepsilon = \vec{n}_\delta \text{ (kollinear)}$$

## Beispiel 7.5.1

$$\varepsilon: 6x - 8y + 4z + 9 = 0$$

$$\delta: 9x - 12y + 6z - 7 = 0$$

$$\vec{n}_\varepsilon = \begin{pmatrix} 6 \\ -8 \\ 4 \end{pmatrix}, \vec{n}_\delta = \begin{pmatrix} 9 \\ -12 \\ 6 \end{pmatrix} \Rightarrow 1.5 \cdot \vec{n}_\varepsilon = \vec{n}_\delta \text{ (kollinear)}$$

Wären die Ebenen identisch, so müsste  $1.5 \cdot \varepsilon = \delta$  gelten, was offenbar nicht der Fall ist.

## Beispiel 7.5.1

$$\varepsilon: 6x - 8y + 4z + 9 = 0$$

$$\delta: 9x - 12y + 6z - 7 = 0$$

$$\vec{n}_\varepsilon = \begin{pmatrix} 6 \\ -8 \\ 4 \end{pmatrix}, \vec{n}_\delta = \begin{pmatrix} 9 \\ -12 \\ 6 \end{pmatrix} \Rightarrow 1.5 \cdot \vec{n}_\varepsilon = \vec{n}_\delta \text{ (kollinear)}$$

Wären die Ebenen identisch, so müsste  $1.5 \cdot \varepsilon = \delta$  gelten, was offenbar nicht der Fall ist.

$$\Rightarrow \varepsilon_1 \parallel \varepsilon_2$$

## Beispiel 7.5.2

$$\varepsilon: 2x + 2y + 3z + 8 = 0$$

$$\delta: 5x + 2y + 4z + 7 = 0$$

## Beispiel 7.5.2

$$\varepsilon: 2x + 2y + 3z + 8 = 0$$

$$\delta: 5x + 2y + 4z + 7 = 0$$

$\vec{n}_\varepsilon = \begin{pmatrix} 2 \\ 2 \\ 3 \end{pmatrix}$  und  $\vec{n}_\delta = \begin{pmatrix} 5 \\ 2 \\ 4 \end{pmatrix}$  sind nicht kollinear.

$\Rightarrow \varepsilon$  und  $\delta$  schneiden sich.

Richtungsvektor der Schnittgeraden:

$$\vec{n}_\varepsilon \times \vec{n}_\delta = \begin{pmatrix} 2 \\ 2 \\ 3 \end{pmatrix} \times \begin{pmatrix} 5 \\ 2 \\ 4 \end{pmatrix} = \begin{pmatrix} 2 \\ 7 \\ -6 \end{pmatrix}$$

Richtungsvektor der Schnittgeraden:

$$\vec{n}_\epsilon \times \vec{n}_\delta = \begin{pmatrix} 2 \\ 2 \\ 3 \end{pmatrix} \times \begin{pmatrix} 5 \\ 2 \\ 4 \end{pmatrix} = \begin{pmatrix} 2 \\ 7 \\ -6 \end{pmatrix}$$

Hilfsebene durch  $(0, 0, 0)$  und senkrecht zu  $\vec{v}$ :

Richtungsvektor der Schnittgeraden:

$$\vec{n}_\varepsilon \times \vec{n}_\delta = \begin{pmatrix} 2 \\ 2 \\ 3 \end{pmatrix} \times \begin{pmatrix} 5 \\ 2 \\ 4 \end{pmatrix} = \begin{pmatrix} 2 \\ 7 \\ -6 \end{pmatrix}$$

Hilfsebene durch  $(0, 0, 0)$  und senkrecht zu  $\vec{v}$ :

$$\zeta: 2x + 7y - 6z = 0$$

Richtungsvektor der Schnittgeraden:

$$\vec{n}_\varepsilon \times \vec{n}_\delta = \begin{pmatrix} 2 \\ 2 \\ 3 \end{pmatrix} \times \begin{pmatrix} 5 \\ 2 \\ 4 \end{pmatrix} = \begin{pmatrix} 2 \\ 7 \\ -6 \end{pmatrix}$$

Hilfsebene durch  $(0, 0, 0)$  und senkrecht zu  $\vec{v}$ :

$$\zeta: 2x + 7y - 6z = 0$$

$$2x + 2y + 3z = -8$$

$$5x + 2y + 4z = -7$$

$$2x + 7y - 6z = 0$$

Richtungsvektor der Schnittgeraden:

$$\vec{n}_\epsilon \times \vec{n}_\delta = \begin{pmatrix} 2 \\ 2 \\ 3 \end{pmatrix} \times \begin{pmatrix} 5 \\ 2 \\ 4 \end{pmatrix} = \begin{pmatrix} 2 \\ 7 \\ -6 \end{pmatrix}$$

Hilfsebene durch  $(0, 0, 0)$  und senkrecht zu  $\vec{v}$ :

$$\zeta: 2x + 7y - 6z = 0$$

$$2x + 2y + 3z = -8$$

$$5x + 2y + 4z = -7 \quad \Rightarrow \quad S(1, -2, -2)$$

$$2x + 7y - 6z = 0$$

Richtungsvektor der Schnittgeraden:

$$\vec{n}_\epsilon \times \vec{n}_\delta = \begin{pmatrix} 2 \\ 2 \\ 3 \end{pmatrix} \times \begin{pmatrix} 5 \\ 2 \\ 4 \end{pmatrix} = \begin{pmatrix} 2 \\ 7 \\ -6 \end{pmatrix}$$

Hilfsebene durch  $(0, 0, 0)$  und senkrecht zu  $\vec{v}$ :

$$\zeta: 2x + 7y - 6z = 0$$

$$2x + 2y + 3z = -8$$

$$5x + 2y + 4z = -7 \quad \Rightarrow \quad S(1, -2, -2)$$

$$2x + 7y - 6z = 0$$

$$g: \begin{pmatrix} x \\ y \\ z \end{pmatrix} = \begin{pmatrix} 1 \\ -2 \\ -2 \end{pmatrix} + t \begin{pmatrix} 2 \\ 7 \\ -6 \end{pmatrix}$$

(spitzer) Schnittwinkel:

$\varphi$

(spitzer) Schnittwinkel:

$$\varphi = \arccos \frac{|\vec{n}_\varepsilon \cdot \vec{n}_\delta|}{|\vec{n}_\varepsilon| \cdot |\vec{n}_\delta|}$$

(spitzer) Schnittwinkel:

$$\varphi = \arccos \frac{|\vec{n}_\varepsilon \cdot \vec{n}_\delta|}{|\vec{n}_\varepsilon| \cdot |\vec{n}_\delta|} = \arccos \frac{26}{\sqrt{17} \cdot \sqrt{45}}$$

(spitzer) Schnittwinkel:

$$\varphi = \arccos \frac{|\vec{n}_\varepsilon \cdot \vec{n}_\delta|}{|\vec{n}_\varepsilon| \cdot |\vec{n}_\delta|} = \arccos \frac{26}{\sqrt{17} \cdot \sqrt{45}} \approx 19.94^\circ$$

## Beispiel 7.5.3

$$\varepsilon: 4x + 2y - 2z + 6 = 0$$

$$\delta: -2x - y + z - 3 = 0$$

## Beispiel 7.5.3

$$\varepsilon: 4x + 2y - 2z + 6 = 0$$

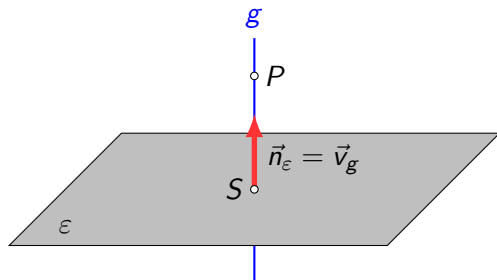
$$\delta: -2x - y + z - 3 = 0$$

Wegen  $-2 \cdot \delta = \varepsilon$  gilt  $\varepsilon = \delta$ .

## Abstand Punkt–Ebene

Gegeben:  $P(x_P, y_P, z_P)$  und  $\varepsilon: n_x \cdot x + n_y \cdot y + n_z \cdot z + d = 0$

Gesucht:  $P_\varepsilon = \text{dist}(P, \varepsilon)$



Normale  $g$  auf  $\varepsilon$  durch  $P$ :  $\vec{r} = \vec{r}_P + t\vec{n}$     $g \cap \varepsilon = \{S\}$ :

Normale  $g$  auf  $\varepsilon$  durch  $P$ :  $\vec{r} = \vec{r}_P + t\vec{n}$     $g \cap \varepsilon = \{S\}$ :

$$\vec{n} \cdot (\vec{r} - \vec{r}_A) = 0 \quad (A \in \varepsilon)$$

Normale  $g$  auf  $\varepsilon$  durch  $P$ :  $\vec{r} = \vec{r}_P + t\vec{n}$      $g \cap \varepsilon = \{S\}$ :

$$\vec{n} \cdot (\vec{r} - \vec{r}_A) = 0 \quad (A \in \varepsilon)$$

$$\vec{n} \cdot (\vec{r}_P + t\vec{n}) - \vec{n} \cdot \vec{r}_A = 0$$

Normale  $g$  auf  $\varepsilon$  durch  $P$ :  $\vec{r} = \vec{r}_P + t\vec{n}$      $g \cap \varepsilon = \{S\}$ :

$$\vec{n} \cdot (\vec{r} - \vec{r}_A) = 0 \quad (A \in \varepsilon)$$

$$\vec{n} \cdot (\vec{r}_P + t\vec{n}) - \vec{n} \cdot \vec{r}_A = 0$$

$$\vec{n} \cdot \vec{r}_P + t\vec{n} \cdot \vec{n} - \vec{n} \cdot \vec{r}_A = 0$$

Normale  $g$  auf  $\varepsilon$  durch  $P$ :  $\vec{r} = \vec{r}_P + t\vec{n}$      $g \cap \varepsilon = \{S\}$ :

$$\vec{n} \cdot (\vec{r} - \vec{r}_A) = 0 \quad (A \in \varepsilon)$$

$$\vec{n} \cdot (\vec{r}_P + t\vec{n}) - \vec{n} \cdot \vec{r}_A = 0$$

$$\vec{n} \cdot \vec{r}_P + t\vec{n} \cdot \vec{n} - \vec{n} \cdot \vec{r}_A = 0$$

$$t\vec{n} \cdot \vec{n} = \vec{n} \cdot \vec{r}_A - \vec{n} \cdot \vec{r}_P$$

Normale  $g$  auf  $\varepsilon$  durch  $P$ :  $\vec{r} = \vec{r}_P + t\vec{n}$     $g \cap \varepsilon = \{S\}$ :

$$\vec{n} \cdot (\vec{r} - \vec{r}_A) = 0 \quad (A \in \varepsilon)$$

$$\vec{n} \cdot (\vec{r}_P + t\vec{n}) - \vec{n} \cdot \vec{r}_A = 0$$

$$\vec{n} \cdot \vec{r}_P + t\vec{n} \cdot \vec{n} - \vec{n} \cdot \vec{r}_A = 0$$

$$t\vec{n} \cdot \vec{n} = \vec{n} \cdot \vec{r}_A - \vec{n} \cdot \vec{r}_P$$

$$t = \frac{\vec{n} \cdot \vec{r}_A - \vec{n} \cdot \vec{r}_P}{\vec{n} \cdot \vec{n}} = \frac{-\vec{n} \cdot (\vec{r}_P - \vec{r}_A)}{|\vec{n}|^2}$$

Normale  $g$  auf  $\varepsilon$  durch  $P$ :  $\vec{r} = \vec{r}_P + t\vec{n}$     $g \cap \varepsilon = \{S\}$ :

$$\vec{n} \cdot (\vec{r} - \vec{r}_A) = 0 \quad (A \in \varepsilon)$$

$$\vec{n} \cdot (\vec{r}_P + t\vec{n}) - \vec{n} \cdot \vec{r}_A = 0$$

$$\vec{n} \cdot \vec{r}_P + t\vec{n} \cdot \vec{n} - \vec{n} \cdot \vec{r}_A = 0$$

$$t\vec{n} \cdot \vec{n} = \vec{n} \cdot \vec{r}_A - \vec{n} \cdot \vec{r}_P$$

$$t = \frac{\vec{n} \cdot \vec{r}_A - \vec{n} \cdot \vec{r}_P}{\vec{n} \cdot \vec{n}} = \frac{-\vec{n} \cdot (\vec{r}_P - \vec{r}_A)}{|\vec{n}|^2}$$

$P \in \varepsilon$

Normale  $g$  auf  $\varepsilon$  durch  $P$ :  $\vec{r} = \vec{r}_P + t\vec{n}$     $g \cap \varepsilon = \{S\}$ :

$$\vec{n} \cdot (\vec{r} - \vec{r}_A) = 0 \quad (A \in \varepsilon)$$

$$\vec{n} \cdot (\vec{r}_P + t\vec{n}) - \vec{n} \cdot \vec{r}_A = 0$$

$$\vec{n} \cdot \vec{r}_P + t\vec{n} \cdot \vec{n} - \vec{n} \cdot \vec{r}_A = 0$$

$$t\vec{n} \cdot \vec{n} = \vec{n} \cdot \vec{r}_A - \vec{n} \cdot \vec{r}_P$$

$$t = \frac{\vec{n} \cdot \vec{r}_A - \vec{n} \cdot \vec{r}_P}{\vec{n} \cdot \vec{n}} = \frac{-\vec{n} \cdot (\vec{r}_P - \vec{r}_A)}{|\vec{n}|^2}$$

$$P_\varepsilon = PS$$

Normale  $g$  auf  $\varepsilon$  durch  $P$ :  $\vec{r} = \vec{r}_P + t\vec{n}$     $g \cap \varepsilon = \{S\}$ :

$$\vec{n} \cdot (\vec{r} - \vec{r}_A) = 0 \quad (A \in \varepsilon)$$

$$\vec{n} \cdot (\vec{r}_P + t\vec{n}) - \vec{n} \cdot \vec{r}_A = 0$$

$$\vec{n} \cdot \vec{r}_P + t\vec{n} \cdot \vec{n} - \vec{n} \cdot \vec{r}_A = 0$$

$$t\vec{n} \cdot \vec{n} = \vec{n} \cdot \vec{r}_A - \vec{n} \cdot \vec{r}_P$$

$$t = \frac{\vec{n} \cdot \vec{r}_A - \vec{n} \cdot \vec{r}_P}{\vec{n} \cdot \vec{n}} = \frac{-\vec{n} \cdot (\vec{r}_P - \vec{r}_A)}{|\vec{n}|^2}$$

$$P_\varepsilon = PS = |t\vec{n}|$$

Normale  $g$  auf  $\varepsilon$  durch  $P$ :  $\vec{r} = \vec{r}_P + t\vec{n}$     $g \cap \varepsilon = \{S\}$ :

$$\vec{n} \cdot (\vec{r} - \vec{r}_A) = 0 \quad (A \in \varepsilon)$$

$$\vec{n} \cdot (\vec{r}_P + t\vec{n}) - \vec{n} \cdot \vec{r}_A = 0$$

$$\vec{n} \cdot \vec{r}_P + t\vec{n} \cdot \vec{n} - \vec{n} \cdot \vec{r}_A = 0$$

$$t\vec{n} \cdot \vec{n} = \vec{n} \cdot \vec{r}_A - \vec{n} \cdot \vec{r}_P$$

$$t = \frac{\vec{n} \cdot \vec{r}_A - \vec{n} \cdot \vec{r}_P}{\vec{n} \cdot \vec{n}} = \frac{-\vec{n} \cdot (\vec{r}_P - \vec{r}_A)}{|\vec{n}|^2}$$

$$P\varepsilon = PS = |t\vec{n}| = |t| \cdot |\vec{n}|$$

Normale  $g$  auf  $\varepsilon$  durch  $P$ :  $\vec{r} = \vec{r}_P + t\vec{n}$      $g \cap \varepsilon = \{S\}$ :

$$\vec{n} \cdot (\vec{r} - \vec{r}_A) = 0 \quad (A \in \varepsilon)$$

$$\vec{n} \cdot (\vec{r}_P + t\vec{n}) - \vec{n} \cdot \vec{r}_A = 0$$

$$\vec{n} \cdot \vec{r}_P + t\vec{n} \cdot \vec{n} - \vec{n} \cdot \vec{r}_A = 0$$

$$t\vec{n} \cdot \vec{n} = \vec{n} \cdot \vec{r}_A - \vec{n} \cdot \vec{r}_P$$

$$t = \frac{\vec{n} \cdot \vec{r}_A - \vec{n} \cdot \vec{r}_P}{\vec{n} \cdot \vec{n}} = \frac{-\vec{n} \cdot (\vec{r}_P - \vec{r}_A)}{|\vec{n}|^2}$$

$$P\varepsilon = PS = |t\vec{n}| = |t| \cdot |\vec{n}| = \frac{|\vec{n} \cdot (\vec{r}_P - \vec{r}_A)|}{|\vec{n}|}$$

Normale  $g$  auf  $\varepsilon$  durch  $P$ :  $\vec{r} = \vec{r}_P + t\vec{n}$   $g \cap \varepsilon = \{S\}$ :

$$\vec{n} \cdot (\vec{r} - \vec{r}_A) = 0 \quad (A \in \varepsilon)$$

$$\vec{n} \cdot (\vec{r}_P + t\vec{n}) - \vec{n} \cdot \vec{r}_A = 0$$

$$\vec{n} \cdot \vec{r}_P + t\vec{n} \cdot \vec{n} - \vec{n} \cdot \vec{r}_A = 0$$

$$t\vec{n} \cdot \vec{n} = \vec{n} \cdot \vec{r}_A - \vec{n} \cdot \vec{r}_P$$

$$t = \frac{\vec{n} \cdot \vec{r}_A - \vec{n} \cdot \vec{r}_P}{\vec{n} \cdot \vec{n}} = \frac{-\vec{n} \cdot (\vec{r}_P - \vec{r}_A)}{|\vec{n}|^2}$$

$$P_\varepsilon = PS = |t\vec{n}| = |t| \cdot |\vec{n}| = \frac{|\vec{n} \cdot (\vec{r}_P - \vec{r}_A)|}{|\vec{n}|}$$

$$P_\varepsilon = \frac{|n_1 x_P + n_2 y_P + n_3 z_P + d|}{\sqrt{n_1^2 + n_2^2 + n_3^2}} \quad \text{Hessesche Normalform}$$

## Beispiel 7.6.1

Berechne den Abstand  $P_{\mathcal{E}}$  vom Punkt  $P(5, 2, 1)$  zur Ebene  $\mathcal{E}: x + 4y + 8z + 1 = 0$ .

## Beispiel 7.6.1

Berechne den Abstand  $P_{\mathcal{E}}$  vom Punkt  $P(5, 2, 1)$  zur Ebene  $\mathcal{E}: x + 4y + 8z + 1 = 0$ .

$$\vec{n}_{\mathcal{E}} = (1, 4, 8)^T$$

## Beispiel 7.6.1

Berechne den Abstand  $P_{\mathcal{E}}$  vom Punkt  $P(5, 2, 1)$  zur Ebene  $\mathcal{E}: x + 4y + 8z + 1 = 0$ .

$$\vec{n}_{\mathcal{E}} = (1, 4, 8)^T$$

$$P_{\mathcal{E}}$$

## Beispiel 7.6.1

Berechne den Abstand  $P_{\varepsilon}$  vom Punkt  $P(5, 2, 1)$  zur Ebene  $\varepsilon: x + 4y + 8z + 1 = 0$ .

$$\vec{n}_{\varepsilon} = (1, 4, 8)^T$$

$$P_{\varepsilon} = \frac{|1 \cdot 5 + 4 \cdot 2 + 8 \cdot 1 + 1|}{\sqrt{1^2 + 4^2 + 8^2}}$$

## Beispiel 7.6.1

Berechne den Abstand  $P_{\varepsilon}$  vom Punkt  $P(5, 2, 1)$  zur Ebene  $\varepsilon: x + 4y + 8z + 1 = 0$ .

$$\vec{n}_{\varepsilon} = (1, 4, 8)^T$$

$$P_{\varepsilon} = \frac{|1 \cdot 5 + 4 \cdot 2 + 8 \cdot 1 + 1|}{\sqrt{1^2 + 4^2 + 8^2}} = \frac{22}{9}$$

## Beispiel 7.6.1

Berechne den Abstand  $P_\varepsilon$  vom Punkt  $P(5, 2, 1)$  zur Ebene  $\varepsilon: x + 4y + 8z + 1 = 0$ .

$$\vec{n}_\varepsilon = (1, 4, 8)^T$$

$$P_\varepsilon = \frac{|1 \cdot 5 + 4 \cdot 2 + 8 \cdot 1 + 1|}{\sqrt{1^2 + 4^2 + 8^2}} = \frac{22}{9}$$

Ohne Betragzeichen lässt sich  $P_\varepsilon$  wie folgt deuten:

falls  $P_\varepsilon > 0$ :  $P$  liegt im Halbraum in Richtung von  $\vec{n}_\varepsilon$ .

falls  $P_\varepsilon < 0$ :  $P$  liegt im Halbraum in Richtung von  $-\vec{n}_\varepsilon$ .

## Beispiel 7.6.2

Gesucht: Abstand des Punktes  $P(5, -1, 3)$  von der Ebene  
 $\varepsilon: 9x + 20y + 12z + 14 = 0$

## Beispiel 7.6.2

Gesucht: Abstand des Punktes  $P(5, -1, 3)$  von der Ebene  
 $\varepsilon: 9x + 20y + 12z + 14 = 0$

$P \varepsilon$

## Beispiel 7.6.2

Gesucht: Abstand des Punktes  $P(5, -1, 3)$  von der Ebene  
 $\varepsilon: 9x + 20y + 12z + 14 = 0$

$$P_{\varepsilon} = \frac{|9 \cdot 5 + 20 \cdot (-1) + 12 \cdot 3 + 14|}{\sqrt{9^2 + 20^2 + 12^2}}$$

## Beispiel 7.6.2

Gesucht: Abstand des Punktes  $P(5, -1, 3)$  von der Ebene  
 $\varepsilon: 9x + 20y + 12z + 14 = 0$

$$P_{\varepsilon} = \frac{|9 \cdot 5 + 20 \cdot (-1) + 12 \cdot 3 + 14|}{\sqrt{9^2 + 20^2 + 12^2}} = \frac{75}{25}$$

## Beispiel 7.6.2

Gesucht: Abstand des Punktes  $P(5, -1, 3)$  von der Ebene  
 $\varepsilon: 9x + 20y + 12z + 14 = 0$

$$P_{\varepsilon} = \frac{|9 \cdot 5 + 20 \cdot (-1) + 12 \cdot 3 + 14|}{\sqrt{9^2 + 20^2 + 12^2}} = \frac{75}{25} = 3$$

## Beispiel 7.6.3

Abstand der Ebene  $\varepsilon: 4x - 10y + 3z - 25 = 0$  vom Ursprung.

## Beispiel 7.6.3

Abstand der Ebene  $\varepsilon: 4x - 10y + 3z - 25 = 0$  vom Ursprung.

$P_\varepsilon$

## Beispiel 7.6.3

Abstand der Ebene  $\varepsilon: 4x - 10y + 3z - 25 = 0$  vom Ursprung.

$$P_{\varepsilon} = \frac{|4 \cdot 0 - 10 \cdot 0 + 3 \cdot 0 - 25|}{\sqrt{16 + 100 + 9}} = \frac{25}{\sqrt{125}}$$

## Beispiel 7.6.3

Abstand der Ebene  $\varepsilon: 4x - 10y + 3z - 25 = 0$  vom Ursprung.

$$P_{\varepsilon} = \frac{|4 \cdot 0 - 10 \cdot 0 + 3 \cdot 0 - 25|}{\sqrt{16 + 100 + 9}} = \frac{25}{\sqrt{125}} = \sqrt{5}$$

## Beispiel 7.6.4

Liegen die Punkte  $P_1(0, 1, -9)$  und  $P_2(-1, -3, 8)$  im gleichen Halbraum der Ebene  $\varepsilon: 3x + 12y - 4z + 1 = 0$ ?

## Beispiel 7.6.4

Liegen die Punkte  $P_1(0, 1, -9)$  und  $P_2(-1, -3, 8)$  im gleichen Halbraum der Ebene  $\varepsilon: 3x + 12y - 4z + 1 = 0$ ?

$$P_1\varepsilon = \frac{0 + 12 + 36 + 1}{\sqrt{9 + 144 + 16}} = \frac{49}{13} > 0$$

## Beispiel 7.6.4

Liegen die Punkte  $P_1(0, 1, -9)$  und  $P_2(-1, -3, 8)$  im gleichen Halbraum der Ebene  $\varepsilon: 3x + 12y - 4z + 1 = 0$ ?

$$P_1\varepsilon = \frac{0 + 12 + 36 + 1}{\sqrt{9 + 144 + 16}} = \frac{49}{13} > 0$$

$$P_2\varepsilon = \frac{-3 - 36 - 32 + 1}{\sqrt{9 + 144 + 16}} = \frac{-70}{13} < 0$$

## Beispiel 7.6.4

Liegen die Punkte  $P_1(0, 1, -9)$  und  $P_2(-1, -3, 8)$  im gleichen Halbraum der Ebene  $\varepsilon: 3x + 12y - 4z + 1 = 0$ ?

$$\left. \begin{aligned} P_1\varepsilon &= \frac{0 + 12 + 36 + 1}{\sqrt{9 + 144 + 16}} = \frac{49}{13} > 0 \\ P_2\varepsilon &= \frac{-3 - 36 - 32 + 1}{\sqrt{9 + 144 + 16}} = \frac{-70}{13} < 0 \end{aligned} \right\} \Rightarrow \text{Nein}$$

## Abstand paralleler Ebenen

Weise nach, dass die Ebenen  $\varepsilon_1: 2x - 2y + z - 7 = 0$  und  $\varepsilon_2: 4x - 4y + 2z + 2 = 0$  parallel sind und bestimme ihren Abstand.

## Abstand paralleler Ebenen

Weise nach, dass die Ebenen  $\varepsilon_1: 2x - 2y + z - 7 = 0$  und  $\varepsilon_2: 4x - 4y + 2z + 2 = 0$  parallel sind und bestimme ihren Abstand.

$\vec{n}_2$

## Abstand paralleler Ebenen

Weise nach, dass die Ebenen  $\varepsilon_1: 2x - 2y + z - 7 = 0$  und  $\varepsilon_2: 4x - 4y + 2z + 2 = 0$  parallel sind und bestimme ihren Abstand.

$$\vec{n}_2 = \begin{pmatrix} 4 \\ -4 \\ 2 \end{pmatrix}$$

## Abstand paralleler Ebenen

Weise nach, dass die Ebenen  $\varepsilon_1: 2x - 2y + z - 7 = 0$  und  $\varepsilon_2: 4x - 4y + 2z + 2 = 0$  parallel sind und bestimme ihren Abstand.

$$\vec{n}_2 = \begin{pmatrix} 4 \\ -4 \\ 2 \end{pmatrix} = 2 \cdot \begin{pmatrix} 2 \\ -2 \\ 1 \end{pmatrix}$$

## Abstand paralleler Ebenen

Weise nach, dass die Ebenen  $\varepsilon_1: 2x - 2y + z - 7 = 0$  und  $\varepsilon_2: 4x - 4y + 2z + 2 = 0$  parallel sind und bestimme ihren Abstand.

$$\vec{n}_2 = \begin{pmatrix} 4 \\ -4 \\ 2 \end{pmatrix} = 2 \cdot \begin{pmatrix} 2 \\ -2 \\ 1 \end{pmatrix} = 2 \cdot \vec{n}_1$$

## Abstand paralleler Ebenen

Weise nach, dass die Ebenen  $\varepsilon_1: 2x - 2y + z - 7 = 0$  und  $\varepsilon_2: 4x - 4y + 2z + 2 = 0$  parallel sind und bestimme ihren Abstand.

$$\vec{n}_2 = \begin{pmatrix} 4 \\ -4 \\ 2 \end{pmatrix} = 2 \cdot \begin{pmatrix} 2 \\ -2 \\ 1 \end{pmatrix} = 2 \cdot \vec{n}_1$$

Wähle Punkt auf  $\varepsilon_1$ :  $P(0, 0, 7)$

## Abstand paralleler Ebenen

Weise nach, dass die Ebenen  $\varepsilon_1: 2x - 2y + z - 7 = 0$  und  $\varepsilon_2: 4x - 4y + 2z + 2 = 0$  parallel sind und bestimme ihren Abstand.

$$\vec{n}_2 = \begin{pmatrix} 4 \\ -4 \\ 2 \end{pmatrix} = 2 \cdot \begin{pmatrix} 2 \\ -2 \\ 1 \end{pmatrix} = 2 \cdot \vec{n}_1$$

Wähle Punkt auf  $\varepsilon_1$ :  $P(0, 0, 7)$

$P_{\varepsilon_2}$

## Abstand paralleler Ebenen

Weise nach, dass die Ebenen  $\varepsilon_1: 2x - 2y + z - 7 = 0$  und  $\varepsilon_2: 4x - 4y + 2z + 2 = 0$  parallel sind und bestimme ihren Abstand.

$$\vec{n}_2 = \begin{pmatrix} 4 \\ -4 \\ 2 \end{pmatrix} = 2 \cdot \begin{pmatrix} 2 \\ -2 \\ 1 \end{pmatrix} = 2 \cdot \vec{n}_1$$

Wähle Punkt auf  $\varepsilon_1$ :  $P(0, 0, 7)$

$$P_{\varepsilon_2} = \frac{|4 \cdot 0 - 4 \cdot 0 + 2 \cdot 7 + 2|}{\sqrt{4^2 + 4^2 + 2^2}}$$

## Abstand paralleler Ebenen

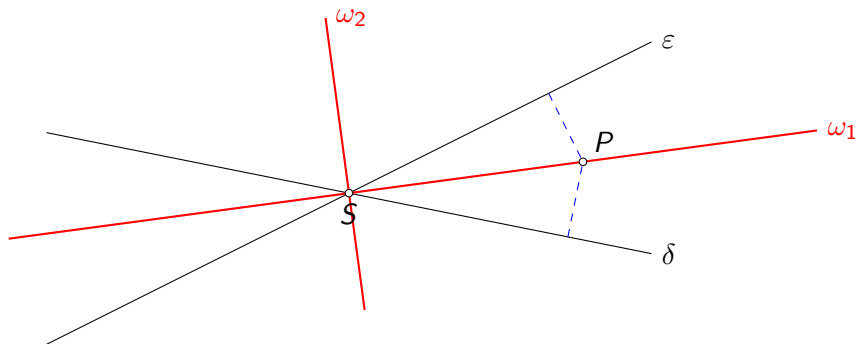
Weise nach, dass die Ebenen  $\varepsilon_1: 2x - 2y + z - 7 = 0$  und  $\varepsilon_2: 4x - 4y + 2z + 2 = 0$  parallel sind und bestimme ihren Abstand.

$$\vec{n}_2 = \begin{pmatrix} 4 \\ -4 \\ 2 \end{pmatrix} = 2 \cdot \begin{pmatrix} 2 \\ -2 \\ 1 \end{pmatrix} = 2 \cdot \vec{n}_1$$

Wähle Punkt auf  $\varepsilon_1$ :  $P(0, 0, 7)$

$$P_{\varepsilon_2} = \frac{|4 \cdot 0 - 4 \cdot 0 + 2 \cdot 7 + 2|}{\sqrt{4^2 + 4^2 + 2^2}} = \frac{16}{6} = \frac{8}{3}$$

Schneiden sich zwei Ebenen  $\varepsilon$  und  $\delta$  in der Geraden  $s$ , so gibt es zwei winkelhalbierende Ebenen  $\omega_1$  und  $\omega_2$ . Das Bild zeigt zwei Ebenen und ihre Winkelhalbierenden in projizierender Lage.



Der Punkt  $P(x, y, z)$  liegt genau dann auf einer der Winkelhalbierenden, wenn er von  $\varepsilon$  und  $\delta$  den gleichen Abstand hat.

Da der Abstand eines Punktes von einer Ebene mit der Hesseschen Normalform berechnet werden kann, lässt sich die obige Aussage auch so formulieren:

Da der Abstand eines Punktes von einer Ebene mit der Hesseschen Normalform berechnet werden kann, lässt sich die obige Aussage auch so formulieren:

$$P \in \omega_1 \text{ oder } P \in \omega_2$$

Da der Abstand eines Punktes von einer Ebene mit der Hesseschen Normalform berechnet werden kann, lässt sich die obige Aussage auch so formulieren:

$$P \in \omega_1 \text{ oder } P \in \omega_2$$

$$\frac{|Ax + By + Cz + D|}{\sqrt{A^2 + B^2 + C^2}} = \frac{|Ex + Fy + Gz + H|}{\sqrt{E^2 + F^2 + G^2}}$$

Um die Beträge weglassen zu können, müssen wir zwei Fälle unterscheiden:

Haben beide Zähler gleiches Vorzeichen, so gilt:

$$\omega_1: \frac{Ax + By + Cz + D}{\sqrt{A^2 + B^2 + C^2}} = \frac{Ex + Fy + Gz + H}{\sqrt{E^2 + F^2 + G^2}}$$

Haben beide Zähler unterschiedliche Vorzeichen, so gilt:

$$\omega_2: \frac{Ax + By + Cz + D}{\sqrt{A^2 + B^2 + C^2}} = -\frac{Ex + Fy + Gz + H}{\sqrt{E^2 + F^2 + G^2}}$$

## Beispiel 7.7.1

Bestimme die Winkelhalbierende der Ebenen

$$\varepsilon: 2x - y + 2z + 3 = 0 \text{ und } \delta: x + 4y + 8z - 5 = 0.$$

## Beispiel 7.7.1

Bestimme die Winkelhalbierende der Ebenen

$\varepsilon: 2x - y + 2z + 3 = 0$  und  $\delta: x + 4y + 8z - 5 = 0$ .

1. Winkelhalbierende:

$$\frac{2x - y + 2z + 3}{3} = \frac{x + 4y + 8z - 5}{9}$$

## Beispiel 7.7.1

Bestimme die Winkelhalbierende der Ebenen

$$\varepsilon: 2x - y + 2z + 3 = 0 \text{ und } \delta: x + 4y + 8z - 5 = 0.$$

1. Winkelhalbierende:

$$\frac{2x - y + 2z + 3}{3} = \frac{x + 4y + 8z - 5}{9}$$

$$6x - 3y + 6z + 9 = x + 4y + 8z - 5$$

## Beispiel 7.7.1

Bestimme die Winkelhalbierende der Ebenen

$$\varepsilon: 2x - y + 2z + 3 = 0 \text{ und } \delta: x + 4y + 8z - 5 = 0.$$

1. Winkelhalbierende:

$$\frac{2x - y + 2z + 3}{3} = \frac{x + 4y + 8z - 5}{9}$$

$$6x - 3y + 6z + 9 = x + 4y + 8z - 5$$

$$\omega_1: 5x - 7y - 2z + 14 = 0$$

## 2. Winkelhalbierende:

$$\frac{2x - y + 2z + 3}{3} = - \frac{x + 4y + 8z - 5}{9}$$

## 2. Winkelhalbierende:

$$\frac{2x - y + 2z + 3}{3} = - \frac{x + 4y + 8z - 5}{9}$$

$$6x - 3y + 6z + 9 = -x - 4y - 8z + 5$$

## 2. Winkelhalbierende:

$$\frac{2x - y + 2z + 3}{3} = -\frac{x + 4y + 8z - 5}{9}$$

$$6x - 3y + 6z + 9 = -x - 4y - 8z + 5$$

$$\omega_2: 7x + y + 14z + 4 = 0$$