

Trigonometrie (Teil 1)

Theorie

Motivation

Bisher konnten wir mit Hilfe geometrischer Sätze in speziellen Figuren . . .

- ▶ aus gegebenen Seitenlängen weitere Seitenlängen berechnen (Höhensatz, Kathetensätze, Satz von Pythagoras),
- ▶ aus gegebenen Winkeln die Größen weiterer Winkel bestimmen (Summenformeln für Winkel in n -Ecken, Zentriwinkel-Peripheriewinkelsatz, Sehnen-Tangentenwinkelsatz).

Jedoch kennen wir noch keine Zusammenhänge zwischen Seitenlängen und Winkeln.

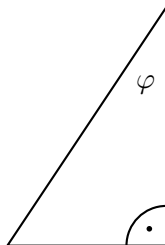
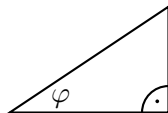
Ähnlichkeitssätze

- ▶ Zwei Dreiecke sind zueinander ähnlich, wenn sie in zwei (und somit in drei) Winkeln übereinstimmen. (ww)
- ▶ Zwei Dreiecke sind zueinander ähnlich, wenn sie in allen Verhältnissen entsprechender Seiten übereinstimmen. (sss)
- ▶ Zwei Dreiecke sind zueinander ähnlich, wenn sie in einem Winkel und im Verhältnis der anliegenden Seiten übereinstimmen. (sws)
- ▶ Zwei Dreiecke sind zueinander ähnlich, wenn sie im Verhältnis zweier Seiten und im Gegenwinkel der größeren Seite übereinstimmen. (SsW)

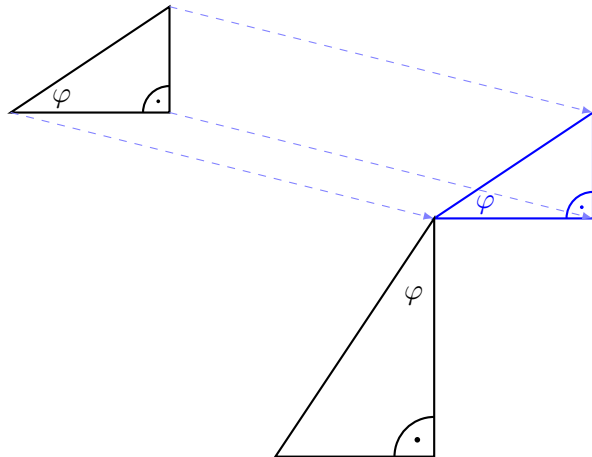
Dreiecke mit zwei identischen Winkeln

Wenn zwei rechtwinkligen Dreiecke in einem weiteren Winkel φ übereinstimmen, so unterscheiden sie sich aufgrund der Ähnlichkeitssätze bloss um eine Ähnlichkeitsabbildung. Das heisst, dass eines der Dreieck sich durch eine Translation, eine Spiegelung, eine Rotation und eine zentrische Streckung in das andere Dreieck überführen lässt.

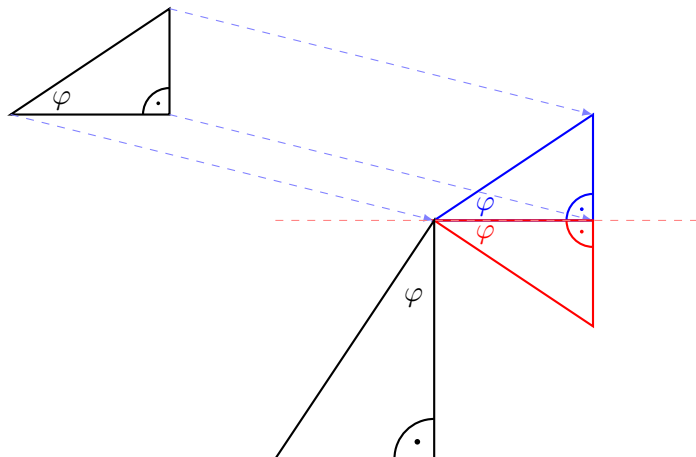
Beispiel 1.1



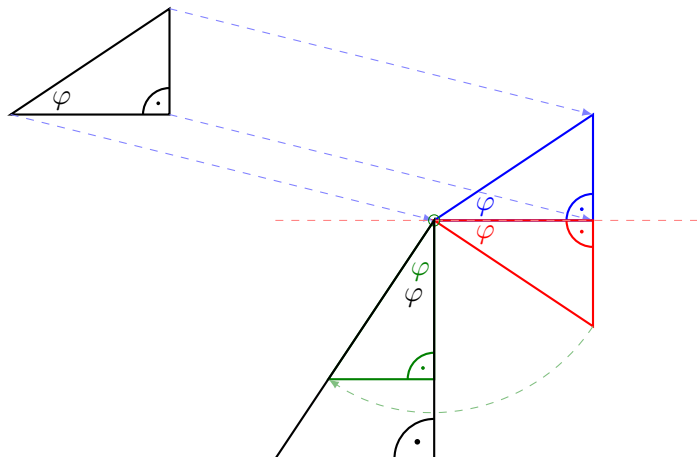
Beispiel 1.1



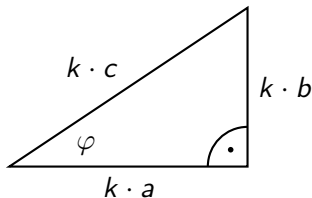
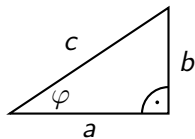
Beispiel 1.1



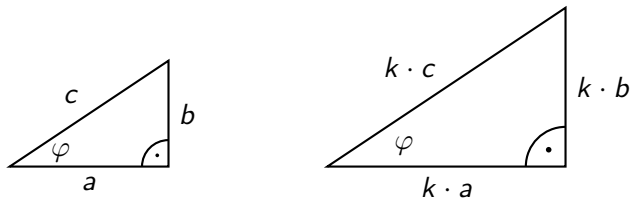
Beispiel 1.1



Also unterscheiden sich in ähnlichen Dreiecken die Längen entsprechender Seiten um einen gemeinsamen Streckungsfaktor k .

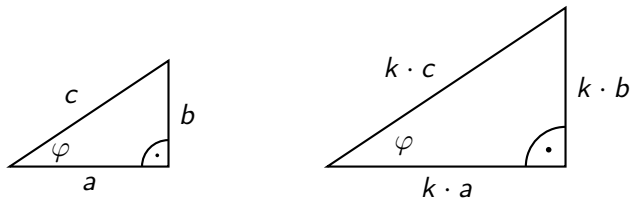


Also unterscheiden sich in ähnlichen Dreiecken die Längen entsprechender Seiten um einen gemeinsamen Streckungsfaktor k .



In einem Dreieck ABC ist das Verhältnis zweier Seitenlängen gleich gross wie das entsprechende Verhältnis in einem zu ABC ähnlichen Dreieck.

Also unterscheiden sich in ähnlichen Dreiecken die Längen entsprechender Seiten um einen gemeinsamen Streckungsfaktor k .

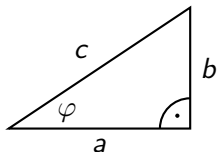


In einem Dreieck ABC ist das Verhältnis zweier Seitenlängen gleich gross wie das entsprechende Verhältnis in einem zu ABC ähnlichen Dreieck.

$$\frac{a}{b} = \frac{k \cdot a}{k \cdot b} \quad \text{und} \quad \frac{b}{c} = \frac{k \cdot b}{k \cdot c} \quad \text{und} \quad \frac{c}{a} = \frac{k \cdot c}{k \cdot a} \quad \text{usw.}$$

Begriffe

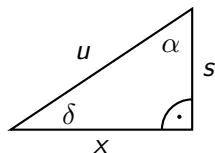
In einem rechtwinkligen Dreieck, mit dem Winkel φ werden die Seiten wie folgt benannt:



- ▶ a ist die **Ankathete** von φ .
- ▶ b ist die **Gegenkathete** von φ .
- ▶ c ist die **Hypothense**.

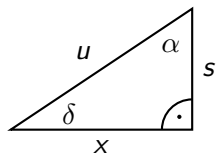
Die Bezeichnung einer Kathete hängt von ihrer relativen Lage zum gegebenen Winkel ab und nicht von der willkürlichen Beschriftung.

Beispiel 1.1



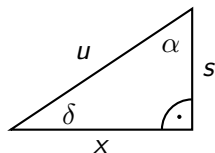
(a) Gegenkathete von α ?

Beispiel 1.1



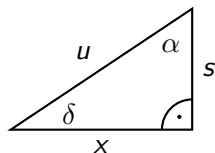
(a) Gegenkathete von α ? \times

Beispiel 1.1



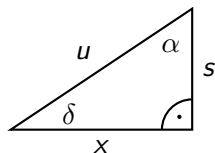
- (a) Gegenkathete von α ? x
- (b) Ankathete von δ ?

Beispiel 1.1



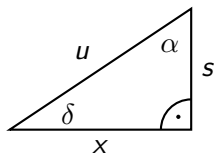
- (a) Gegenkathete von α ? \times
- (b) Ankathete von δ ? \times

Beispiel 1.1



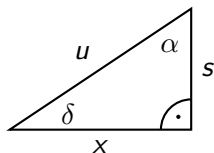
- (a) Gegenkathete von α ? x
- (b) Ankathete von δ ? x
- (c) Hypotenuse?

Beispiel 1.1



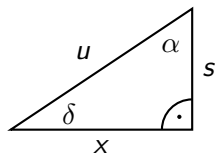
- (a) Gegenkathete von α ? x
- (b) Ankathete von δ ? x
- (c) Hypotenuse? u

Beispiel 1.1



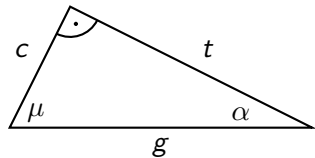
- (a) Gegenkathete von α ? x
- (b) Ankathete von δ ? x
- (c) Hypotenuse? u
- (d) Gegenkathete von δ ?

Beispiel 1.1



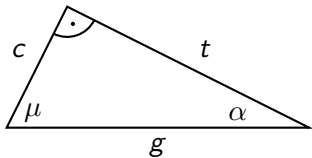
- (a) Gegenkathete von α ? x
- (b) Ankathete von δ ? x
- (c) Hypotenuse? u
- (d) Gegenkathete von δ ? s

Beispiel 1.2



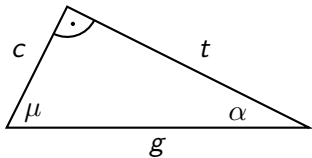
(a) Was ist t ?

Beispiel 1.2



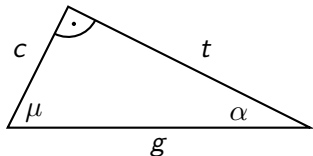
(a) Was ist t ? Ankathete von α und Gegenkathete von μ

Beispiel 1.2



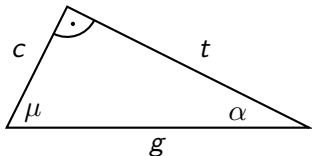
- (a) Was ist t ? Ankathete von α und Gegenkathete von μ
- (b) Was ist g ?

Beispiel 1.2



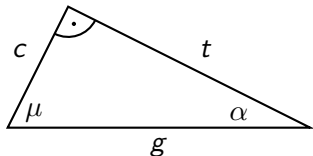
- (a) Was ist t ? Ankathete von α und Gegenkathete von μ
- (b) Was ist g ? Hypotenuse

Beispiel 1.2



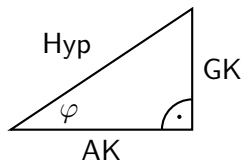
- (a) Was ist t ? Ankathete von α und Gegenkathete von μ
- (b) Was ist g ? Hypotenuse
- (c) Was ist c ?

Beispiel 1.2



- (a) Was ist t ? Ankathete von α und Gegenkathete von μ
- (b) Was ist g ? Hypotenuse
- (c) Was ist c ? Ankathete von μ und Gegenkathete von α

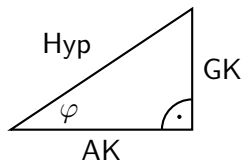
Die Winkelfunktionen



Die Seitenverhältnisse zum Winkel φ werden wie folgt genannt:

► $\sin(\varphi) = \frac{\text{GK}}{\text{Hyp}}$ (Sinus von φ)

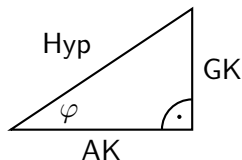
Die Winkelfunktionen



Die Seitenverhältnisse zum Winkel φ werden wie folgt genannt:

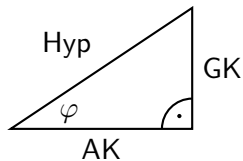
- ▶ $\sin(\varphi) = \frac{GK}{Hyp}$ (Sinus von φ)
- ▶ $\cos(\varphi) = \frac{AK}{Hyp}$ (Cosinus von φ)

Die Winkelfunktionen



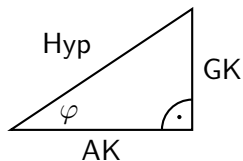
Die Seitenverhältnisse zum Winkel φ werden wie folgt genannt:

- ▶ $\sin(\varphi) = \frac{GK}{Hyp}$ (Sinus von φ)
- ▶ $\cos(\varphi) = \frac{AK}{Hyp}$ (Cosinus von φ)
- ▶ $\tan(\varphi) = \frac{GK}{AK}$ (Tangens von φ)



Die Kehrwerte der Winkelfunktionen sind heute aufgrund der Taschenrechner weniger gebräuchlich:

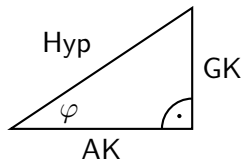
► $\sec(\varphi) = \frac{\text{Hyp}}{\text{GK}}$ (Sekans von φ)



Die Kehrwerte der Winkelfunktionen sind heute aufgrund der Taschenrechner weniger gebräuchlich:

▶ $\sec(\varphi) = \frac{\text{Hyp}}{\text{GK}}$ (Sekans von φ)

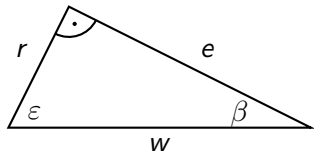
▶ $\csc(\varphi) = \frac{\text{Hyp}}{\text{AK}}$ (Cosekans von φ)



Die Kehrwerte der Winkelfunktionen sind heute aufgrund der Taschenrechner weniger gebräuchlich:

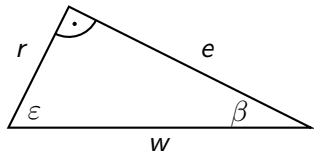
- ▶ $\sec(\varphi) = \frac{\text{Hyp}}{\text{GK}}$ (Sekans von φ)
- ▶ $\csc(\varphi) = \frac{\text{Hyp}}{\text{AK}}$ (Cosekans von φ)
- ▶ $\cot(\varphi) = \frac{\text{AK}}{\text{GK}}$ (Cotangens von φ)

Beispiel 1.3



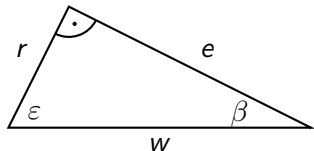
(a) $\sin(\varepsilon) =$

Beispiel 1.3



$$(a) \sin(\varepsilon) = \frac{\text{GK}}{\text{Hyp}} = \frac{e}{w}$$

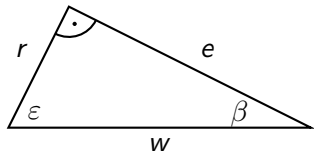
Beispiel 1.3



$$(a) \sin(\varepsilon) = \frac{\text{GK}}{\text{Hyp}} = \frac{e}{w}$$

$$(b) \tan(\beta) =$$

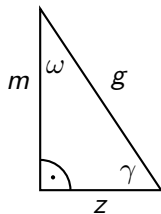
Beispiel 1.3



$$(a) \sin(\varepsilon) = \frac{\text{GK}}{\text{Hyp}} = \frac{e}{w}$$

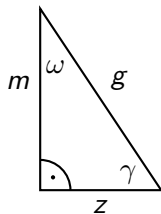
$$(b) \tan(\beta) = \frac{\text{GK}}{\text{AK}} = \frac{r}{e}$$

Beispiel 1.4



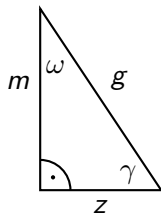
(a) $\tan(\omega) =$

Beispiel 1.4



$$(a) \tan(\omega) = \frac{GK}{AK} = \frac{z}{m}$$

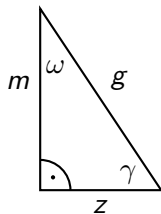
Beispiel 1.4



$$(a) \tan(\omega) = \frac{GK}{AK} = \frac{z}{m}$$

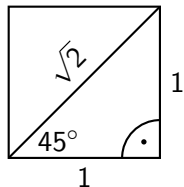
$$(b) \cos(\gamma) =$$

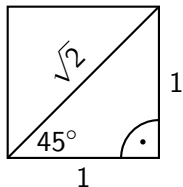
Beispiel 1.4



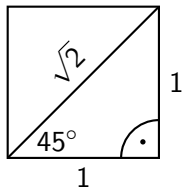
$$(a) \tan(\omega) = \frac{\text{GK}}{\text{AK}} = \frac{z}{m}$$

$$(b) \cos(\gamma) = \frac{\text{GK}}{\text{Hyp}} = \frac{z}{g}$$

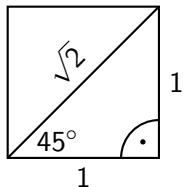
Die Werte der Winkelfunktionen für $\varphi = 45^\circ$ 

Die Werte der Winkelfunktionen für $\varphi = 45^\circ$ 

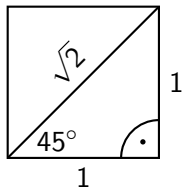
► $\sin(45)^\circ =$

Die Werte der Winkelfunktionen für $\varphi = 45^\circ$ 

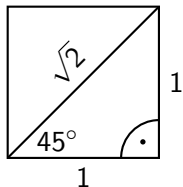
$$\blacktriangleright \sin(45)^\circ = \frac{\text{GK}}{\text{Hyp}}$$

Die Werte der Winkelfunktionen für $\varphi = 45^\circ$ 

$$\blacktriangleright \sin(45)^\circ = \frac{\text{GK}}{\text{Hyp}} = \frac{1}{\sqrt{2}}$$

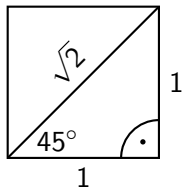
Die Werte der Winkelfunktionen für $\varphi = 45^\circ$ 

$$\blacktriangleright \sin(45)^\circ = \frac{\text{GK}}{\text{Hyp}} = \frac{1}{\sqrt{2}} = \frac{\sqrt{2}}{2}$$

Die Werte der Winkelfunktionen für $\varphi = 45^\circ$ 

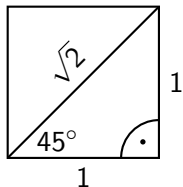
$$\blacktriangleright \sin(45^\circ) = \frac{\text{GK}}{\text{Hyp}} = \frac{1}{\sqrt{2}} = \frac{\sqrt{2}}{2}$$

$$\blacktriangleright \cos(45^\circ) =$$

Die Werte der Winkelfunktionen für $\varphi = 45^\circ$ 

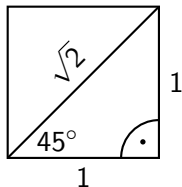
$$\blacktriangleright \sin(45^\circ) = \frac{\text{GK}}{\text{Hyp}} = \frac{1}{\sqrt{2}} = \frac{\sqrt{2}}{2}$$

$$\blacktriangleright \cos(45^\circ) = \frac{\text{AK}}{\text{Hyp}}$$

Die Werte der Winkelfunktionen für $\varphi = 45^\circ$ 

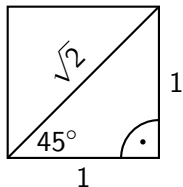
$$\blacktriangleright \sin(45^\circ) = \frac{\text{GK}}{\text{Hyp}} = \frac{1}{\sqrt{2}} = \frac{\sqrt{2}}{2}$$

$$\blacktriangleright \cos(45^\circ) = \frac{\text{AK}}{\text{Hyp}} = \frac{1}{\sqrt{2}}$$

Die Werte der Winkelfunktionen für $\varphi = 45^\circ$ 

$$\blacktriangleright \sin(45^\circ) = \frac{\text{GK}}{\text{Hyp}} = \frac{1}{\sqrt{2}} = \frac{\sqrt{2}}{2}$$

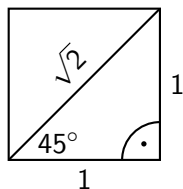
$$\blacktriangleright \cos(45^\circ) = \frac{\text{AK}}{\text{Hyp}} = \frac{1}{\sqrt{2}} = \frac{\sqrt{2}}{2}$$

Die Werte der Winkelfunktionen für $\varphi = 45^\circ$ 

$$\blacktriangleright \sin(45^\circ) = \frac{\text{GK}}{\text{Hyp}} = \frac{1}{\sqrt{2}} = \frac{\sqrt{2}}{2}$$

$$\blacktriangleright \cos(45^\circ) = \frac{\text{AK}}{\text{Hyp}} = \frac{1}{\sqrt{2}} = \frac{\sqrt{2}}{2}$$

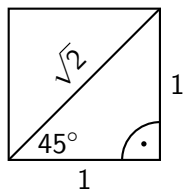
$$\blacktriangleright \tan(45^\circ) =$$

Die Werte der Winkelfunktionen für $\varphi = 45^\circ$ 

$$\blacktriangleright \sin(45^\circ) = \frac{\text{GK}}{\text{Hyp}} = \frac{1}{\sqrt{2}} = \frac{\sqrt{2}}{2}$$

$$\blacktriangleright \cos(45^\circ) = \frac{\text{AK}}{\text{Hyp}} = \frac{1}{\sqrt{2}} = \frac{\sqrt{2}}{2}$$

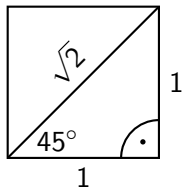
$$\blacktriangleright \tan(45^\circ) = \frac{\text{GK}}{\text{AK}}$$

Die Werte der Winkelfunktionen für $\varphi = 45^\circ$ 

$$\blacktriangleright \sin(45^\circ) = \frac{\text{GK}}{\text{Hyp}} = \frac{1}{\sqrt{2}} = \frac{\sqrt{2}}{2}$$

$$\blacktriangleright \cos(45^\circ) = \frac{\text{AK}}{\text{Hyp}} = \frac{1}{\sqrt{2}} = \frac{\sqrt{2}}{2}$$

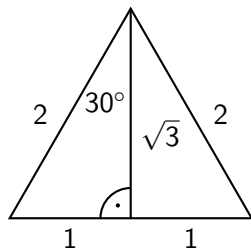
$$\blacktriangleright \tan(45^\circ) = \frac{\text{GK}}{\text{AK}} = \frac{1}{1}$$

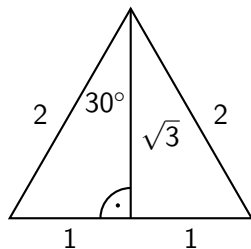
Die Werte der Winkelfunktionen für $\varphi = 45^\circ$ 

$$\blacktriangleright \sin(45^\circ) = \frac{\text{GK}}{\text{Hyp}} = \frac{1}{\sqrt{2}} = \frac{\sqrt{2}}{2}$$

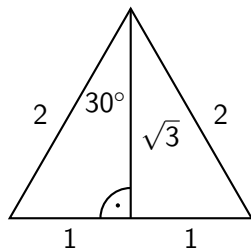
$$\blacktriangleright \cos(45^\circ) = \frac{\text{AK}}{\text{Hyp}} = \frac{1}{\sqrt{2}} = \frac{\sqrt{2}}{2}$$

$$\blacktriangleright \tan(45^\circ) = \frac{\text{GK}}{\text{AK}} = \frac{1}{1} = 1$$

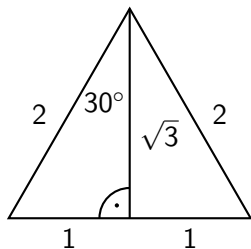
Die Werte der Winkelfunktionen für $\varphi = 30^\circ$ 

Die Werte der Winkelfunktionen für $\varphi = 30^\circ$ 

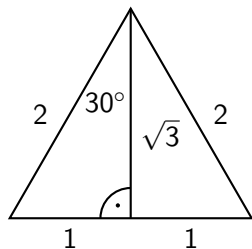
► $\sin(30^\circ) =$

Die Werte der Winkelfunktionen für $\varphi = 30^\circ$ 

$$\blacktriangleright \sin(30^\circ) = \frac{\text{GK}}{\text{Hyp}}$$

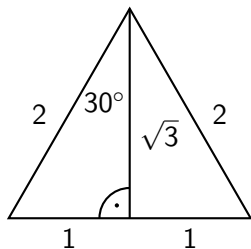
Die Werte der Winkelfunktionen für $\varphi = 30^\circ$ 

$$\blacktriangleright \sin(30^\circ) = \frac{\text{GK}}{\text{Hyp}} = \frac{1}{2}$$

Die Werte der Winkelfunktionen für $\varphi = 30^\circ$ 

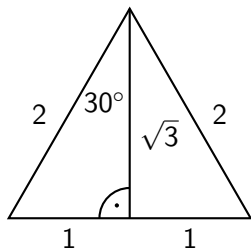
▶ $\sin(30^\circ) = \frac{\text{GK}}{\text{Hyp}} = \frac{1}{2}$

▶ $\cos(30^\circ) =$

Die Werte der Winkelfunktionen für $\varphi = 30^\circ$ 

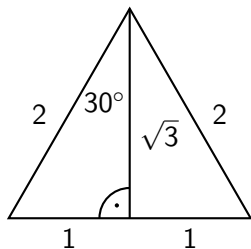
$$\blacktriangleright \sin(30^\circ) = \frac{\text{GK}}{\text{Hyp}} = \frac{1}{2}$$

$$\blacktriangleright \cos(30^\circ) = \frac{\text{AK}}{\text{Hyp}}$$

Die Werte der Winkelfunktionen für $\varphi = 30^\circ$ 

$$\blacktriangleright \sin(30^\circ) = \frac{\text{GK}}{\text{Hyp}} = \frac{1}{2}$$

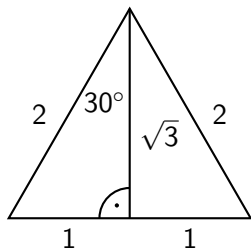
$$\blacktriangleright \cos(30^\circ) = \frac{\text{AK}}{\text{Hyp}} = \frac{\sqrt{3}}{2}$$

Die Werte der Winkelfunktionen für $\varphi = 30^\circ$ 

$$\blacktriangleright \sin(30^\circ) = \frac{\text{GK}}{\text{Hyp}} = \frac{1}{2}$$

$$\blacktriangleright \cos(30^\circ) = \frac{\text{AK}}{\text{Hyp}} = \frac{\sqrt{3}}{2}$$

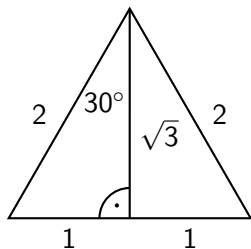
$$\blacktriangleright \tan(30^\circ) =$$

Die Werte der Winkelfunktionen für $\varphi = 30^\circ$ 

$$\blacktriangleright \sin(30^\circ) = \frac{\text{GK}}{\text{Hyp}} = \frac{1}{2}$$

$$\blacktriangleright \cos(30^\circ) = \frac{\text{AK}}{\text{Hyp}} = \frac{\sqrt{3}}{2}$$

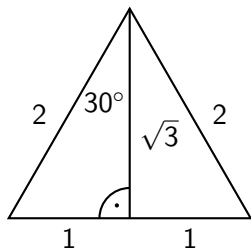
$$\blacktriangleright \tan(30^\circ) = \frac{\text{GK}}{\text{AK}}$$

Die Werte der Winkelfunktionen für $\varphi = 30^\circ$ 

$$\blacktriangleright \sin(30^\circ) = \frac{\text{GK}}{\text{Hyp}} = \frac{1}{2}$$

$$\blacktriangleright \cos(30^\circ) = \frac{\text{AK}}{\text{Hyp}} = \frac{\sqrt{3}}{2}$$

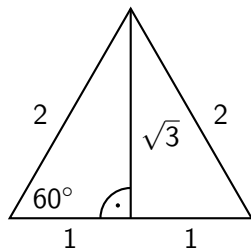
$$\blacktriangleright \tan(30^\circ) = \frac{\text{GK}}{\text{AK}} = \frac{1}{\sqrt{3}}$$

Die Werte der Winkelfunktionen für $\varphi = 30^\circ$ 

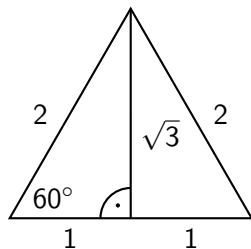
$$\blacktriangleright \sin(30^\circ) = \frac{\text{GK}}{\text{Hyp}} = \frac{1}{2}$$

$$\blacktriangleright \cos(30^\circ) = \frac{\text{AK}}{\text{Hyp}} = \frac{\sqrt{3}}{2}$$

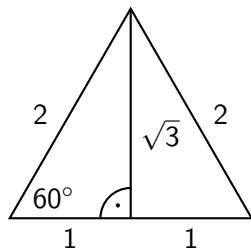
$$\blacktriangleright \tan(30^\circ) = \frac{\text{GK}}{\text{AK}} = \frac{1}{\sqrt{3}} = \frac{\sqrt{3}}{3}$$

Die Werte der Winkelfunktionen für $\varphi = 60^\circ$ 

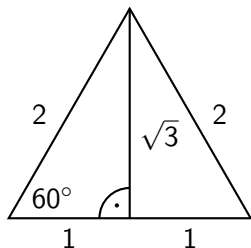
► $\sin(60^\circ) =$

Die Werte der Winkelfunktionen für $\varphi = 60^\circ$ 

$$\blacktriangleright \sin(60^\circ) = \frac{\text{GK}}{\text{Hyp}}$$

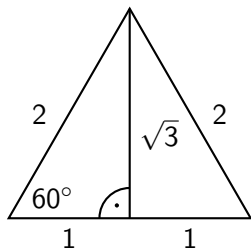
Die Werte der Winkelfunktionen für $\varphi = 60^\circ$ 

$$\blacktriangleright \sin(60^\circ) = \frac{\text{GK}}{\text{Hyp}} = \frac{\sqrt{3}}{2}$$

Die Werte der Winkelfunktionen für $\varphi = 60^\circ$ 

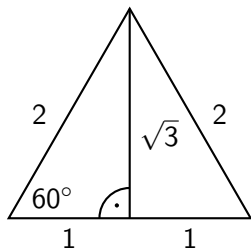
$$\blacktriangleright \sin(60^\circ) = \frac{\text{GK}}{\text{Hyp}} = \frac{\sqrt{3}}{2}$$

$$\blacktriangleright \cos(60^\circ) =$$

Die Werte der Winkelfunktionen für $\varphi = 60^\circ$ 

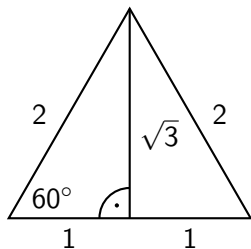
$$\blacktriangleright \sin(60^\circ) = \frac{\text{GK}}{\text{Hyp}} = \frac{\sqrt{3}}{2}$$

$$\blacktriangleright \cos(60^\circ) = \frac{\text{AK}}{\text{Hyp}}$$

Die Werte der Winkelfunktionen für $\varphi = 60^\circ$ 

$$\blacktriangleright \sin(60^\circ) = \frac{\text{GK}}{\text{Hyp}} = \frac{\sqrt{3}}{2}$$

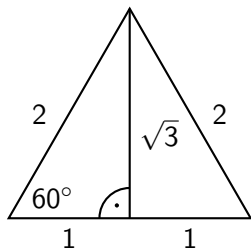
$$\blacktriangleright \cos(60^\circ) = \frac{\text{AK}}{\text{Hyp}} = \frac{1}{2}$$

Die Werte der Winkelfunktionen für $\varphi = 60^\circ$ 

$$\blacktriangleright \sin(60^\circ) = \frac{\text{GK}}{\text{Hyp}} = \frac{\sqrt{3}}{2}$$

$$\blacktriangleright \cos(60^\circ) = \frac{\text{AK}}{\text{Hyp}} = \frac{1}{2}$$

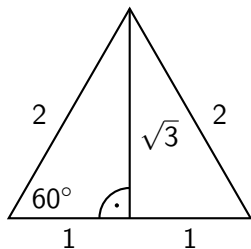
$$\blacktriangleright \tan(60^\circ) =$$

Die Werte der Winkelfunktionen für $\varphi = 60^\circ$ 

$$\blacktriangleright \sin(60^\circ) = \frac{\text{GK}}{\text{Hyp}} = \frac{\sqrt{3}}{2}$$

$$\blacktriangleright \cos(60^\circ) = \frac{\text{AK}}{\text{Hyp}} = \frac{1}{2}$$

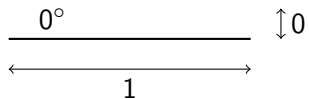
$$\blacktriangleright \tan(60^\circ) = \frac{\text{GK}}{\text{AK}}$$

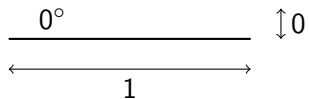
Die Werte der Winkelfunktionen für $\varphi = 60^\circ$ 

$$\blacktriangleright \sin(60^\circ) = \frac{\text{GK}}{\text{Hyp}} = \frac{\sqrt{3}}{2}$$

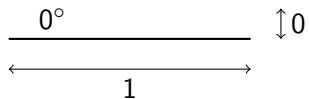
$$\blacktriangleright \cos(60^\circ) = \frac{\text{AK}}{\text{Hyp}} = \frac{1}{2}$$

$$\blacktriangleright \tan(60^\circ) = \frac{\text{GK}}{\text{AK}} = \frac{\sqrt{3}}{1} = \sqrt{3}$$

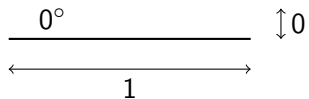
Die Werte der Winkelfunktionen für $\varphi = 0^\circ$ 

Die Werte der Winkelfunktionen für $\varphi = 0^\circ$ 

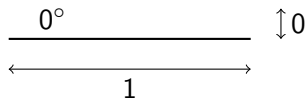
► $\sin(0^\circ) =$

Die Werte der Winkelfunktionen für $\varphi = 0^\circ$ 

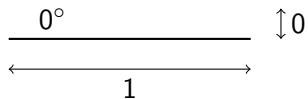
$$\blacktriangleright \sin(0^\circ) = \frac{\text{GK}}{\text{Hyp}}$$

Die Werte der Winkelfunktionen für $\varphi = 0^\circ$ 

$$\blacktriangleright \sin(0^\circ) = \frac{\text{GK}}{\text{Hyp}} = \frac{0}{1}$$

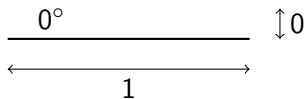
Die Werte der Winkelfunktionen für $\varphi = 0^\circ$ 

$$\blacktriangleright \sin(0^\circ) = \frac{\text{GK}}{\text{Hyp}} = \frac{0}{1} = 0$$

Die Werte der Winkelfunktionen für $\varphi = 0^\circ$ 

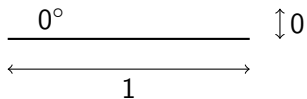
$$\blacktriangleright \sin(0^\circ) = \frac{\text{GK}}{\text{Hyp}} = \frac{0}{1} = 0$$

$$\blacktriangleright \cos(0^\circ) =$$

Die Werte der Winkelfunktionen für $\varphi = 0^\circ$ 

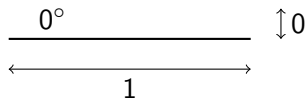
$$\blacktriangleright \sin(0^\circ) = \frac{\text{GK}}{\text{Hyp}} = \frac{0}{1} = 0$$

$$\blacktriangleright \cos(0^\circ) = \frac{\text{AK}}{\text{Hyp}}$$

Die Werte der Winkelfunktionen für $\varphi = 0^\circ$ 

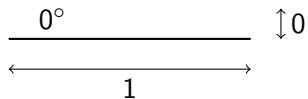
$$\blacktriangleright \sin(0^\circ) = \frac{\text{GK}}{\text{Hyp}} = \frac{0}{1} = 0$$

$$\blacktriangleright \cos(0^\circ) = \frac{\text{AK}}{\text{Hyp}} = \frac{1}{1}$$

Die Werte der Winkelfunktionen für $\varphi = 0^\circ$ 

$$\blacktriangleright \sin(0^\circ) = \frac{\text{GK}}{\text{Hyp}} = \frac{0}{1} = 0$$

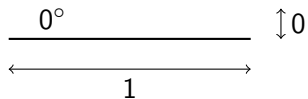
$$\blacktriangleright \cos(0^\circ) = \frac{\text{AK}}{\text{Hyp}} = \frac{1}{1} = 1$$

Die Werte der Winkelfunktionen für $\varphi = 0^\circ$ 

$$\blacktriangleright \sin(0^\circ) = \frac{\text{GK}}{\text{Hyp}} = \frac{0}{1} = 0$$

$$\blacktriangleright \cos(0^\circ) = \frac{\text{AK}}{\text{Hyp}} = \frac{1}{1} = 1$$

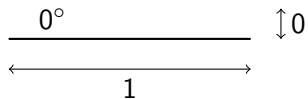
$$\blacktriangleright \tan(0^\circ) =$$

Die Werte der Winkelfunktionen für $\varphi = 0^\circ$ 

$$\blacktriangleright \sin(0^\circ) = \frac{\text{GK}}{\text{Hyp}} = \frac{0}{1} = 0$$

$$\blacktriangleright \cos(0^\circ) = \frac{\text{AK}}{\text{Hyp}} = \frac{1}{1} = 1$$

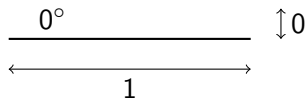
$$\blacktriangleright \tan(0^\circ) = \frac{\text{GK}}{\text{AK}}$$

Die Werte der Winkelfunktionen für $\varphi = 0^\circ$ 

$$\blacktriangleright \sin(0^\circ) = \frac{\text{GK}}{\text{Hyp}} = \frac{0}{1} = 0$$

$$\blacktriangleright \cos(0^\circ) = \frac{\text{AK}}{\text{Hyp}} = \frac{1}{1} = 1$$

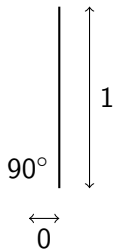
$$\blacktriangleright \tan(0^\circ) = \frac{\text{GK}}{\text{AK}} = \frac{0}{1}$$

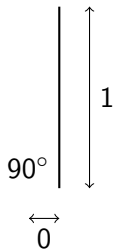
Die Werte der Winkelfunktionen für $\varphi = 0^\circ$ 

$$\blacktriangleright \sin(0^\circ) = \frac{\text{GK}}{\text{Hyp}} = \frac{0}{1} = 0$$

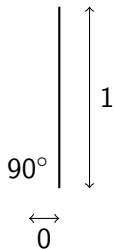
$$\blacktriangleright \cos(0^\circ) = \frac{\text{AK}}{\text{Hyp}} = \frac{1}{1} = 1$$

$$\blacktriangleright \tan(0^\circ) = \frac{\text{GK}}{\text{AK}} = \frac{0}{1} = 0$$

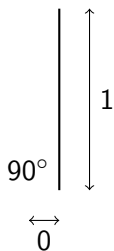
Die Werte der Winkelfunktionen für $\varphi = 90^\circ$ 

Die Werte der Winkelfunktionen für $\varphi = 90^\circ$ 

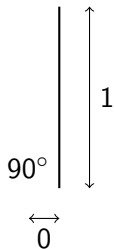
► $\sin(90^\circ) =$

Die Werte der Winkelfunktionen für $\varphi = 90^\circ$ 

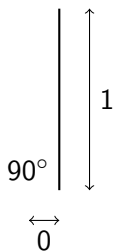
$$\blacktriangleright \sin(90^\circ) = \frac{\text{GK}}{\text{Hyp}}$$

Die Werte der Winkelfunktionen für $\varphi = 90^\circ$ 

$$\blacktriangleright \sin(90^\circ) = \frac{\text{GK}}{\text{Hyp}} = \frac{1}{1}$$

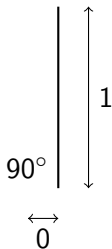
Die Werte der Winkelfunktionen für $\varphi = 90^\circ$ 

$$\blacktriangleright \sin(90^\circ) = \frac{\text{GK}}{\text{Hyp}} = \frac{1}{1} = 1$$

Die Werte der Winkelfunktionen für $\varphi = 90^\circ$ 

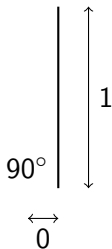
$$\blacktriangleright \sin(90^\circ) = \frac{\text{GK}}{\text{Hyp}} = \frac{1}{1} = 1$$

$$\blacktriangleright \cos(90^\circ) =$$

Die Werte der Winkelfunktionen für $\varphi = 90^\circ$ 

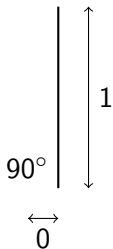
$$\blacktriangleright \sin(90^\circ) = \frac{\text{GK}}{\text{Hyp}} = \frac{1}{1} = 1$$

$$\blacktriangleright \cos(90^\circ) = \frac{\text{AK}}{\text{Hyp}}$$

Die Werte der Winkelfunktionen für $\varphi = 90^\circ$ 

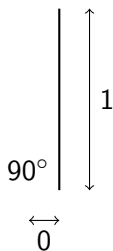
$$\blacktriangleright \sin(90^\circ) = \frac{\text{GK}}{\text{Hyp}} = \frac{1}{1} = 1$$

$$\blacktriangleright \cos(90^\circ) = \frac{\text{AK}}{\text{Hyp}} = \frac{0}{1}$$

Die Werte der Winkelfunktionen für $\varphi = 90^\circ$ 

$$\blacktriangleright \sin(90^\circ) = \frac{\text{GK}}{\text{Hyp}} = \frac{1}{1} = 1$$

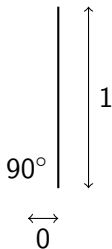
$$\blacktriangleright \cos(90^\circ) = \frac{\text{AK}}{\text{Hyp}} = \frac{0}{1} = 0$$

Die Werte der Winkelfunktionen für $\varphi = 90^\circ$ 

$$\blacktriangleright \sin(90^\circ) = \frac{\text{GK}}{\text{Hyp}} = \frac{1}{1} = 1$$

$$\blacktriangleright \cos(90^\circ) = \frac{\text{AK}}{\text{Hyp}} = \frac{0}{1} = 0$$

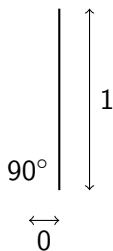
$$\blacktriangleright \tan(90^\circ) =$$

Die Werte der Winkelfunktionen für $\varphi = 90^\circ$ 

$$\blacktriangleright \sin(90^\circ) = \frac{\text{GK}}{\text{Hyp}} = \frac{1}{1} = 1$$

$$\blacktriangleright \cos(90^\circ) = \frac{\text{AK}}{\text{Hyp}} = \frac{0}{1} = 0$$

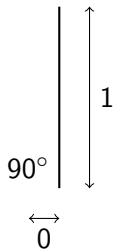
$$\blacktriangleright \tan(90^\circ) = \frac{\text{GK}}{\text{AK}}$$

Die Werte der Winkelfunktionen für $\varphi = 90^\circ$ 

$$\blacktriangleright \sin(90^\circ) = \frac{\text{GK}}{\text{Hyp}} = \frac{1}{1} = 1$$

$$\blacktriangleright \cos(90^\circ) = \frac{\text{AK}}{\text{Hyp}} = \frac{0}{1} = 0$$

$$\blacktriangleright \tan(90^\circ) = \frac{\text{GK}}{\text{AK}} = \frac{1}{0}$$

Die Werte der Winkelfunktionen für $\varphi = 90^\circ$ 

$$\blacktriangleright \sin(90^\circ) = \frac{\text{GK}}{\text{Hyp}} = \frac{1}{1} = 1$$

$$\blacktriangleright \cos(90^\circ) = \frac{\text{AK}}{\text{Hyp}} = \frac{0}{1} = 0$$

$$\blacktriangleright \tan(90^\circ) = \frac{\text{GK}}{\text{AK}} = \frac{1}{0} \quad \text{nicht definiert}$$

Zusammenfassung

φ	$\sin(\varphi)$	$\cos(\varphi)$	$\tan(\varphi)$
0°			
30°			
45°			
60°			
90°			

Zusammenfassung

φ	$\sin(\varphi)$	$\cos(\varphi)$	$\tan(\varphi)$
0°	0		
30°			
45°			
60°			
90°			

Zusammenfassung

φ	$\sin(\varphi)$	$\cos(\varphi)$	$\tan(\varphi)$
0°	0	1	
30°			
45°			
60°			
90°			

Zusammenfassung

φ	$\sin(\varphi)$	$\cos(\varphi)$	$\tan(\varphi)$
0°	0	1	0
30°			
45°			
60°			
90°			

Zusammenfassung

φ	$\sin(\varphi)$	$\cos(\varphi)$	$\tan(\varphi)$
0°	0	1	0
30°	$1/2$		
45°			
60°			
90°			

Zusammenfassung

φ	$\sin(\varphi)$	$\cos(\varphi)$	$\tan(\varphi)$
0°	0	1	0
30°	$1/2$	$\sqrt{3}/2$	
45°			
60°			
90°			

Zusammenfassung

φ	$\sin(\varphi)$	$\cos(\varphi)$	$\tan(\varphi)$
0°	0	1	0
30°	$1/2$	$\sqrt{3}/2$	$\sqrt{3}/3$
45°			
60°			
90°			

Zusammenfassung

φ	$\sin(\varphi)$	$\cos(\varphi)$	$\tan(\varphi)$
0°	0	1	0
30°	$1/2$	$\sqrt{3}/2$	$\sqrt{3}/3$
45°	$\sqrt{2}/2$		
60°			
90°			

Zusammenfassung

φ	$\sin(\varphi)$	$\cos(\varphi)$	$\tan(\varphi)$
0°	0	1	0
30°	$1/2$	$\sqrt{3}/2$	$\sqrt{3}/3$
45°	$\sqrt{2}/2$	$\sqrt{2}/2$	
60°			
90°			

Zusammenfassung

φ	$\sin(\varphi)$	$\cos(\varphi)$	$\tan(\varphi)$
0°	0	1	0
30°	$1/2$	$\sqrt{3}/2$	$\sqrt{3}/3$
45°	$\sqrt{2}/2$	$\sqrt{2}/2$	1
60°			
90°			

Zusammenfassung

φ	$\sin(\varphi)$	$\cos(\varphi)$	$\tan(\varphi)$
0°	0	1	0
30°	$1/2$	$\sqrt{3}/2$	$\sqrt{3}/3$
45°	$\sqrt{2}/2$	$\sqrt{2}/2$	1
60°	$\sqrt{3}/2$		
90°			

Zusammenfassung

φ	$\sin(\varphi)$	$\cos(\varphi)$	$\tan(\varphi)$
0°	0	1	0
30°	$1/2$	$\sqrt{3}/2$	$\sqrt{3}/3$
45°	$\sqrt{2}/2$	$\sqrt{2}/2$	1
60°	$\sqrt{3}/2$	$1/2$	
90°			

Zusammenfassung

φ	$\sin(\varphi)$	$\cos(\varphi)$	$\tan(\varphi)$
0°	0	1	0
30°	$1/2$	$\sqrt{3}/2$	$\sqrt{3}/3$
45°	$\sqrt{2}/2$	$\sqrt{2}/2$	1
60°	$\sqrt{3}/2$	$1/2$	$\sqrt{3}$
90°			

Zusammenfassung

φ	$\sin(\varphi)$	$\cos(\varphi)$	$\tan(\varphi)$
0°	0	1	0
30°	$1/2$	$\sqrt{3}/2$	$\sqrt{3}/3$
45°	$\sqrt{2}/2$	$\sqrt{2}/2$	1
60°	$\sqrt{3}/2$	$1/2$	$\sqrt{3}$
90°	1		

Zusammenfassung

φ	$\sin(\varphi)$	$\cos(\varphi)$	$\tan(\varphi)$
0°	0	1	0
30°	$1/2$	$\sqrt{3}/2$	$\sqrt{3}/3$
45°	$\sqrt{2}/2$	$\sqrt{2}/2$	1
60°	$\sqrt{3}/2$	$1/2$	$\sqrt{3}$
90°	1	0	

Zusammenfassung

φ	$\sin(\varphi)$	$\cos(\varphi)$	$\tan(\varphi)$
0°	0	1	0
30°	$1/2$	$\sqrt{3}/2$	$\sqrt{3}/3$
45°	$\sqrt{2}/2$	$\sqrt{2}/2$	1
60°	$\sqrt{3}/2$	$1/2$	$\sqrt{3}$
90°	1	0	—

Merkhilfe

φ	$\sin(\varphi)$	$\cos(\varphi)$	$\tan(\varphi)$
0°			
30°			
45°			
60°			
90°			

Merkhilfe

φ	$\sin(\varphi)$	$\cos(\varphi)$	$\tan(\varphi)$
0°	$\sqrt{0}/2$		
30°			
45°			
60°			
90°			

Merkhilfe

φ	$\sin(\varphi)$	$\cos(\varphi)$	$\tan(\varphi)$
0°	$\sqrt{0}/2$		
30°	$\sqrt{1}/2$		
45°			
60°			
90°			

Merkhilfe

φ	$\sin(\varphi)$	$\cos(\varphi)$	$\tan(\varphi)$
0°	$\sqrt{0}/2$		
30°	$\sqrt{1}/2$		
45°	$\sqrt{2}/2$		
60°			
90°			

Merkhilfe

φ	$\sin(\varphi)$	$\cos(\varphi)$	$\tan(\varphi)$
0°	$\sqrt{0}/2$		
30°	$\sqrt{1}/2$		
45°	$\sqrt{2}/2$		
60°	$\sqrt{3}/2$		
90°			

Merkhilfe

φ	$\sin(\varphi)$	$\cos(\varphi)$	$\tan(\varphi)$
0°	$\sqrt{0}/2$		
30°	$\sqrt{1}/2$		
45°	$\sqrt{2}/2$		
60°	$\sqrt{3}/2$		
90°	$\sqrt{4}/2$		

Merkhilfe

φ	$\sin(\varphi)$	$\cos(\varphi)$	$\tan(\varphi)$
0°	$\sqrt{0}/2$	$\sqrt{4}/2$	
30°	$\sqrt{1}/2$		
45°	$\sqrt{2}/2$		
60°	$\sqrt{3}/2$		
90°	$\sqrt{4}/2$		

Merkhilfe

φ	$\sin(\varphi)$	$\cos(\varphi)$	$\tan(\varphi)$
0°	$\sqrt{0}/2$	$\sqrt{4}/2$	
30°	$\sqrt{1}/2$	$\sqrt{3}/2$	
45°	$\sqrt{2}/2$		
60°	$\sqrt{3}/2$		
90°	$\sqrt{4}/2$		

Merkhilfe

φ	$\sin(\varphi)$	$\cos(\varphi)$	$\tan(\varphi)$
0°	$\sqrt{0}/2$	$\sqrt{4}/2$	
30°	$\sqrt{1}/2$	$\sqrt{3}/2$	
45°	$\sqrt{2}/2$	$\sqrt{2}/2$	
60°	$\sqrt{3}/2$		
90°	$\sqrt{4}/2$		

Merkhilfe

φ	$\sin(\varphi)$	$\cos(\varphi)$	$\tan(\varphi)$
0°	$\sqrt{0}/2$	$\sqrt{4}/2$	
30°	$\sqrt{1}/2$	$\sqrt{3}/2$	
45°	$\sqrt{2}/2$	$\sqrt{2}/2$	
60°	$\sqrt{3}/2$	$\sqrt{1}/2$	
90°	$\sqrt{4}/2$		

Merkhilfe

φ	$\sin(\varphi)$	$\cos(\varphi)$	$\tan(\varphi)$
0°	$\sqrt{0}/2$	$\sqrt{4}/2$	
30°	$\sqrt{1}/2$	$\sqrt{3}/2$	
45°	$\sqrt{2}/2$	$\sqrt{2}/2$	
60°	$\sqrt{3}/2$	$\sqrt{1}/2$	
90°	$\sqrt{4}/2$	$\sqrt{0}/2$	

Merkhilfe

φ	$\sin(\varphi)$	$\cos(\varphi)$	$\tan(\varphi)$
0°	$\sqrt{0}/2$	$\sqrt{4}/2$	$\sqrt{0}/3$
30°	$\sqrt{1}/2$	$\sqrt{3}/2$	
45°	$\sqrt{2}/2$	$\sqrt{2}/2$	
60°	$\sqrt{3}/2$	$\sqrt{1}/2$	
90°	$\sqrt{4}/2$	$\sqrt{0}/2$	

Merkhilfe

φ	$\sin(\varphi)$	$\cos(\varphi)$	$\tan(\varphi)$
0°	$\sqrt{0}/2$	$\sqrt{4}/2$	$\sqrt{0}/3$
30°	$\sqrt{1}/2$	$\sqrt{3}/2$	$\sqrt{3}/3$
45°	$\sqrt{2}/2$	$\sqrt{2}/2$	
60°	$\sqrt{3}/2$	$\sqrt{1}/2$	
90°	$\sqrt{4}/2$	$\sqrt{0}/2$	

Merkhilfe

φ	$\sin(\varphi)$	$\cos(\varphi)$	$\tan(\varphi)$
0°	$\sqrt{0}/2$	$\sqrt{4}/2$	$\sqrt{0}/3$
30°	$\sqrt{1}/2$	$\sqrt{3}/2$	$\sqrt{3}/3$
45°	$\sqrt{2}/2$	$\sqrt{2}/2$	$\sqrt{9}/3$
60°	$\sqrt{3}/2$	$\sqrt{1}/2$	
90°	$\sqrt{4}/2$	$\sqrt{0}/2$	

Merkhilfe

φ	$\sin(\varphi)$	$\cos(\varphi)$	$\tan(\varphi)$
0°	$\sqrt{0}/2$	$\sqrt{4}/2$	$\sqrt{0}/3$
30°	$\sqrt{1}/2$	$\sqrt{3}/2$	$\sqrt{3}/3$
45°	$\sqrt{2}/2$	$\sqrt{2}/2$	$\sqrt{9}/3$
60°	$\sqrt{3}/2$	$\sqrt{1}/2$	$\sqrt{27}/3$
90°	$\sqrt{4}/2$	$\sqrt{0}/2$	

Merkhilfe

φ	$\sin(\varphi)$	$\cos(\varphi)$	$\tan(\varphi)$
0°	$\sqrt{0}/2$	$\sqrt{4}/2$	$\sqrt{0}/3$
30°	$\sqrt{1}/2$	$\sqrt{3}/2$	$\sqrt{3}/3$
45°	$\sqrt{2}/2$	$\sqrt{2}/2$	$\sqrt{9}/3$
60°	$\sqrt{3}/2$	$\sqrt{1}/2$	$\sqrt{27}/3$
90°	$\sqrt{4}/2$	$\sqrt{0}/2$	—

Die Werte der übrigen Winkel

Es gibt noch weitere Winkel, für die sich die Werte der Winkelfunktionen mit Hilfe zusätzlicher Beziehungen exakt berechnen lassen.

Die Werte der übrigen Winkel

Es gibt noch weitere Winkel, für die sich die Werte der Winkelfunktionen mit Hilfe zusätzlicher Beziehungen exakt berechnen lassen.

Die Ausdrücke dafür werden aber immer komplizierter.

Die Werte der übrigen Winkel

Es gibt noch weitere Winkel, für die sich die Werte der Winkelfunktionen mit Hilfe zusätzlicher Beziehungen exakt berechnen lassen.

Die Ausdrücke dafür werden aber immer komplizierter.

Beispiel: $\cos(15^\circ) = \frac{\sqrt{6} + \sqrt{2}}{4}$

Die Werte der übrigen Winkel

Es gibt noch weitere Winkel, für die sich die Werte der Winkelfunktionen mit Hilfe zusätzlicher Beziehungen exakt berechnen lassen.

Die Ausdrücke dafür werden aber immer komplizierter.

$$\text{Beispiel: } \cos(15^\circ) = \frac{\sqrt{6} + \sqrt{2}}{4}$$

Im Allgemeinen es jedoch nicht möglich, für jeden Winkel φ einen exakten Ausdruck der obigen Form zu finden. Stattdessen verwendet man Näherungswerte, den man von einem Taschenrechner oder aus Tabellen erhält.

TI-84+

Mit den Tasten $\boxed{\sin}$, $\boxed{\cos}$ und $\boxed{\tan}$ wird aus dem eingegebenen Winkel φ das zugehörige Seitenverhältnis berechnet.

TI-84+

Mit den Tasten \sin , \cos und \tan wird aus dem eingegebenen Winkel φ das zugehörige Seitenverhältnis berechnet.

Vorsicht: In der Status-Zeile steht, wie der Taschenrechner eingegebenen Winkel interpretiert (Degree oder Radian). Falls nötig, muss man diese Einstellung vor der Berechnung im Mode-Menü ändern.

Mit den Tastenkombinationen $\boxed{2\text{nd}}$ $[\sin^{-1}]$, $\boxed{2\text{nd}}$ $[\cos^{-1}]$ und $\boxed{2\text{nd}}$ $[\tan^{-1}]$ wird aus dem jeweiligen Seitenverhältnis der entsprechende Winkel berechnet.

Mit den Tastenkombinationen $\boxed{2\text{nd}}$ $[\sin^{-1}]$, $\boxed{2\text{nd}}$ $[\cos^{-1}]$ und $\boxed{2\text{nd}}$ $[\tan^{-1}]$ wird aus dem jeweiligen Seitenverhältnis der entsprechende Winkel berechnet.

Vorsicht: In der Status-Zeile steht, wie die Winkel-Ausgabe zu interpretieren ist (Degree oder Radian). Falls nötig, muss man diese Einstellung vor der Berechnung im Mode-Menü ändern.

Die Winkelfunktionen und ihre Umkehrfunktionen

$$\varphi \quad \begin{array}{c} \xrightarrow{\cos(\varphi) = x} \\ \xleftarrow{\arccos(x) = \varphi} \end{array} \quad x = \frac{\text{AK}}{\text{Hyp}}$$

$$\varphi \quad \begin{array}{c} \xrightarrow{\sin(\varphi) = y} \\ \xleftarrow{\arcsin(y) = \varphi} \end{array} \quad y = \frac{\text{GK}}{\text{Hyp}}$$

$$\varphi \quad \begin{array}{c} \xrightarrow{\tan(\varphi) = z} \\ \xleftarrow{\arctan(z) = \varphi} \end{array} \quad z = \frac{\text{GK}}{\text{AK}}$$

Beispiel 2.1

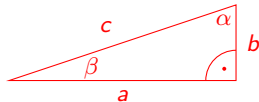
Gegeben: $\alpha = 38^\circ$, $\gamma = 90^\circ$, $c = 7 \text{ cm}$

Gesucht: β , a , b

Beispiel 2.1

Gegeben: $\alpha = 38^\circ$, $\gamma = 90^\circ$, $c = 7 \text{ cm}$

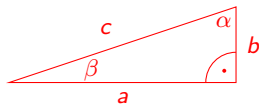
Gesucht: β , a , b



Beispiel 2.1

Gegeben: $\alpha = 38^\circ$, $\gamma = 90^\circ$, $c = 7 \text{ cm}$

Gesucht: β , a , b

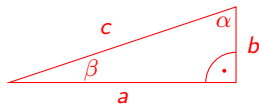


β

Beispiel 2.1

Gegeben: $\alpha = 38^\circ$, $\gamma = 90^\circ$, $c = 7 \text{ cm}$

Gesucht: β , a , b

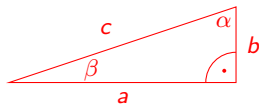


$$\beta = 90^\circ - \alpha$$

Beispiel 2.1

Gegeben: $\alpha = 38^\circ$, $\gamma = 90^\circ$, $c = 7 \text{ cm}$

Gesucht: β , a , b

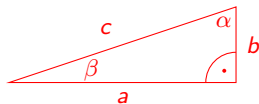


$$\beta = 90^\circ - \alpha = 52^\circ$$

Beispiel 2.1

Gegeben: $\alpha = 38^\circ$, $\gamma = 90^\circ$, $c = 7 \text{ cm}$

Gesucht: β , a , b



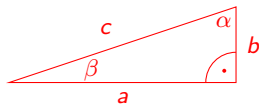
$$\beta = 90^\circ - \alpha = 52^\circ$$

$$\frac{b}{c} = \cos(\alpha)$$

Beispiel 2.1

Gegeben: $\alpha = 38^\circ$, $\gamma = 90^\circ$, $c = 7 \text{ cm}$

Gesucht: β , a , b



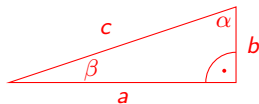
$$\beta = 90^\circ - \alpha = 52^\circ$$

$$\frac{b}{c} = \cos(\alpha) \quad \Rightarrow \quad b$$

Beispiel 2.1

Gegeben: $\alpha = 38^\circ$, $\gamma = 90^\circ$, $c = 7 \text{ cm}$

Gesucht: β , a , b



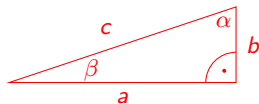
$$\beta = 90^\circ - \alpha = 52^\circ$$

$$\frac{b}{c} = \cos(\alpha) \quad \Rightarrow \quad b = c \cdot \cos \alpha$$

Beispiel 2.1

Gegeben: $\alpha = 38^\circ$, $\gamma = 90^\circ$, $c = 7 \text{ cm}$

Gesucht: β , a , b



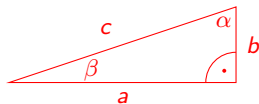
$$\beta = 90^\circ - \alpha = 52^\circ$$

$$\frac{b}{c} = \cos(\alpha) \quad \Rightarrow \quad b = c \cdot \cos \alpha = 7 \cdot \cos(38^\circ)$$

Beispiel 2.1

Gegeben: $\alpha = 38^\circ$, $\gamma = 90^\circ$, $c = 7 \text{ cm}$

Gesucht: β , a , b



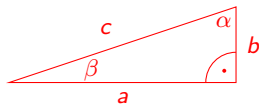
$$\beta = 90^\circ - \alpha = 52^\circ$$

$$\frac{b}{c} = \cos(\alpha) \quad \Rightarrow \quad b = c \cdot \cos \alpha = 7 \cdot \cos(38^\circ) \approx 5.516 \text{ cm}$$

Beispiel 2.1

Gegeben: $\alpha = 38^\circ$, $\gamma = 90^\circ$, $c = 7 \text{ cm}$

Gesucht: β , a , b



$$\beta = 90^\circ - \alpha = 52^\circ$$

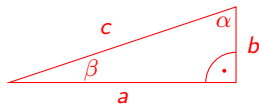
$$\frac{b}{c} = \cos(\alpha) \quad \Rightarrow \quad b = c \cdot \cos \alpha = 7 \cdot \cos(38^\circ) \approx 5.516 \text{ cm}$$

$$\frac{a}{c}$$

Beispiel 2.1

Gegeben: $\alpha = 38^\circ$, $\gamma = 90^\circ$, $c = 7 \text{ cm}$

Gesucht: β , a , b



$$\beta = 90^\circ - \alpha = 52^\circ$$

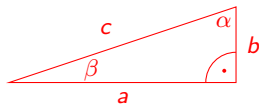
$$\frac{b}{c} = \cos(\alpha) \quad \Rightarrow \quad b = c \cdot \cos \alpha = 7 \cdot \cos(38^\circ) \approx 5.516 \text{ cm}$$

$$\frac{a}{c} = \sin(\alpha)$$

Beispiel 2.1

Gegeben: $\alpha = 38^\circ$, $\gamma = 90^\circ$, $c = 7 \text{ cm}$

Gesucht: β , a , b



$$\beta = 90^\circ - \alpha = 52^\circ$$

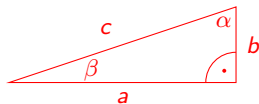
$$\frac{b}{c} = \cos(\alpha) \quad \Rightarrow \quad b = c \cdot \cos \alpha = 7 \cdot \cos(38^\circ) \approx 5.516 \text{ cm}$$

$$\frac{a}{c} = \sin(\alpha) \quad \Rightarrow \quad a = c \cdot \sin(\alpha)$$

Beispiel 2.1

Gegeben: $\alpha = 38^\circ$, $\gamma = 90^\circ$, $c = 7 \text{ cm}$

Gesucht: β , a , b



$$\beta = 90^\circ - \alpha = 52^\circ$$

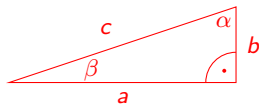
$$\frac{b}{c} = \cos(\alpha) \quad \Rightarrow \quad b = c \cdot \cos \alpha = 7 \cdot \cos(38^\circ) \approx 5.516 \text{ cm}$$

$$\frac{a}{c} = \sin(\alpha) \quad \Rightarrow \quad a = c \cdot \sin(\alpha) = 7 \cdot \sin(38^\circ)$$

Beispiel 2.1

Gegeben: $\alpha = 38^\circ$, $\gamma = 90^\circ$, $c = 7 \text{ cm}$

Gesucht: β , a , b



$$\beta = 90^\circ - \alpha = 52^\circ$$

$$\frac{b}{c} = \cos(\alpha) \quad \Rightarrow \quad b = c \cdot \cos \alpha = 7 \cdot \cos(38^\circ) \approx 5.516 \text{ cm}$$

$$\frac{a}{c} = \sin(\alpha) \quad \Rightarrow \quad a = c \cdot \sin(\alpha) = 7 \cdot \sin(38^\circ) \approx 4.310 \text{ cm}$$

Beispiel 2.2

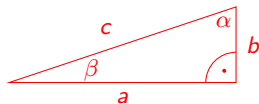
Gegeben: $\gamma = 90^\circ$, $b = 5\text{cm}$, $c = 8\text{cm}$

Gesucht: a , α , β

Beispiel 2.2

Gegeben: $\gamma = 90^\circ$, $b = 5\text{cm}$, $c = 8\text{cm}$

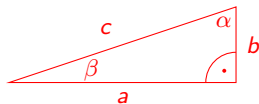
Gesucht: a , α , β



Beispiel 2.2

Gegeben: $\gamma = 90^\circ$, $b = 5\text{cm}$, $c = 8\text{cm}$

Gesucht: a , α , β

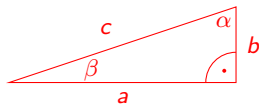


$$a = \sqrt{c^2 - b^2}$$

Beispiel 2.2

Gegeben: $\gamma = 90^\circ$, $b = 5\text{cm}$, $c = 8\text{cm}$

Gesucht: a , α , β

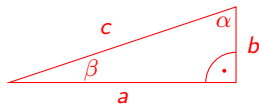


$$a = \sqrt{c^2 - b^2} = \sqrt{64 - 25}$$

Beispiel 2.2

Gegeben: $\gamma = 90^\circ$, $b = 5\text{cm}$, $c = 8\text{cm}$

Gesucht: a , α , β

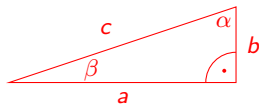


$$a = \sqrt{c^2 - b^2} = \sqrt{64 - 25} = \sqrt{39}$$

Beispiel 2.2

Gegeben: $\gamma = 90^\circ$, $b = 5\text{cm}$, $c = 8\text{cm}$

Gesucht: a , α , β

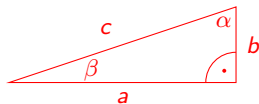


$$a = \sqrt{c^2 - b^2} = \sqrt{64 - 25} = \sqrt{39} \approx 6.245 \text{ cm}$$

Beispiel 2.2

Gegeben: $\gamma = 90^\circ$, $b = 5\text{cm}$, $c = 8\text{cm}$

Gesucht: a , α , β



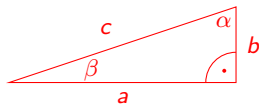
$$a = \sqrt{c^2 - b^2} = \sqrt{64 - 25} = \sqrt{39} \approx 6.245 \text{ cm}$$

$$\cos(\alpha) = \frac{b}{c}$$

Beispiel 2.2

Gegeben: $\gamma = 90^\circ$, $b = 5\text{cm}$, $c = 8\text{cm}$

Gesucht: a , α , β



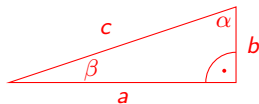
$$a = \sqrt{c^2 - b^2} = \sqrt{64 - 25} = \sqrt{39} \approx 6.245 \text{ cm}$$

$$\cos(\alpha) = \frac{b}{c} \Rightarrow \alpha$$

Beispiel 2.2

Gegeben: $\gamma = 90^\circ$, $b = 5\text{cm}$, $c = 8\text{cm}$

Gesucht: a , α , β



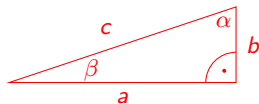
$$a = \sqrt{c^2 - b^2} = \sqrt{64 - 25} = \sqrt{39} \approx 6.245 \text{ cm}$$

$$\cos(\alpha) = \frac{b}{c} \quad \Rightarrow \quad \alpha = \arccos\left(\frac{5}{8}\right)$$

Beispiel 2.2

Gegeben: $\gamma = 90^\circ$, $b = 5\text{cm}$, $c = 8\text{cm}$

Gesucht: a , α , β



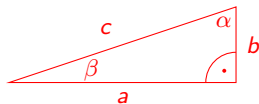
$$a = \sqrt{c^2 - b^2} = \sqrt{64 - 25} = \sqrt{39} \approx 6.245 \text{ cm}$$

$$\cos(\alpha) = \frac{b}{c} \Rightarrow \alpha = \arccos\left(\frac{5}{8}\right) \approx 51.318^\circ$$

Beispiel 2.2

Gegeben: $\gamma = 90^\circ$, $b = 5\text{cm}$, $c = 8\text{cm}$

Gesucht: a , α , β



$$a = \sqrt{c^2 - b^2} = \sqrt{64 - 25} = \sqrt{39} \approx 6.245 \text{ cm}$$

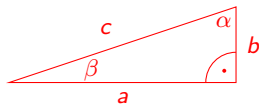
$$\cos(\alpha) = \frac{b}{c} \Rightarrow \alpha = \arccos\left(\frac{5}{8}\right) \approx 51.318^\circ$$

$$\sin(\beta)$$

Beispiel 2.2

Gegeben: $\gamma = 90^\circ$, $b = 5\text{cm}$, $c = 8\text{cm}$

Gesucht: a , α , β



$$a = \sqrt{c^2 - b^2} = \sqrt{64 - 25} = \sqrt{39} \approx 6.245 \text{ cm}$$

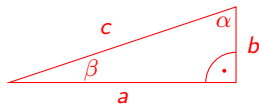
$$\cos(\alpha) = \frac{b}{c} \Rightarrow \alpha = \arccos\left(\frac{5}{8}\right) \approx 51.318^\circ$$

$$\sin(\beta) = \frac{b}{c}$$

Beispiel 2.2

Gegeben: $\gamma = 90^\circ$, $b = 5\text{cm}$, $c = 8\text{cm}$

Gesucht: a , α , β



$$a = \sqrt{c^2 - b^2} = \sqrt{64 - 25} = \sqrt{39} \approx 6.245 \text{ cm}$$

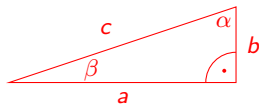
$$\cos(\alpha) = \frac{b}{c} \Rightarrow \alpha = \arccos\left(\frac{5}{8}\right) \approx 51.318^\circ$$

$$\sin(\beta) = \frac{b}{c} \Rightarrow \beta$$

Beispiel 2.2

Gegeben: $\gamma = 90^\circ$, $b = 5\text{cm}$, $c = 8\text{cm}$

Gesucht: a , α , β



$$a = \sqrt{c^2 - b^2} = \sqrt{64 - 25} = \sqrt{39} \approx 6.245 \text{ cm}$$

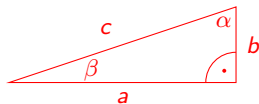
$$\cos(\alpha) = \frac{b}{c} \Rightarrow \alpha = \arccos\left(\frac{5}{8}\right) \approx 51.318^\circ$$

$$\sin(\beta) = \frac{b}{c} \Rightarrow \beta = \arcsin\left(\frac{5}{8}\right)$$

Beispiel 2.2

Gegeben: $\gamma = 90^\circ$, $b = 5\text{cm}$, $c = 8\text{cm}$

Gesucht: a , α , β



$$a = \sqrt{c^2 - b^2} = \sqrt{64 - 25} = \sqrt{39} \approx 6.245 \text{ cm}$$

$$\cos(\alpha) = \frac{b}{c} \Rightarrow \alpha = \arccos\left(\frac{5}{8}\right) \approx 51.318^\circ$$

$$\sin(\beta) = \frac{b}{c} \Rightarrow \beta = \arcsin\left(\frac{5}{8}\right) \approx 38.682^\circ \quad (\beta = 90^\circ - \alpha)$$

Beispiel 2.3

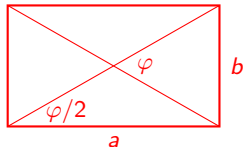
Gegeben: Rechteck mit $a = 13 \text{ cm}$, $b = 6 \text{ cm}$

Gesucht: der kleinere Schnittwinkel der beiden Diagonalen

Beispiel 2.3

Gegeben: Rechteck mit $a = 13 \text{ cm}$, $b = 6 \text{ cm}$

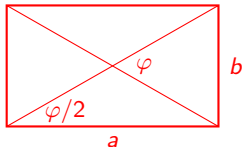
Gesucht: der kleinere Schnittwinkel der beiden Diagonalen



Beispiel 2.3

Gegeben: Rechteck mit $a = 13 \text{ cm}$, $b = 6 \text{ cm}$

Gesucht: der kleinere Schnittwinkel der beiden Diagonalen

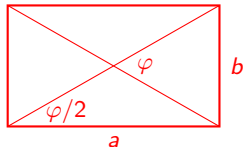


$$\tan\left(\frac{\varphi}{2}\right)$$

Beispiel 2.3

Gegeben: Rechteck mit $a = 13 \text{ cm}$, $b = 6 \text{ cm}$

Gesucht: der kleinere Schnittwinkel der beiden Diagonalen

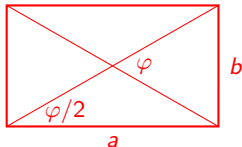


$$\tan\left(\frac{\varphi}{2}\right) = \frac{b}{a}$$

Beispiel 2.3

Gegeben: Rechteck mit $a = 13 \text{ cm}$, $b = 6 \text{ cm}$

Gesucht: der kleinere Schnittwinkel der beiden Diagonalen



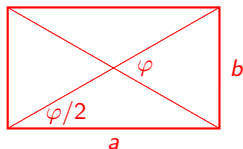
$$\tan\left(\frac{\varphi}{2}\right) = \frac{b}{a}$$

$$\frac{\varphi}{2} = \arctan\left(\frac{6}{13}\right)$$

Beispiel 2.3

Gegeben: Rechteck mit $a = 13 \text{ cm}$, $b = 6 \text{ cm}$

Gesucht: der kleinere Schnittwinkel der beiden Diagonalen



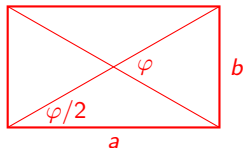
$$\tan\left(\frac{\varphi}{2}\right) = \frac{b}{a}$$

$$\frac{\varphi}{2} = \arctan\left(\frac{6}{13}\right) \Rightarrow \varphi = 2 \arctan\left(\frac{6}{13}\right)$$

Beispiel 2.3

Gegeben: Rechteck mit $a = 13 \text{ cm}$, $b = 6 \text{ cm}$

Gesucht: der kleinere Schnittwinkel der beiden Diagonalen



$$\tan\left(\frac{\varphi}{2}\right) = \frac{b}{a}$$

$$\frac{\varphi}{2} = \arctan\left(\frac{6}{13}\right) \Rightarrow \varphi = 2 \arctan\left(\frac{6}{13}\right) \approx 49.550^\circ$$

Beispiel 2.4

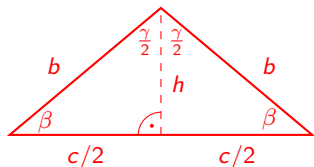
Gegeben: gleichschenkliges Dreieck mit $a = b$, $c = 10$ cm und $\gamma = 40^\circ$

Gesucht: Flächeninhalt A

Beispiel 2.4

Gegeben: gleichschenkliges Dreieck mit $a = b$, $c = 10$ cm und $\gamma = 40^\circ$

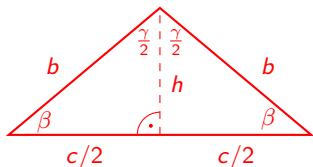
Gesucht: Flächeninhalt A



Beispiel 2.4

Gegeben: gleichschenkliges Dreieck mit $a = b$, $c = 10 \text{ cm}$ und $\gamma = 40^\circ$

Gesucht: Flächeninhalt A

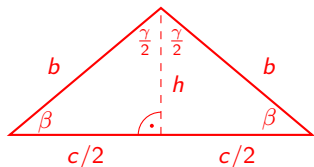


$$\tan\left(\frac{\gamma}{2}\right) = \frac{c/2}{h} = \frac{c}{2h}$$

Beispiel 2.4

Gegeben: gleichschenkliges Dreieck mit $a = b$, $c = 10 \text{ cm}$ und $\gamma = 40^\circ$

Gesucht: Flächeninhalt A

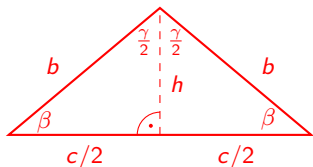


$$\tan\left(\frac{\gamma}{2}\right) = \frac{c/2}{h} = \frac{c}{2h} \Rightarrow h = \frac{c}{2 \tan(\gamma/2)}$$

Beispiel 2.4

Gegeben: gleichschenkliges Dreieck mit $a = b$, $c = 10 \text{ cm}$ und $\gamma = 40^\circ$

Gesucht: Flächeninhalt A



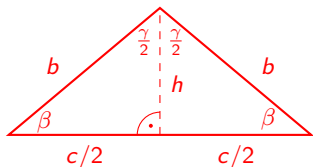
$$\tan\left(\frac{\gamma}{2}\right) = \frac{c/2}{h} = \frac{c}{2h} \quad \Rightarrow \quad h = \frac{c}{2 \tan(\gamma/2)}$$

$$A = \frac{c}{2} \cdot h$$

Beispiel 2.4

Gegeben: gleichschenkliges Dreieck mit $a = b$, $c = 10 \text{ cm}$ und $\gamma = 40^\circ$

Gesucht: Flächeninhalt A



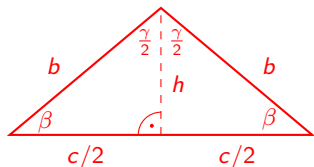
$$\tan\left(\frac{\gamma}{2}\right) = \frac{c/2}{h} = \frac{c}{2h} \Rightarrow h = \frac{c}{2 \tan(\gamma/2)}$$

$$A = \frac{c}{2} \cdot h = \frac{c}{2} \cdot \frac{c}{2 \tan(\gamma/2)}$$

Beispiel 2.4

Gegeben: gleichschenkliges Dreieck mit $a = b$, $c = 10 \text{ cm}$ und $\gamma = 40^\circ$

Gesucht: Flächeninhalt A



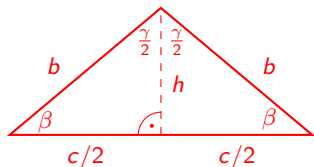
$$\tan\left(\frac{\gamma}{2}\right) = \frac{c/2}{h} = \frac{c}{2h} \Rightarrow h = \frac{c}{2 \tan(\gamma/2)}$$

$$A = \frac{c}{2} \cdot h = \frac{c}{2} \cdot \frac{c}{2 \tan(\gamma/2)} = \frac{25}{\tan(20^\circ)}$$

Beispiel 2.4

Gegeben: gleichschenkliges Dreieck mit $a = b$, $c = 10$ cm und $\gamma = 40^\circ$

Gesucht: Flächeninhalt A



$$\tan\left(\frac{\gamma}{2}\right) = \frac{c/2}{h} = \frac{c}{2h} \Rightarrow h = \frac{c}{2 \tan(\gamma/2)}$$

$$A = \frac{c}{2} \cdot h = \frac{c}{2} \cdot \frac{c}{2 \tan(\gamma/2)} = \frac{25}{\tan(20^\circ)} \approx 68.687 \text{ cm}^2$$

Beispiel 2.5

Ein Bahnstrecke hat auf einem Streckenabschnitt eine mittlere Steigung von 15‰. Berechnen den Steigungswinkel in Grad.

Beispiel 2.5

Ein Bahnstrecke hat auf einem Streckenabschnitt eine mittlere Steigung von 15‰. Berechnen den Steigungswinkel in Grad.

$$\tan(\varphi)$$

Beispiel 2.5

Ein Bahnstrecke hat auf einem Streckenabschnitt eine mittlere Steigung von 15‰. Berechnen den Steigungswinkel in Grad.

$$\tan(\varphi) = \frac{\text{Vertikaldistanz}}{\text{Horizontaldistanz}}$$

Beispiel 2.5

Ein Bahnstrecke hat auf einem Streckenabschnitt eine mittlere Steigung von 15‰. Berechnen den Steigungswinkel in Grad.

$$\tan(\varphi) = \frac{\text{Vertikaldistanz}}{\text{Horizontaldistanz}} = \frac{15}{1000}$$

Beispiel 2.5

Ein Bahnstrecke hat auf einem Streckenabschnitt eine mittlere Steigung von 15‰. Berechnen den Steigungswinkel in Grad.

$$\tan(\varphi) = \frac{\text{Vertikaldistanz}}{\text{Horizontaldistanz}} = \frac{15}{1000}$$

$$\varphi = \arctan(0.015) \approx 0.859^\circ$$

Beispiel 2.6

Welche Steigung hat die Gerade mit der Gleichung $g: y = \frac{2}{3}x + 1$?

Beispiel 2.6

Welche Steigung hat die Gerade mit der Gleichung $g: y = \frac{2}{3}x + 1$?

$\tan(\varphi)$

Beispiel 2.6

Welche Steigung hat die Gerade mit der Gleichung $g: y = \frac{2}{3}x + 1$?

$$\tan(\varphi) = \frac{\text{Vertikaldistanz}}{\text{Horizontaldistanz}} = \frac{\Delta y}{\Delta x}$$

Beispiel 2.6

Welche Steigung hat die Gerade mit der Gleichung $g: y = \frac{2}{3}x + 1$?

$$\tan(\varphi) = \frac{\text{Vertikaldistanz}}{\text{Horizontaldistanz}} = \frac{\Delta y}{\Delta x} = \frac{2}{3}$$

Beispiel 2.6

Welche Steigung hat die Gerade mit der Gleichung $g: y = \frac{2}{3}x + 1$?

$$\tan(\varphi) = \frac{\text{Vertikaldistanz}}{\text{Horizontaldistanz}} = \frac{\Delta y}{\Delta x} = \frac{2}{3}$$

$$\varphi = \arctan(2/3) \approx 33.69^\circ$$